

SORU CÜMLESİ

Bazı cümleler bize soru sorar. Bu cümlelere soru cümlesi (tümcesi) denir. Soru tümcesinin sonuna soru işareti (?) konulur.

Ali geldi mi ?

Kitap okudun mu ?

Nereye gidiyorsun?

Sen de yanıt yazılan cümlenin önüne sorusunu yazabilir misin?

Soru

Yanıt

Kaç yaşındasın?

→ Sekiz yaşındayım.

→ Eve gidiyorum.

→ Birinci sınıfta okuyorum.

→ Beş kalemim var.

→ Kantinden tost aldım.

→ Babam avukat.

→ Ödevimi yaptım.

❖ Aşağıda karışık olarak verilen kelimelerden anlamlı ve kurallı cümleler kurup cümleye büyük harfle başlayıp sonuna uygun noktalama işaretini yazabilir misin?

Cem - okumayı - kitap - seviyor - çok

derste - üzmiyorum - öğretmenimi - hiç - ben

tatilim - geçti - çok - güzel

çok - severim - Bütün - arkadaşlarımı

ÖZEL ADLAR

1. Aşağıdaki tümcelerde geçen özel adları örnekteki gibi karşlarına yazabilir misin?

Berke, Çomar'a kemik verdi.

→ Berke, Çomar

Maviş çok yaramazlık yaptı.

→

Sinop'u hiç görmedim.

→

Alperen, Ürgüp'e gezmeye gitti.

→

Uğur, kedimiz Pamuk'u çok sever.

→

2. Aşağıdaki tümcelerdeki özel adlara gelen ekleri kesme işareti (') ile ayırarak, yazmayı unutmuşlar. Sen cümleleri kesme işaretlerinin koyarak yeniden doğru olarak yazabilir misin?

Murat Kayseriye gitti.

→ Murat Kayseri'ye gitti.

Atatürkün doğduğu yer Selaniktir.

→

Kedim Minnoşu çok severim.

→

Sude Malatyayı çok seviyor.

→

Büşrayla Edirneye gideceğiz.


→

Aşağıdaki cümlelerin sonuna uygun noktalama işaretlerini koyunuz.

Sıra arkadaşımı tanıyor musun	Teneffüste top oynadı
Ayy arı sokacak	Dolaptan pamuk verir misin
Öğretmenimi yolda gördüm	Dikkat
Yaşasın karne alacağız	Gelmeyeceğim
Masayı hazırlayayım mı	Üşüyor musun

GEOMETRİK ŞEKİLLER


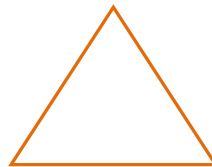
♣ Aşağıda verilen geometrik şekillerde kenarları kırmızıyla ,köşeleri maviyle gösteriniz.



♣ Aşağıda özellikleri verilen geometrik şekli karşısındaki bölüme cetvel kullanarak çiziniz.

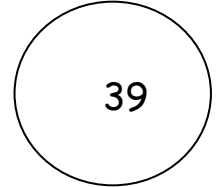
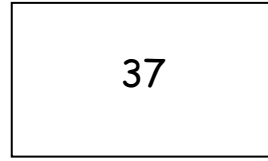
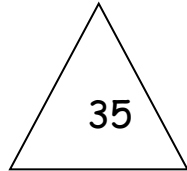
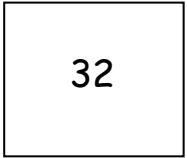
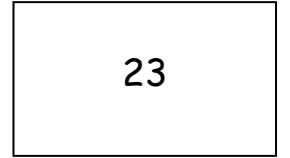

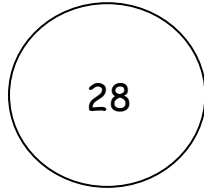
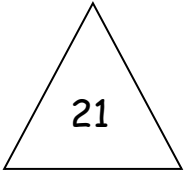
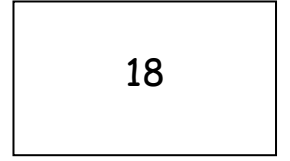
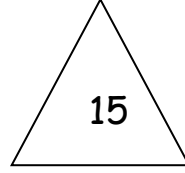
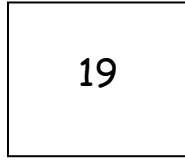
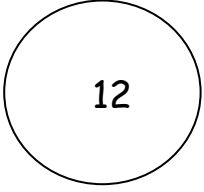

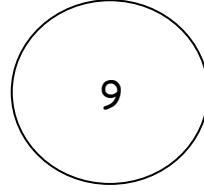
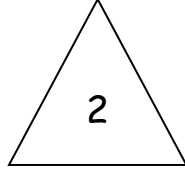
<ul style="list-style-type: none">• Kenarı ve köşesi yoktur.	
<ul style="list-style-type: none">• Birbirine eşit 4 kenarı var.• 4 köşesi var.	
<ul style="list-style-type: none">• 3 kenarı var.• 3 köşesi var.	
<ul style="list-style-type: none">• 4 kenarı var.Karşılıklı kenarları birbirine eşittir.• 4 köşesi var.	

♣ Aşağıdaki geometrik şekillerin altına isimlerini yazınız.



GEOMETRİK ŞEKİLLER ETKİNLİK

1 - Şekilleri inceleyerek aşağıdaki soruları cevaplayınız.



1 -Karenin İçindeki Sayılar :

2-Üçgenin İçindeki Sayılar :

3-Çemberin İçindeki Sayılar :

4-Dikdörtgenin İçindeki Sayılar :