




HAYAT BİLGİSİ DERSİ SORULARI

1. Dondurmamız yere düşünce ne hissederiz?
A) üzülürüz B) heyecanlanırız C) seviniriz
2. Aşağıdakilerden hangisi okulda çalışmaz?
A) hizmetli B) berber C) memur
3. Deprem çantasında hangisi olmaz?
A) su, kuru gıda B) gazete, dergi C) el feneri, düdük
4. Merve, evde hayvan beslemek istiyor. Merve, hangi hayvanı evde besleyemez?
A)  B)  C) 
5. Aşağıdaki eşleştirmelerden hangisi doğrudur?
A) eşek – ot ile beslenir. B) aslan – ot ile beslenir. C) kartal – ot ile beslenir
6. Aşağıdaki hayvanlardan hangisi ağılda yaşamaz?
A) koyun B) tavuk C) keçi
7. Kuşlar hangi mevsimde sıcak ülkelere göç ederler?
A) sonbahar B) yaz C) kış
8. Yemeğin tadını hangi duyu organımızla alırız?
A) gözümüzle B) burnumuzla C) dilimizle
9. Bir yaşındaki kardeşim hangi oyunu oynayamaz?
A) çingirak B) körebe C) yürüteç
10. Bir insanın kendi hayatını anlattığı yazıya ne denir?
A) masal B) öz geçmiş C) şiir
11. Aşağıdaki canlılardan hangisi yer değiştiremez?
A) insanlar B) hayvanlar C) bitkiler

TÜRKÇE

1. Hangisi ünlü(sesli) harftir?

a- z b-u c- g

2. Hangi kelime 3 hecelidir?

a- Sevgi b- Ben c- Adalet

3. Hangisi isimdir?

a- duymak b- halı c- gel

4. Hangisi özel isimdir?

a- Ahmet b- Ev c-Kedi

5. Hangisi tür(cins) isim değildir?

a- Arnavutköy b-Anne c- Tuz

6. Zıt anlam eşleştirmelerinden hangisi yanlıştır?

a- gece-yıldız b- iyi-kötü c- şişman-zayıf

7. Eş anlam eşleştirmesinden hangisi doğrudur?

a- ihtiyar – dede b- kral – kraliçe c- ufak – küçük

8. Aşağıdaki cümlelerin hangisinde özel isimlerin yazılışında yanlışlık yapılmıştır?

a- Ayşe'ye hediye aldım. b- Öğretmen Ahme'ti uyardı. c- Alp çalışkan bir öğrenci.

9. "Nehir okula gelmedi?."

Yukarıdaki cümlede noktalı yere hangisi gelirse soru cümlesi olur?

a- niçin b- bugün c- zaten

10. "Kırtasiyeden kalem () defter ve pastel boya aldım ()."

Yukarıdaki cümlede parantez içlerine sırasıyla hangi noktalama işareti gelmelidir?

a- (,) – (.) b- (?) – (.) c- (,) – (?)

11. "Yaz Mevsimi." Aşağıdakilerden hangisini çağırıştırılmaz?

a-Tatil b-güneş c-Kardan adam

12. Aşağıdaki cümlelerin hangisinde kesme işaretinin(') kullanımında yanlışlık yapılmıştır?

a- Kamil'in bisikleti var. b- Öğretmen tahta'yı sildi. c- Yusuf'a sürpriz yaptık

13. "Nuri yaramazlık yapıyor." Cümlesinde aşağıdakilerden hangisinin cevabı vardır?

a- Kim ? b- Neyi? c- Ne zaman?

14. Aşağıdaki cümlelerden hangisinin sonuna ünlem işareti konmalıdır?

a-Eyvah, kitabımı evde unuttum() b-Basketbolu çok severim () c-Kazağımı bulamıyorum ()

15. "Günde iki bardak süt içiyorum." Cümlesi aşağıdaki sorulardan hangisinin cevabıdır?

a- Ne kadar süt içiyorsun? b- Süt içmeyi sever misin? c- Süt içmek faydalı mıdır?

STANDART OLMAYAN UZUNLUK ÖLÇÜLERİ ETKİNLİĞİ



Parmak



karış



kulaç



ayak



adım

Aşağıda verilenlerin uzunluklarını ne ile ölçülebileceğini altlarına yazın.

Kumaş : Kaldırımın genişliği :

Kitabın kalınlığı : Satır başı :

Bahçenin uzunluğu : Tahtanın uzunluğu:.....

Sıranın boyu : Masanın yüksekliği:.....

Duvarın uzunluğu : Kapının yüksekliği :

Aşağıdaki cümlelerde boş yerlere uygun kelimeleri getirin.

Parmak

karış

kulaç

ayak

adım

1.) Elimizin baş parmağı ile serçe parmağı arasındaki mesafeye denir.

2.) Ayak baş parmağımız ile topuğumuz arasındaki mesafeye..... denir.

3.) Ayaklarımızı öne doğru açtığımızda öndeki ve arkadaki ayağımız arasındaki mesafeyedenir

4.) İki kolumuzu açtığımızda kollarımız aramızdaki mesafeye..... denir.

5.) El parmağının eni kadar olan mesafeye.....denir.

Aşağıda verilenleri birbiri ile örnekteki gibi eşleştirin.

AYAK

ADIM

KULAÇ

KARIŞ

PARMAK



*Aşağıdakilerden hangisinin uzunluğu adımla ölçülmez?

A) Sınıfımızın boyu

B) Odamızın boyu

C) Kalemimizin boyu

*Aşağıdaki eşyaların kaç karış olduklarını ölçerek yazınız.

televizyon karış

buzdolabı karış

sehpa karış

*Aşağıdakilerin hangisiyle bir şeyin uzunluğu ölçülmez?

A) burun

B) el

C) ayak

*Kimin adımı daha uzun olur?

A) küçük kardeşimizin

B) benim

C) babamızın

* Eşleştirme yap.

pencerenin uzunluğu

adım

kalemin uzunluğu

karış

okul bahçesinin uzunluğu

parmak

* Ali, masanın boyunu ölçtüğünde masanın uzunluğunun 7 karış olduğunu bulmuş. Babası aynı masayı ölçtüğünde 4 karış oluyormuş. İkisi neden aynı değilmiş?

Aşağıda verilen uzunlukları belirtilen uzunluk ölçüsü cinsinden ölçüp yazınız.

1) Koridorun uzunluğu adım kadardır.

2) Odamızın penceresi kulaç kadardır.

3) Çantamın boyu karış kadardır.

4) Halımızın boyu ayak kadardır.

5) Su bardağının boyu parmak kadardır.

6) Kitabımın boyu karış kadardır.

7) Çalışma masamın boyu ayak kadardır.