

TEKİL VE ÇOĞUL ADLAR

Tekil ad: Tek bir varlığı bildiren adlardır.

Çoğul ad: Birden çok varlığı bildiren adlardır. Tekil adlara –ler, -lar ekini eklersek çoğul olur.



ÖRNEK:

Yıldız

Bir tek varlığı bildirdiği için tekildir.



Yıldızlar

Birden çok varlığı bildirdiği için çoğuldur.

UNUTMAYALIM: Deste, düzine, küme, sürü, aile, ordu, alay, grup... gibi sözcükler çoğul eki almamıştır. Tekil oldukları halde topluluk anlamındadırlar. Tekil oldukları halde çokluk ifade eden sözcüklere **topluluk adı** denir.

Aşağıdaki sözcüklerin karşılıklarına çoğul hallerini yazalım.

Limon:

Kayısı:

Poğaç:

Badem:

Çiftlik:

Yanlış:

Kitap:

Koltuk:

Lahana:

Karnabahar:.....

Aşağıdaki sözcüklerin karşılıklarına tekil hallerini yazalım.

Çilekler:

Vişneler:

Balıklar:

Pastalar:

Mektuplar:

Hırkalar:

Dağlar:

İğneler:

Civcivler:

Mısırlar:

Aşağıdaki tabloda yer alan adları türlerine göre X ile işaretleyelim.

İSİMLER	TEKİL AD	ÇOĞUL AD
havuç		
laleler		
kaplumbağalar		
otobüs		
bayraklar		
palyaço		
kaplan		
kiviler		

Aşağıdaki sözcüklerden Tekil Adların başına "T", Çoğul Adların başına "Ç" koyalım.

Ç insanlar

incir

kelebekler

ceviz

filler

geyikler

tavşanlar

öğrenci

lahana

civcivler

çilek

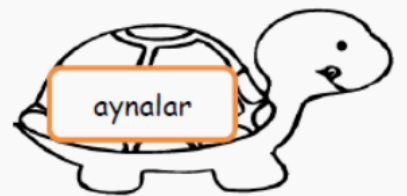
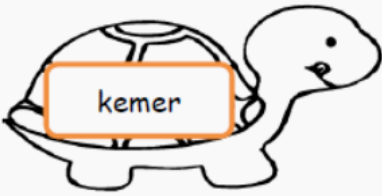
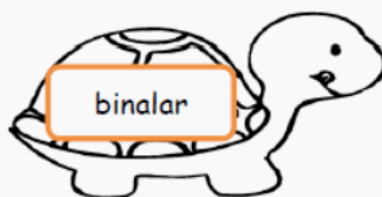
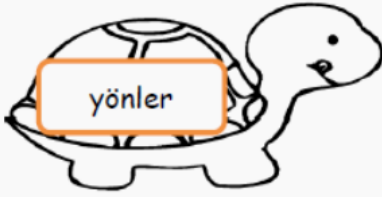
saat

toka

eczaneler

evler

Aşağıdaki kaplumbağaların bazıları Çoğul İsimdir. Çoğul olanları bulup istediğimiz renge boyayın.



PROBLEMLER

1. Bir baloncunun 75 tane balonu vardı. Dün 32 tanesini bugün de 26 tanesini sattı. Elinde satmadığı kaç balonu kaldı?
2. Bir sepette 7 onluk, 3 birlik kadar yumurta vardı. Bu yumurtaların 5 birlik, 2 onluğu kırıldı. Sepette kaç yumurta kaldı?
3. Kemal 11, annesi 32, babası ise annesinden 3 yaş büyüktür. Buna göre üçünün yaşlarının toplamı kaç olur?
4. Bir otobüste bulunan 53 yolcunun 26'sı erkek, 19'u kadın ve geriye kalanları çocuktur. Otobüste kaç çocuk vardır?
5. Sınıfımızda 17 erkek ve 15 kız öğrenci vardır. Buna göre sınıfımızın mevcudu kaçtır?
6. İki basamaklı en büyük sayının 30 eksikinin, 18 fazlası kaçtır?

7. 86 yolcu ile hareket eden bir trene ilk istasyonda 13, ikinci istasyonda 24 yolcu binmiştir. Buna göre trende kaç yolcu olmuştur?

8. 95 liram vardı. 35 liraya gömlek, 55 liraya da pantolon aldım. Kaç liram kalır?

9. Kumbaramda 35 liram vardı. Annem 20, babam ise 14 lira verdi. Şimdi kaç liram oldu?

10. Bir bahçede 18 vişne, 20 kiraz ve 36 şeftali ağacı vardır. Buna göre bahçede toplam kaç ağaç vardır?

11. Ben 15, kardeşim ise 12 yaşındadır. 4 sene sonra ikimizin yaşları toplamı kaç olur?

12. Cebimdeki paranın 43 lirasını harcıyınca 35 liram kaldı. Paramı harcamadan önce kaç liram vardı?

Cevaplar :

32	35	5	87	78	8
69	48	78	17	123	74