

## SÜTUN GRAFİĞİ OLUŞTURMA

A) Mahallemiz sakinleri arasında bir araştırma yapan muhtarımız mahallelinin en çok harcama yaptığı 5 alanı belirlemiştir. Buna göre mahallemizde;

\* 5 aile eğitim \* 20 aile ulaşım \* 15 aile giyim \* 30 aile mutfak

Masraflarının en fazla olduğunu bildirmiştir. Bu duruma göre mahallemizdeki araştırmanın çetele ve sıklık tablosunu oluşturunuz.

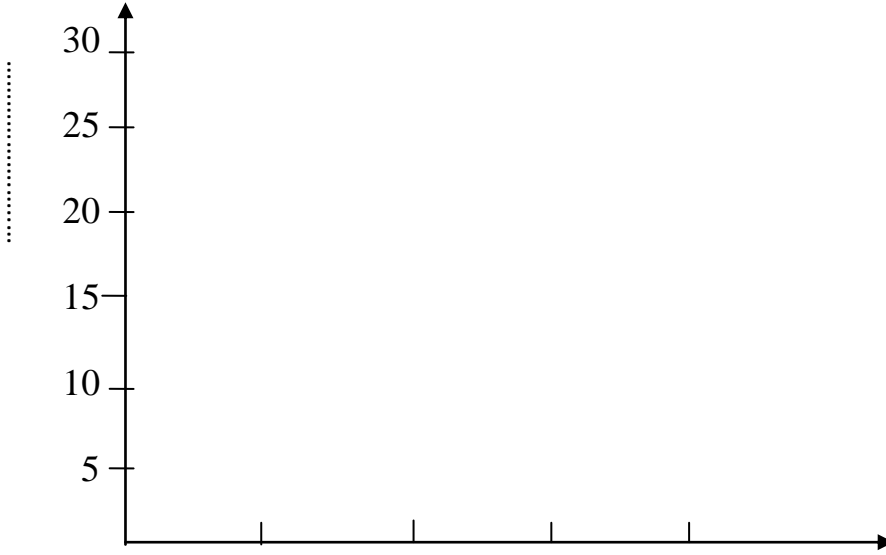
Tablo:.....

..... TABLOSU	

Tablo:.....

..... TABLOSU	

Şimdi de bu verilere göre bir sütun grafiği oluşturunuz.



B) Çetele ve sıklık tablosu veri toplarken kullanılan tablolardır. Aşağıda bir çetele ve bir sıklık tablosu verilmiştir. Buna göre tablolarda yer alan boşlukları birbirinden yola çıkarak tamamlayınız.

Tablo: Öğrencilerin sevdiği meyveler

ÇETELE TABLOSU	
Meyve adı	Kişi sayısı
Kiraz	<del>HHH</del> <del>HHH</del> <del>HHH</del>
Elma	.....
.....	<del>HHH</del> <del>HHH</del> <del>HHH</del> I
Erik	<del>HHH</del> III
.....	.....
Karpuz	.....

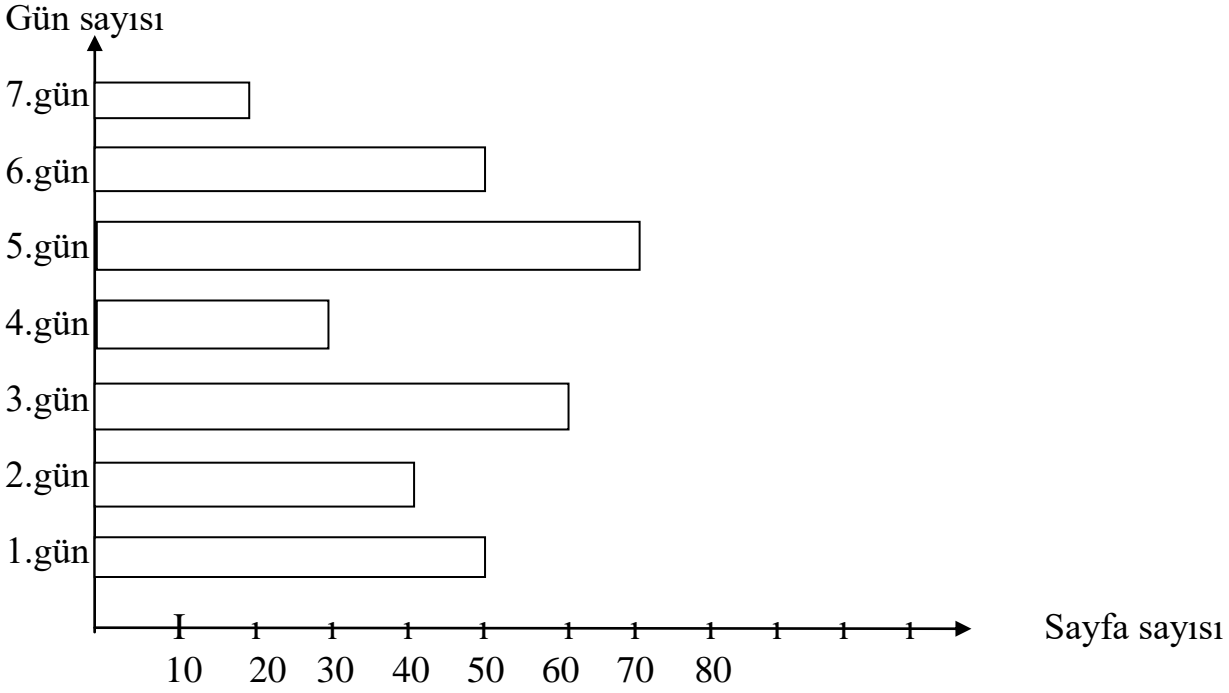
Tablo:.....

SIKLIK TABLOSU	
.....	.....
.....	18
Muz	.....
.....	.....
Mandalina	24
.....	12

## SÜTUN GRAFİĞİNİ YORUMLAMA

Aşağıda verilen sütun grafiğinden yola çıkarak soruları cevaplayınız.

Grafikte benim bir haftalık kitap okuma sayfa sayım gösterilmiştir.



1. Ali Mert Çarşamba günü kaç sayfa kitap okumuştur?

.....

2. Ali Mert'in en çok kitap okuduğu gün hangi gündür?

.....

3. Ali Mert'in 7. Gün okuduğu sayfa sayısı Çarşamba gün okuduğundan kaç sayfa eksiktir?

.....

4. Ali Mert toplam kaç sayfa kitap okumuştur?

.....

5. Cuma günü okuduğu sayfa sayısı Salı günü okuduğundan kaç fazladır?

.....

6. Ali Mert hafta sonu kaç sayfa kitap okumuştur?

.....









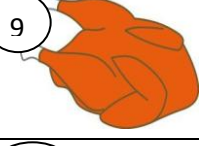





















7. Grafikle ilgili bir soru da siz yazıp sıra arkadaşınıza sorar mısınız?

.....

## İHTİYAÇLARIMIZ VE İSTEKLERİMİZ

İhtiyaç insan yaşamı için gerekli olan ve yokluğunda sıkıntı çekilen koşul ya da maddelerdir. İstek ise belirli bir ihtiyacı karşılayacağı düşünülen nesne ve duruma karşı duyulan arzudur.

Aşağıdaki tabloda verilen resimlerden hangileri ihtiyaç hangileri istektir. Uygun buluta numaralarını yazınız.

1		2		3		4		5		6	
7		8		9		10		11		12	
13		14		15		16		17		18	
19		20		21		22		23		24	
25		26		27		28		29		30	

İHTİYAÇ

İSTEK

B) Aşağıdaki ihtiyaçlardan sosyal ihtiyaç olanlara "S", temel ihtiyaç olanlara "T" yazınız.

- Yeni bir kazak almak
- Kahvaltıda süt içmek
- Parkta oyun oynamak
- Marketten ekmek almak
- Günde üç öğün yemek

- Ailece pikniğe gitmek
- Okula gitmek
- Hava durumuna göre
- Şarkı dinlemek
- Ev sahibi olmak

C) Ben önce temel ihtiyaçlarımı, sonra zorunlu ihtiyaçlarımı, daha sonra sosyal ihtiyaçlarımı ve son olarak da kültürel ihtiyaçlarımı karşılarım.

Kerem'in açıklamasına göre aşağıdaki listede yer alanları öncelik sırasına göre numaralandırınız.

- Arkadaşım ile oyun oynamak
- Kahvaltı yapmak
- Ödevlerimi yapmak
- Bilgisayarda araştırma yapmak
- Biten kalemin yenisini almak
- Tiyatroya gitmek

- Bir evde yaşamak
- İzmir'e tatile gitmek
- Arkadaşım ile pastaneye gitmek
- Yeni bir çanta almak
- Kahvaltı için alışveriş yapmak
- İngilizce kursuna gitmek

## İSTEK VE İHTİYAÇLARIMIZ

Aşağıdaki ürünlerden ihtiyacınız olanları kırmızı kalemle ve olmasını istediklerinizi kurşun kalemle işaretleyerek belirtiniz.

ÜRÜNLER	İSTEKLERİMİZ	İHTİYAÇLARIMIZ
KABAN		
AYAKKABI		
PANTOLON		
ETEK		
RESİM DEFTERİ		
OKUL ÇANTASI		
HAMBURGER		
FUTBOL TOPU		
BEZ BEBEK		
SANAL GERÇEKLİK GÖZLÜĞÜ		
RAKET		
SİLGİ		
PİZZA		
DÖNER		
PİDE		
ÇORAP		
MENDİL		
GÖMLEK		
GÖZLÜK		
BİLGİSAYAR		
CEP TELEFONU		
TABLET		
BİSİKLET		
KAYKAY		
PATEN		
KASK		
DİZLİK		
MEYVE SUYU		
GOFRET		
ÇİKOLATA		
KEMER		