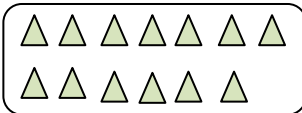
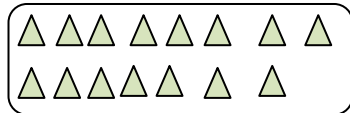
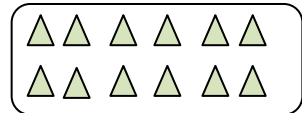


TÜRKÇE DERSİ SORULARI

1. "Dört çocuklu bir aile geziye çıkmış.." cümlesinde kaç tane kelime vardır?
A) yedi B) altı C) beş
2. "Babam balık tutmak için yeni olta almaya gidiyor.." cümlesinde baştan beşinci kelime hangisidir? A) olta B) için C) yeni
3. Alfabemizin birinci ve sonuncu harfleri hangileridir?
A) a, z B) a, y C) b, z
4. "aldı.." kelimesi hangi cümlenin sonuna yazılırsa anlamlı cümle olur?
A) Öğretmenim bana pekiyi B) Babam bana kırmızı bir bisiklet C) Arkadaşım bozuk saatini
5. "Kaç kardeşin var ()." cümlesinin sonuna hangi noktalama işareti konulmalıdır?
A) nokta B) soru işareti C) ünlem işareti
6. "Arı – kovan ." kelimelerindeki ilişki hangi kelime çiftinde vardır?
A) tavuk - kümes B) ev – apartman C) koyun – kuzu
7. "Yalçın, fakir bir ailenin çocuğudur.." cümlesinde koyu yazılı sözcüğün zıt anlamlısı hangisidir? A) yoksul B) dilenci C) zengin
8. "pis ." sözcüğünün yerine hangisini kullanırsak cümlenin anlamı değişmez?
A) Burası çok karmaşık. B) Burası çok kirli. C) Burası çok temiz.
9. Hangisi iki sözcükten oluşmuş birleşik bir kelimedir?
A) pırasa B) karınca C) karabiber
10. Hangi kelime diğerlerinden farklıdır?
A) Ankara B) Samsun C) Ayşe
11. Hangisi alfabemizin beşinci harfi ile başlayan bir sözcüktür?
A) demir B) çikolata C) elektrik

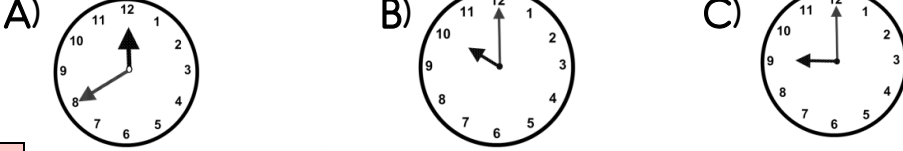
MATEMATİK DERSİ SORULARI

12. Aşağıdaki grupların hangisinde 13'den az üçgen vardır?
A)  B)  C) 
13. Onar onar ileriye doğru ritmik sayarken atmıştan sonra hangi sayıyı söyleriz?
A) 61 B) 70 C) 65
14. "21 ." sayısı hangi sayıların arasındadır?
A) 20 - ... - 22 B) 19 - ... - 20 C) 21 - ... - 23
15. "9 + 2 + 6 = △ ." işleminde △ yerine hangi sayı yazılmalıdır?
A) 17 B) 11 C) 15

16. Tabaktaki çileklerin yarısını yedim. Geriye 6 çilek kaldı. Yemeden önce tabakta kaç çilek vardı? A) 7 B) 10 C) 12
17. Mehmet cebindeki 20 fıncığın 3'ünü Orhan'a, 8'ini Ahmet'e verdi. Mehmet'in cebinde kaç fıncığı kaldı? A) 9 B) 10 C) 11

18. "AABCCCAABCCCAABCC", yandaki örüntünün kuralı hangisidir? A) iki A, bir B, üç C B) iki B, bir A, üç C C) iki A, iki B, üç C

21. Aşağıdaki saatlerden hangisi "saat:9" u göstermektedir?



22. Dün pazartesiydi. Yarın günlerden ne olacak?

- A) perşembe B) cumartesi C) çarşamba

HAYAT BİLGİSİ DERSİ SORULARI

23. Hangi kaynak mutlaka evimizde olmalıdır?

- A) su B) kömür C) doğal gaz

24. Hangisi doğal afet değildir?

- A) deprem B) rüzgâr C) çığ

25. Atatürk, Kurtuluş Savaşı'nı nerede başlattı?

- A) Selanik'te B) Samsun'da C) Antalya'da

26. Aşağıdaki hayvanlardan hangisi sürünerek hareket eder?

- A) fil B) tavuk C) yılan

27. Eskimiş eşyaların görüntüsü nasıl olur?

- A) Renkleri solmuştur, yıpranmıştır. B) Renkleri yenidir ve sağlamdır.
C) Parlak renklidir ve güzel kokar.

28. Aşağıdaki kıyafetlerden hangisi kışın giyilmez?

- A) atkı B) mayo C) eldiven

29. Kışın, kartopunu alıp sobanın yanına koydum. Sonra ne oldu?

- A) eridi B) değişmedi C) dondu

30. Aşağıdakilerden hangisi çevre kirliliğine neden olur?

- A) Çöpleri çöp kutusuna atmak. B) Çevremize ağaçlar dikmek.
C) Fabrika bacalarından çıkan zehirli gazlar.

31. Babamızın erkek kardeşine ne deriz?

- A) enişte B) amca C) dayı

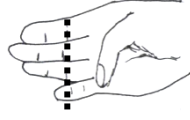
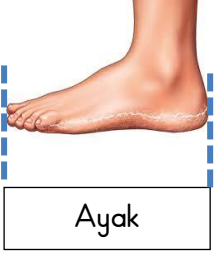
32. Doğal afetlere uğrayanlara hangi kuruluş yardım eder?

- A) Müzeler B) Kızılay C) Yeşilay

33. Ulusal Egemenlik ve Çocuk Bayramı'nı hangi ayda kutlarız?

- A) Mart B) Ocak C) Nisan


UZUNLUK ÖLÇÜLERİ (STANDART OLMAYAN ÖLÇMELER)



Aşağıda öğretmeninizin seçtiği bazı eşya ve yerlerin isimleri yazmaktadır. Bunların yukarıdaki uzunluk ölçme birimleriyle ölçüp uzunluklarını tabloda yazarak gösteriniz.



Halının boyu
5 adımdır.



Halının eni
8 ayaktır.

Halının eni
2 kulaçtır.

Halının boyu
7 karıştır.

	PARMAK	KARIŞ	AYAK	ADIM	KULAÇ
Halı	-	10	8	5	2
Defter					
Masa					
Yatağımın boyu					
Televizyon					
Koltuk					
Kapı					

Yukarıya sizde evinizde veya çevrenizde bulunan eşyalar yazarak standart olmayan ölçülerle ölçünüz ve sonucunu karşısına yazınız. Küçük eşyaları parmak ve karış ile büyük eşyaları adım, kulaç ve ayak ile ölçelim. Ölçülemeyenlere kısa çizgi (-) koyunuz.

STANDART OLMAYAN ÖLÇÜ BİRİMLERİYLE ÖLÇME ÇALIŞMASI

Odamin **boyunu** ölçtüm.....kulaç geldi.

Odamin **enini** ölçtüm.....kulaç geldi.

Odamin **boyu**, odamin **eninden**kulaçdir.

Çalışma masamın **boyu**.....karış geldi.

Çalışma masamın **eni**.....karış geldi.

Çalışma masamın **boyu**, **eninden**karış.....dir.

Masamın **eni ile boyunun toplamı**.....karıştır.

Matematik kitabımın **boyu**.....parmak geldi.

Matematik kitabımın **eni**parmak geldi.

Kitabın **boyu**, **eninden**parmakdir.

Aşağıda verilen uzunlukları, parmak, karış, adım, ayak, kulaçtan hangi ile ölçmek daha uygun olur.

Evimiz ile okul arası	
Elbise dolabımızın boyu	
Sıramın eni ve boyu	
Kalemimin boyu	
Okul bahçesinin uzunluğu	
Defterimin eni ve boyu	
Cep telefonunun boyu	
Oturma odasının boyu	

Sayın veli: bu çalışmayı yaparken öğrencime yardımcı olalım.Unutmayalım ki yaşayarak-yaparak öğrenme daha kalıcı olur.