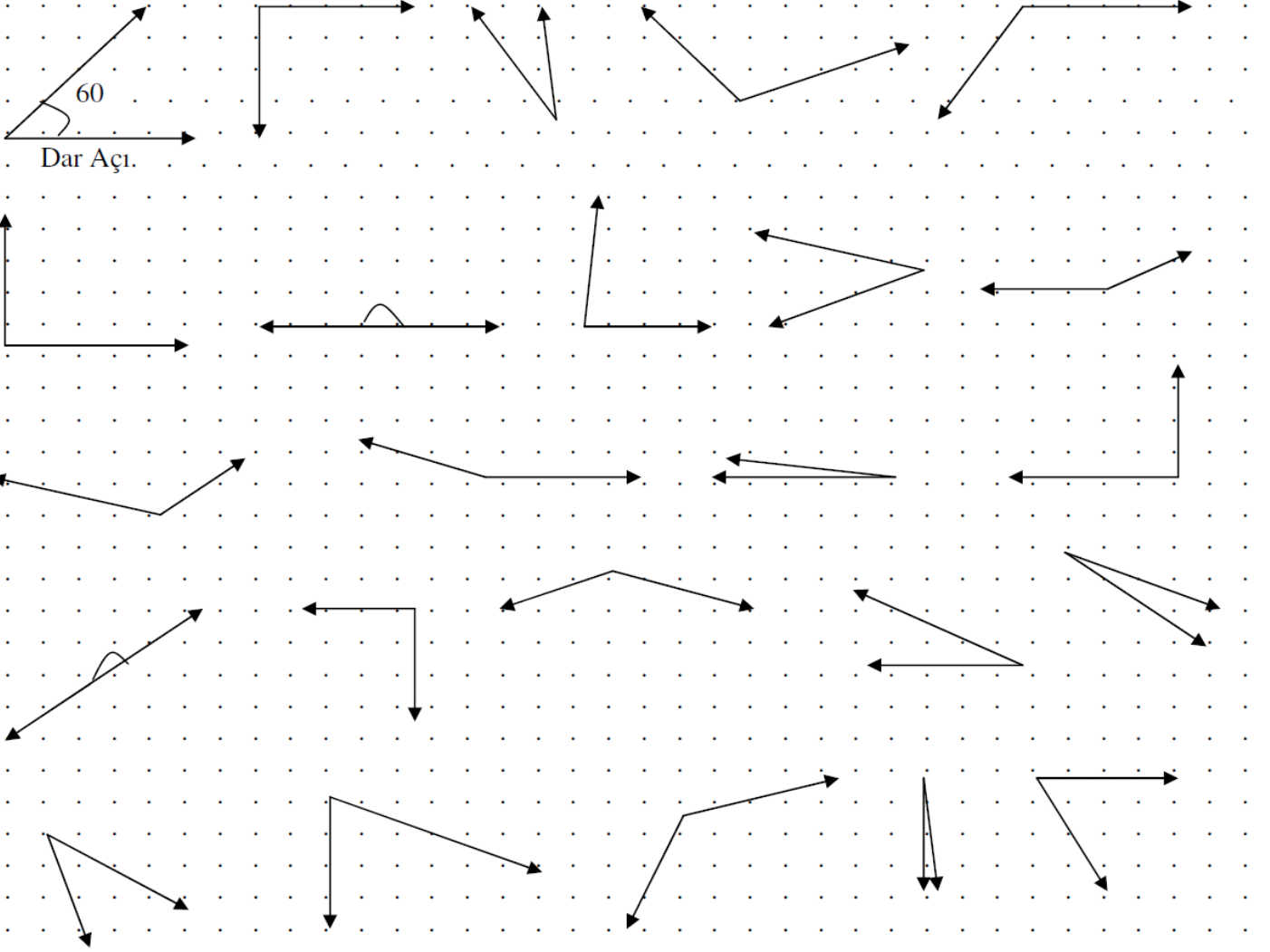


Aşağıdaki açıları, açıölçerinizle ölçerek altlarına hangi çeşit açı olduklarını yazınız. Kaç derece olduklarını da iç taraflarına örnekteki gibi belirtiniz.



* Üç tane çeşitli şekillerde **dik açı** çiziniz*. Ölçülerini de içlerine yazınız..

* Üç tane çeşitli şekillerde **dar açı** çiziniz*. Ölçülerini de içlerine yazınız.

* Üç tane çeşitli şekillerde **geniş açı** çiziniz*. Ölçülerini de içlerine yazınız.

* Bir tane doğru açı çiziniz.

AÇI ÇEŞİTLERİ

Aşağıda ölçüleri verilen açıların hangi çeşit açı olduklarını karşılarna yazınız. Örnekteki gibi nedenini de belirtiniz.

AÇI	AÇI ÇEŞİDİ	HANGİ AÇI OLDUĞUNUN NEDENİ
65 Derece	Dar açıdır.	Çünkü 90 dereceden küçüktür.
110 Derece		Çünkü
47 Derece		Çünkü
89 Derece		Çünkü
125 Derece		Çünkü
90 Derece		Çünkü
26 Derece		Çünkü
91 Derece		Çünkü
176 Derece		Çünkü
55 Derece		Çünkü
115 Derece		Çünkü
139 Derece		Çünkü
179 Derece		Çünkü
180 Derece		Çünkü

-----Aşağıda verilen ölçümlerin hangi çeşit açı olduğunu bulunuz.-----

* **Dar** açı olanların kutusunu **kırmızı** ile;

* **Dik** açı olanların kutusunu **yeşil** ile;

* **Geniş** açı olanların kutusunu **mavi** ile;

* **Doğru** açı olanların kutusunu ise **sarı** ile boyayınız.

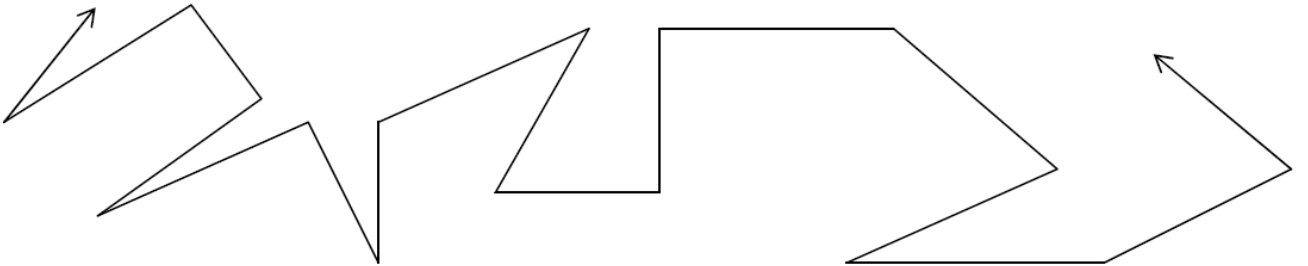
45	
160	
32	
90	
87	
120	
156	
79	
180	
66	
77	
149	
25	
90	
34	

87	
136	
55	
88	
90	
71	
180	
171	
24	
12	
39	
101	
90	
180	
8	

93	
44	
112	
177	
51	
90	
105	
180	
14	
62	
129	
82	
11	
109	
83	

1	
179	
58	
33	
75	
47	
16	
133	
15	
155	
180	
90	
4	
161	
99	

* * Aşağıdaki şekilde kaç tane dar , geniş ve dik açı vardır. Noktalı yerlere yazınız. * *



..... tane dar açı var.

..... tane geniş açı var.

..... tane dik açı var.

BÜTÇE OLUŞTURUYORUM - DEĞERLENDİRME

üretim

faturasını

giderlerimizi

alışveriş

gelir

meslek

ihtiyaçlarımıza

bilinçli

bütçesine

TSE

israf

gider

A) Verilen kelimeleri kullanarak cümleleri doğru olacak şekilde tamamlayınız.

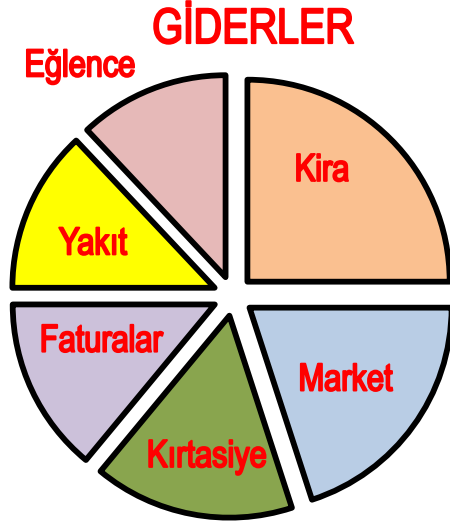
- 1) Alışverişte önceliği..... vermeliyiz.
- 2) Mal ve hizmet olarak yeni şeyler ortaya koymayadenir.
- 3) Bilinçli bir tüketici aldığı ürünün..... alır.
- 4) Bütçe oluştururken gelir vedengelemeliyiz.
- 5) tüketici, ihtiyaç duymadığı bir ürünü satın almaz
- 6) Kaynakları tasarruflu kullanarak aile..... katkı sağlar.
- 7) Bir kişinin ihtiyaçlarını karşılamak için yaptığı işe..... denir.
- 8) Ülkemizde ürünlerin standartlara uygunluğunuTSE denetler.
- 9) Belirli bir süre içinde, belirli yerlerden kazandığımız paraya denir.
- 10) Varolan kaynakların hesapsız olarak harcanmasına.....denir.
- 11) Bir kişinin kendisinin ve ailesinin geçimini sağlamak için sürekli yaptığı işe.....denir.
- 12) Bir hizmet ya da ürün karşılığı harcanan parayadenir.

B) Verilen ifadelerin, başındaki kutucuğa doğru ise “ D ” yanlış ise “ Y ” yazınız.

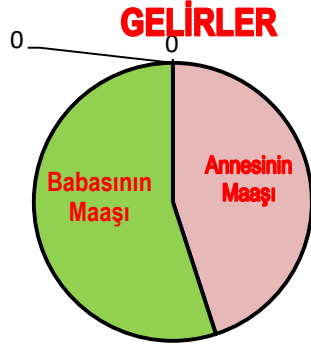
1		İhtiyaçlarımızdan artan para ile isteklerimizi karşılayabiliriz.
2		Alışveriş yaparken pahalı ürün satan marketleri tercih etmeliyiz.
3		Alacağımız ürünlerin poşetlerinin temiz ve şeffaf olması gerekir.
4		Ürünlerin üzerinde TSE damgası olmayanları almalıyız.
5		İçecek alırken plastik kap yerine şişede olanları tercih etmeliyiz.
6		Alışveriş yaptıktan sonra para üstünü ve fişi kontrol etmemeliyiz.
7		Özellikle gıda ürünlerinde üretim ve son kullanma tarihi olmalıdır.
8		Gıda maddeleri alırken garanti belgesi istemeliyiz.
9		Aile bütçesine katkı sağlamak için önce isteklerimizi karşılamalıyız.
10		Ailenin temel ihtiyaçlarını karşılamak için yapılan harcamaya gelir denir.
11		Dayanıklı tüketim mallarını satın alırken garanti süreleri önemlidir.

BÜTÇE OLUŞTURUYORUM

* Aşağıda bir ailenin gelir - giderlerine ait tablo ve grafikler verilmiştir. Bunlara göre soruları cevaplayınız.



Kira	1200 TL
Market	1000 TL
Kırtasiye	900 TL
Faturalar	600 TL
Yakıt	600 TL
Eğlence	600 TL
Toplam	4900 TL



Babanın maaşı	4000 TL
Annenin maaşı	3000 TL
Toplam	7000 TL

- 1) Ailenin toplam geliri kaç TL'dir ?
.....
- 2) En fazla gider, hangi gider için yapılmıştır ?
.....
- 3) Hangi giderler aynıdır ?
.....
- 4) Ailenin toplam gideri kaç TL'dir ?
.....
- 5) Aile kaç TL tasarruf yapabilir ?
.....
- 6) Hangi giderler aynıdır ?
.....
- 7) Anne işinden ayrılacak olursa ,hangi giderden kısıtlama yapılmalıdır ?
.....