

TÜRKÇE DERSİ SORULARI

1. Aşağıdakilerden hangisi cümledir?
A) Sabah erkenden okula B) Adımı artık yazabiliyorum
C) Hikâye kitaplarını çantaya
2. Aşağıdaki kelimelerden hece sayısı **en az** olan hangisidir?
A) kanepa B) sandalye C) koltuk
3. "kabak." kelimesinde hangi harfin eşi **yoktur**?
A) b B) a C) k
4. "Atatürk, vatanını ve milletini çok....." cümlesinde boş bırakılan yere hangi kelime gelmelidir
A) iyileştirirdi. B) severdi. C) sorardı.
5. "Tüh, yine geç kaldık ()," cümlesinin sonuna hangi noktalama işareti konulmalıdır?
A) nokta B) ünlem işareti C) soru işareti
6. Hangi cümlede bir varlığın **sayısı** bildirilmektedir?
A) Pencereye iki kuş kondu. B) Tavşan güzel bir hayvandır. C) Annen seni bahçede bekliyor.
7. "Önlük giyeceğim. Çünkü....." ifadesinde noktalı yere hangisinin gelmesi uygun **değildir**?
A) okula gideceğim. B) temizlik yapacağım. C) gezmeye gideceğim.
8. "Kalemimi ucuza aldım." cümlesi ne anlatıyor?
A) Kalem için çok para harcanmıştır. B) Kalem için az para harcanmıştır.
C) Kalem bedava alınmıştır.
9. "Bu akşam emine bize gelecek." cümlesinde **yanlış** yazılan kelime hangisidir?
A) bize B) akşam C) emine
10. Aşağıdaki eşleştirmelerden hangisi birbiri ile ilişkili **değildir**?
A) televizyon - izleme B) telefon - konuşma C) mektup - şarkı
11. Anlamını bilmediğimiz kelimeler için hangisine bakarız?
A) sözlüğe B) dergiye C) gazeteye

MATEMATİK DERSİ SORULARI

12. Aşağıdaki hayvanlardan hangisi en küçüktür?



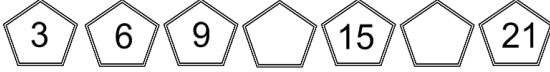
13. 10 tane kalem, 4 kalemden kaç tane fazladır?

A) 6

B) 5

C) 4

14.



Boş bırakılan yerlere hangi sayılar yazılmalıdır?

A) 12, 18

B) 10, 16

C) 12, 20

15. Bahçede 8 çocuk oyun oynuyordu. Önce 4 çocuk sonra da 3 çocuk daha geldi. Bahçede kaç çocuk oldu?

A) 11

B) 12

C) 15

16. Aşağıdaki paralardan hangisiyle daha fazla alışveriş yaparız?

A)



B)



C)



17. Fatih, yılın üçüncü ayında doğum gününü kutlayacak. Fatih, hangi ayda doğmuştur?

A) Mart

B) Şubat

C) Nisan

18. Saat başlarında yelkovan hangi sayının üzerindedir?

A) 6

B) 9

C) 12

19. Hangi işlemin sonucu 15 olmaz?

A) $10 + 5 =$

B) $12 + 3 =$


C) $16 - 3 =$

20. Aşağıdaki saatlerden hangisi "saat: 10." u göstermektedir?


A)



B)



C)



21. Dün salıydı. Yarın günlerden ne olacak?

A) perşembe

B) cumartesi

C) çarşamba

KULAÇ-KARIŞ-ADIM-AYAK-PARMAK

				
KULAÇ	ADIM	AYAK	KARIŞ	PARMAK

♣ Aşağıdaki ifadelerde yer alan noktalı yerleri uygun sözcüklerle doldurunuz.

- İki kolumuzu yana doğru açtığımızda ,iki kolumuz arasındaki mesafeyedenir.
- Elimizin baş parmağı ile serçe parmağı arasındaki mesafeye.....denir.
- Baş parmak ile topuğumuz arasındaki mesafeye.....denir.
- Bir ayağımızı öne attığımızda ,öndeki ayağımızla arkadaki ayağımızın arasında kalan mesafeye.....denir.
- El parmağının eni kadar olan uzunluk ölçüsüne.....denir.

♣ Aşağıda verilen nesnelerin uzunluklarını hangi standart olmayan ölçme aracıyla ölçeriz?

- Öğretmen masasının boyunu.....ile ölçeriz.
- Odamızın enini ve boyunu.....ile ölçeriz.
- Kalemin boyunuile ölçeriz.
- Sınıf kapısının enini ve boyunu.....ile ölçeriz.
- Sınıfımızla ,okul kantini arasındaki mesafeyi.....ile ölçeriz.
- Pencerenin enini ve boyunu.....ile ölçeriz.
- Silginin boyunuile ölçeriz.
- Evimizle komşumuzun evinin arasındaki mesafeyi.....ile ölçeriz.
- Halının boyunu.....

Aşağıda verilen ölçümlerle ilgili tahminlerinizi yazınız. Sonra gerçek ölçüm sonuçlarını karşlarına yazınız.

Sorular	Tahmin	Ölçüm Sonucu
Defterimin boyu parmak uzunluğundadır.		
Masamın karış uzunluğundadır.		
Evimizin salonunun genişliği ayak uzunluğundadır.		
Yatağımın uzunluğu kulaç uzunluğundadır.		
Çalışma masamın eni karış uzunluğundadır.		
Hikâye kitabımın boyu parmak uzunluğundadır.		

Aşağıda verilen nesnelerin uzunluklarının kaç silgi olduklarını tahmin ederek altında verilen noktalı alana yazınız.

The image shows several objects with a small 'Silgi' (Eraser) icon next to them, indicating the unit of measurement. Below each object is a green dashed box with a dotted line for writing the answer.

- Skateboard: 1 Silgi
- Pencil: 1 Silgi
- Marker: 1 Silgi
- Xylophone: 1 Silgi
- Washing Machine: 1 Silgi
- Cabinet: 1 Silgi