

## YAVRU KUŞ

Pınar'la Emre, bahçede oynuyorlardı. Hava soğumaya başlamıştı. Bir ara Pınar'ın annesinin sesi duyuldu:

— Çocuklar, haydi artık içeri gelin, üşüteceksiniz.

Pınar'la Emre toparlanarak eve doğru yürümeye başladılar. Yürürken otların arasında kıvıldağan bir şey gördüler. Merakla yanına yaklaştılar. Bu, yavru bir kuştı. Kanadı kırıldığı için uçamıyordu.

Pınar ile Emre, kuşa acıyarak baktılar. Zavallı kuş çok zor durumdaydı. Hemen onu eve götürdüler. Kuşun durumuna Pınar'ın annesi de çok üzüldü. Birlikte kuşun yarasını temizlediler.

Kanadını sardılar. Yavru kuş, ısınca kendine geldi.

Çocuklar, bir canlının hayatını kurtardıkları için çok mutluydular. Pınar'ın annesinin hazırladığı sütü içerken Emre:

— Pınar, ben yalnız kuşları değil, bütün canlıları seviyorum, dedi.

Pınar:

— Evet, Emre, ben de çok seviyorum. Hiçbir canlıya zarar vermiyorum. Zarar verenleri uyarıyorum. Canlılar korunmalı. Dünyamız ancak böyle güzel olabilir, dedi.

Aşağıdaki soruları parçaya göre yanıtlayalım.

1 -Pınar'la Emre ne yapıyorlar?


2-Pınar'ın annesi niçin çocukların içeri girmesini istiyor?


3-Yavru kuş neden uçamıyor?


4-Çocuklar, yavru kuşu eve götürünce neler yapıyorlar?


5-Pınar, canlılara nasıl davranılması gerektiğini söylüyor?



## CÜMLE KURALIM

Kurallı ve anlamlı cümleler oluşturup yazama  
(Oluşturulan cümleyi satıra yazalım.)



çok – yürümeyi – yağmurda – severim

esiyor – rüzgar – kuvvetli – çok



çiçekleri – bu – topluyorum – annem – için

yavru – bekliyorlar – kuşlar – annelerini



sildim – taşları – bütün – başıma – tek

çok – şapka – yakıştı – sana



süpürmeli – evinin – önünü – herkes

## ZİHİNDEN ÇIKARMA PROBLEMLERİ

1)Ceylin'in 18 tokası vardı.5 tanesini arkadaşına verdi.Geriye kaç tokası kaldı?  
Cevap :(.....)

2)Evimize aldığımız 9 ekmeğin 5 tanesini yedik kaç ekmeğimiz kaldı?  
Cevap :(.....)

3) Kitaplıkta bulunan 9 kitaptan 7 tanesini okudum.Okuyacağım kaç kitap kaldı?  
Cevap :(.....)

4) 9 silginin 2 tanesini kaybettim. Kaç tane silgi kaldı?  
Cevap :(.....)

5) Babam 45 yaşındadır.Annem 42 yaşındadır.Babam annemden kaç yaş büyüktür?  
Cevap :(.....)

6) Evimize aldığımız 9 ekmeğin 5 tanesini yedik kaç ekmeğimiz kaldı?  
Cevap :(.....)

7)Zeynep'in 18 tokası vardı.5 tanesini arkadaşına verdi.Geriye kaç tokası kaldı?  
Cevap :(.....)

8) Ağaçta 18 tane kuş vardı. 5 tanesi uçtu gitti. Ağaçta kaç kuş kaldı?  
Cevap :(.....)

9) Ozan'ın 15 misketi vardı. 6 tanesini kardeşine verdi. Geriye kaç misketi kaldı?  
Cevap :(.....)

10) 14 kalemin bir kaçını kaybettim. Geriye 9 tane kalemim kaldı. Kaç tane kalem kaybettim?  
Cevap :(.....)

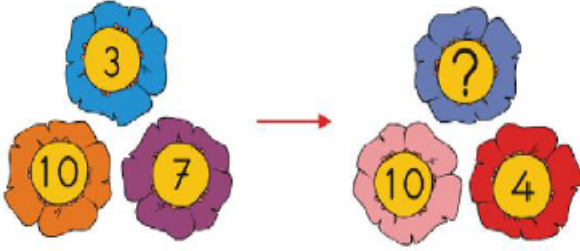
## ZİHİNDEN ÇIKARMA İŞLEMİ

1. Aşağıda gördüğünüz paramın 7 TL'si ile sulu boya aldım. Kaç liram kaldı?



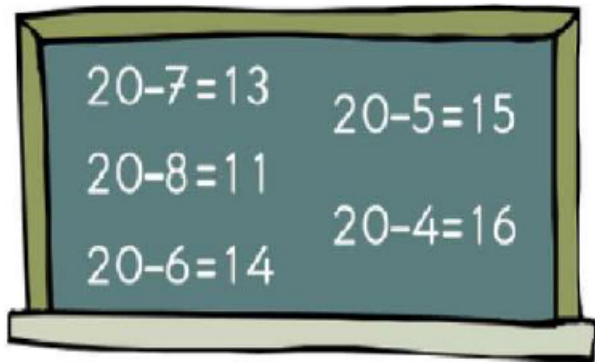
A) 9 B) 8 C) 6

2. Aşağıdaki görsele göre "?", olan çiçeğe hangi sayıyı yazmalıyız?



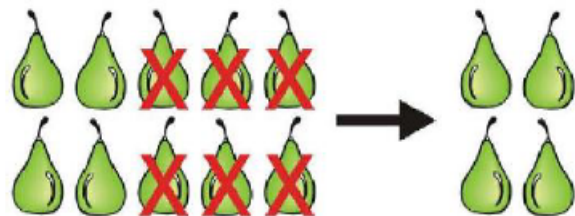
A) 7 B) 6 C) 4

3. Aşağıdaki işlemlerden kaç tanesi yanlıştır?



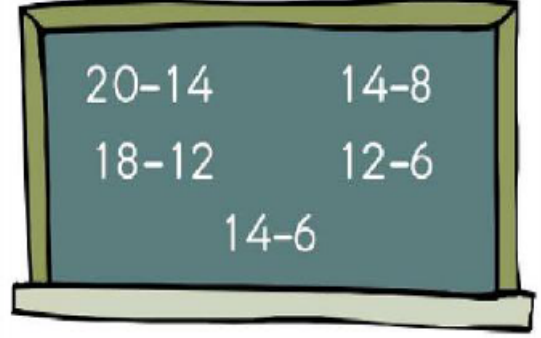
A) 3 B) 2 C) 1

4. Seçeneklerden hangisi görsele uygundur?



A)  $10 - 4 = 6$  B)  $6 - 4 = 2$  C)  $10 - 6 = 4$

5. Aşağıdaki işlemlerin kaç tanesinde sonuç 6 olur?



A) 4 B) 3 C) 2

6. Bir balon satıcısının 18 balonundan 2 tanesi kaldı. Balon satıcısı kaç balon satmıştır?



A) 17 B) 16 C) 14

7. Aşağıdaki işlemlerden kaç tanesi doğrudur?

$$18 - 5 = 13$$

$$14 - 6 = 8$$

$$20 - 5 = 16$$

$$17 - 3 = 15$$

A) 1 B) 2 C) 3

8. 20 kalemin 6 tanesini satan kırtasiyecinin geriye kaç kalemi kalır?

A) 13 B) 14 C) 15

9. Aşağıdaki öğrencilerden hangisinin yaptığı çıkarma işlemi yanlıştır?

$$15 - 9 = 6$$

$$14 - 7 = 7$$

$$16 - 5 = 10$$



A)



B)



C)

