

ÇEVRE PROBLEMLERİ




1) Yandaki kare şeklindeki bahçenin bir kenarı 50 metredir. 125 metre koşan Gülay kaç metre daha koşarsa

bahçenin çevresinde tam 1 tur koşmuş olur?


- A) 74 B) 75 C) 76

2) Aşağıdaki kare şeklindeki bahçenin bir kenarı 48 m'dir. Bahçenin çevresini, İlayda 3 kez, Mehmet 5 kez dolaştı. Mehmet, İlayda'dan kaç metre fazla yürümüştür?

- A) 384 B) 474 C) 484



3) Aşağıdaki birbirine eşit karelerden birinin bir kenarı 7 cm ise şeklin çevresi kaç cm olur?



- A) 49 B) 56 C) 42


4) Sınıfımızdaki sıralarımızın eni 50 cm, boyu 60 cm dir. Sıramın çevresi kaç cm'dir?

- A) 240 B) 230 C) 220

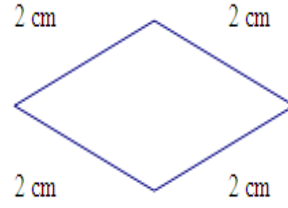


5) Bir kenarı 20 cm olan kare şeklindeki kartonu çevresi kaç cm olur?

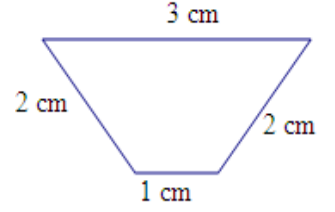
- A) 20 B) 40 C) 50



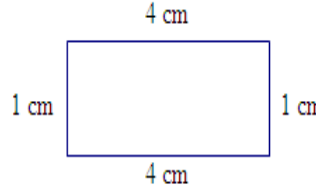
6) Aşağıdaki şekillerin çevrelerini hesaplayıp altlarına yazınız.



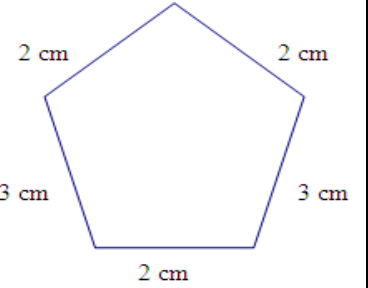
Ç:



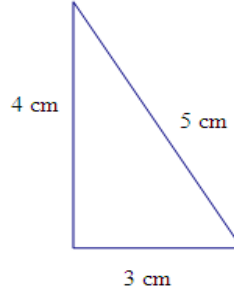
Ç:



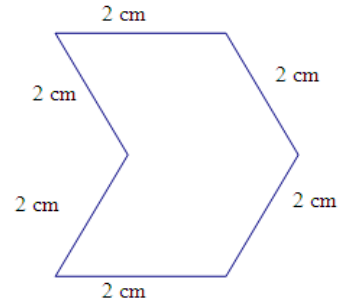
Ç:



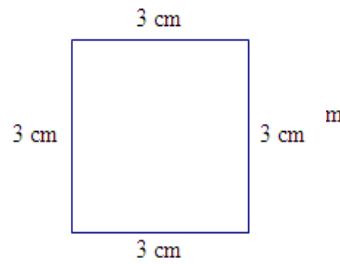
Ç:



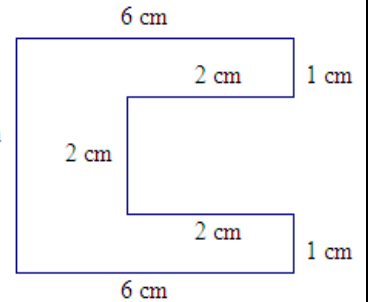
Ç:



Ç:

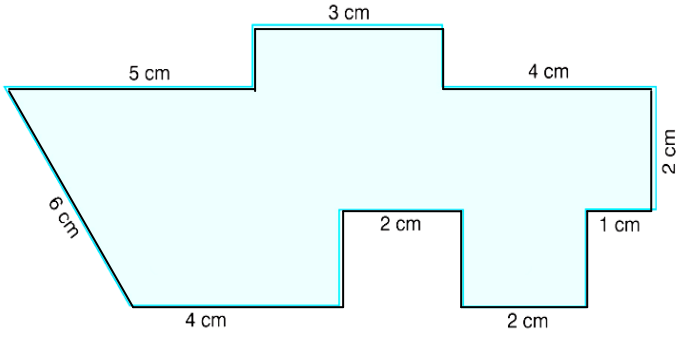


Ç:

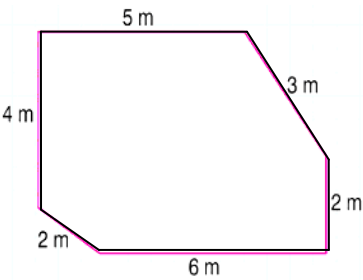
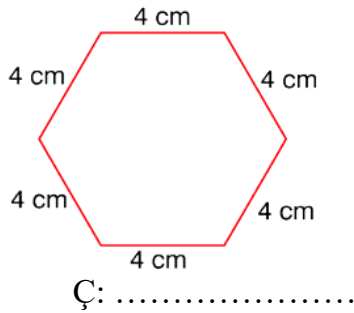
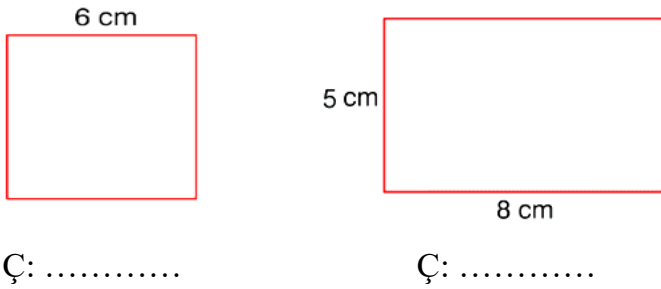
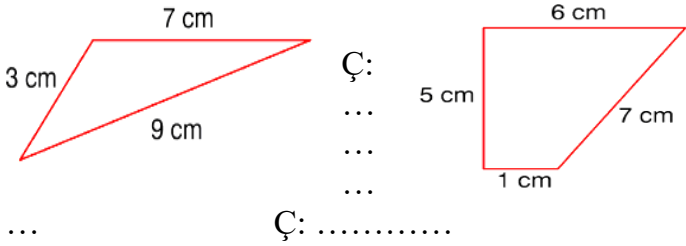


Ç:

7) Aşağıdaki şeklin çevresine kurdele geçirirseniz gerekseydi, kaç metre kurdele kullanırdınız?



8) Aşağıdaki şekillerin çevrelerini hesaplayıp altlarına yazınız.



9) Fatih ile babası bahçelerinin çevresine 3 sıra dikenli tel çekmeye karar verdiler. Bahçenin sembolik şekli ve kenar


- A) 82 B) 76 C) 66

uzunlukları yan tarafta verilmiştir. Buna göre bahçe etrafına çekilecek dikenli tel kaç metre olacaktır?



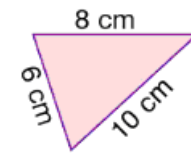

10) Yukarıdaki dikdörtgenin çevre uzunluğu, karenin çevre uzunluğundan kaç cm fazladır?
A) 6 B) 4 C) 2

11) Okulumuzun 3 A, 3 B ve 3 C sınıfları dikdörtgen şeklinde ve kenar uzunlukları birbirine eşittir. Sınıflardan birinin kısa kenarı 4 m, uzun kenarı 7 m'dir. Buna göre üç sınıfın çevre uzunlukları toplamı kaç metredir?
A) 66 B) 44 C) 22



12) Evimizin bahçesinin etrafına çit çekmek istiyoruz. Bir kenar uzunluğu 23 metre olan kare şeklindeki bahçemizin çevresi için kaç metre çit almalıyız?
A) 92 B) 150 C) 184

13) Uzun kenarı 25 cm, kısa kenarı 15 cm olan dikdörtgenin çevresi kaç cm'dir?
A) 90 B) 80 C) 70



14) Yandaki üçgenin çevre uzunluğu kaç cm'dir?
A) 24 B) 26 C) 28

CÜMLE OLUŞTURMA TESTİ

1-



Aşağıdaki seçeneklerin hangisindeki sözcükler düzgün sıralandığında anlamlı bir cümle oluşturur ?

- A. Okumak – kitap – yarar
- B. Yağmur – yağdı – çok
- C. Yurdun – ormanlar – temiz

2-



“Gideceğiz – akşam –Elazığ’a - yarın” sözcükleriyle anlamlı ve kurallı bir tümce yaparsak, en sona hangi sözcük gelir ?

- A. Elazığ’a B. akşam C. gideceğiz

3-



“.....için okula gelememiş” cümlesinde boş bırakılan yere hangisi gelmelidir ?

- A. Hastalandığı B. Okula gelmediği
- C. Evine gidince

4-



“Güzel – yapardı – çok – resim” kelimeleriyle anlamlı bir cümle kurulursa “resim” kelimesi kaçınıcı sırada yer alır ?

- A. birinci B. ikinci C. üçüncü

5-



“Derse – bugün – teneffüs – kaldım – geç” kelimelerinden anlamlı bir cümle oluşturursak hangi kelime kullanılmaz ?

- A. Teneffüs B. Derse C. Bugün

6- Aşağıdaki kelime gruplarından hangisiyle cümle kurulabilir ?

- A. Sevmiyordu – söylemeyi – şarkı
- B. Uzaktan – gelenlerin – hepsini
- C. Çektiği – fotoğrafları – her

7-



“Ben çok güzel resim yapabilirim.” cümlesinde hangi kelime çıkarılırsacümlelerin anlamı değişmez ?

- A. Resim B. Ben C. Yapabilirim

8-

bahçesine – diktik – evimizin - çiçek
1 2 3 4



Yukarıdaki sözcüklerden anlamlı ve kurallı bir cümle oluşturabilmek için nasıl sıralamalıyız ?

- A. 2-1-4-3 B. 3-1-4-2 C. 3-4-2-1

9- Aşağıdaki kelime gruplarından hangisi ile bir cümle kurulamaz ?

- A. sabah – okula – yolda – çantası
- B. Deren – geldi – erken – okula
- C. Dün – yağdı- çok – yağmur

10- “dinliyor – müzik – Ceylin – odasında” anlamlı ve kuralla bir cümle oluşturulursa hangisi en sonda yer alır ?

- A. müzik B. odasında C. dinliyor

- 11-** 1- *masal*
2- *anlattı*
3- *ninem*
4- *bize*

Yukarıdaki sözcüklerinden kurallı ve düzgün bir cümle oluşturursak sıralama nasıl olur ?

- A. 2 – 1 – 4 – 3 B. 3 – 4 – 1 – 2
C. 4 – 2 – 1 – 3

- 12-** 1- *açtı*
2- *gelince*
3- *ilkbahar*
4- *çiçekler*

Yukarıdaki sözcüklerinden kurallı ve düzgün bir cümle oluşturursak sıralama nasıl olur ?

- A. 2 – 1 – 4 – 3 B. 3 – 2 – 4 – 1
C. 3 – 2 – 1 – 4

- 13-** 1-*yapmalıyız* 2-*olmak*
3-*spor* 4-*sağlıklı* 5-*için*
Yukarıdaki sözcüklerin doğru ve kurallı cümle oluşturacak şekilde sıralanışı aşağıdakilerden hangisidir ?

- A. 2 – 1 – 4 – 3 – 5 B. 1 – 3 – 4 – 2 – 5
C. 4 – 2 – 5 – 3 – 1

- 14-** 1- *tüketici* 2- *bilinçli*
3- *yapmaz* 4- *savurganlık*
Yukarıdaki sözcüklerin doğru ve kurallı cümle oluşturacak şekilde sıralanışı aşağıdakilerden hangisidir ?

- A. 2 – 1 – 4 – 3 B. 3 – 2 – 4 – 1
C. 4 – 2 – 1 – 3

- 15-** 1- *güler*
2- *karşıladı*
3- *yüzle*
4- *misafirlerini*

Yukarıdaki sözcüklerin doğru ve kurallı cümle oluşturacak şekilde sıralanışı aşağıdakilerden hangisidir ?

- A. 2 – 1 – 4 – 3 B. 3 – 2 – 4 – 1
C. 4 – 1 – 3 – 2

- 16-** 1- *kapanmış*
2- *yağınca*
3- *kar*
4- *yollar*

Yukarıdaki sözcüklerin doğru ve kurallı cümle oluşturacak şekilde sıralanışı aşağıdakilerden hangisidir ?

- A. 2 – 1 – 4 – 3 B. 3 – 2 – 4 – 1
C. 3 – 1 – 4 – 2

- 17-** 1- *sosyal*
2- *kurumlardan*
3- *Kızılay*
4- *biridir*

Yukarıdaki sözcüklerin doğru ve kurallı cümle oluşturacak şekilde sıralanışı aşağıdakilerden hangisidir ?

- A. 2 – 1 – 4 – 3 B. 3 – 2 – 1 – 4
C. 3 – 1 – 2 – 4

18- Aşağıdaki kelime gruplarının hangisi ile cümle kurulabilir ?

- A. okuldan – gelirken – Ceylin
B. geldi – Seyit – evden
C. Cemile – yazı – resim