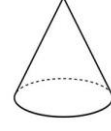
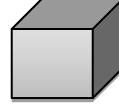

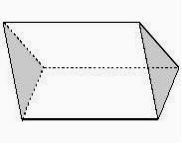


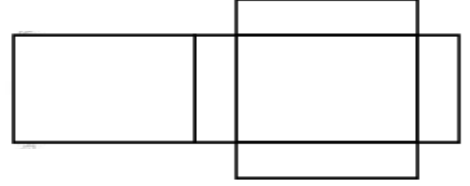
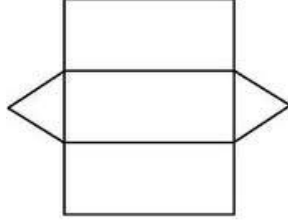
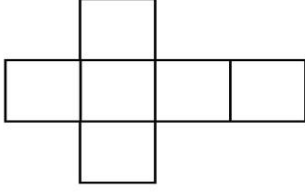
GEOMETRİK CİSİMLERİN YÜZLERİ VE YÜZEYLERİ ETKİNLİĞİ

1. Aşağıdaki geometrik cisimlerin adlarını altlarına yazınız.



.....
.....

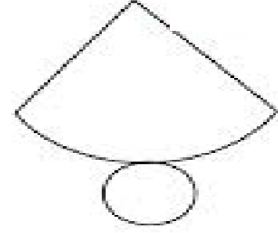
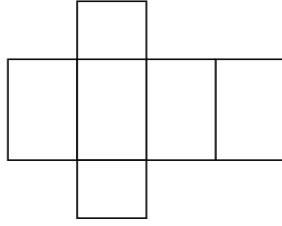
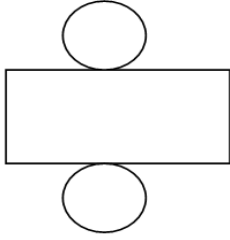
2. Aşağıda açılımları verilmiş geometrik şekillerin hangisi olduğunu yazalım.



.....

.....

.....

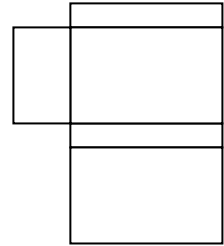
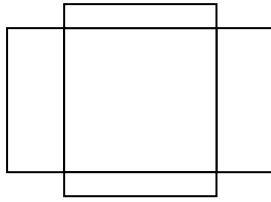
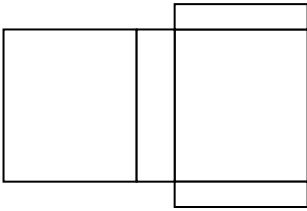


.....

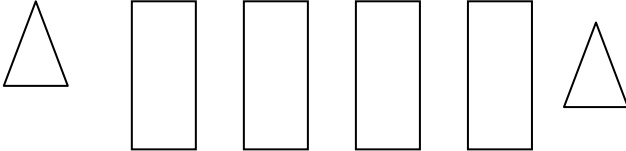
.....

.....

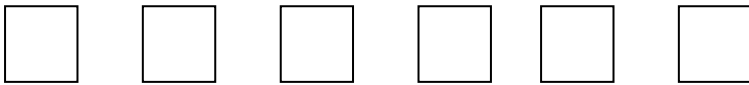
3. Aşağıdaki dikdörtgenler prizması açınımlarında birer yüz eksik bırakılmıştır. Bu yüzleri çizin.



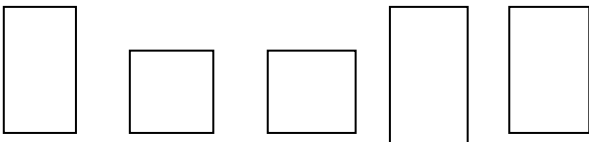
4. aşağıda yüzleri verilmiş geometrik cisimler hangileridir?



a.



b.



c.




Aşağıdaki boşlukları uygun sözcüklerle doldurunuz.

- * 2 kare ve 4 tane dikdörtgenden oluşan geometrik şeklin adı.....dır.
- * Tüm yüzleri kare olan geometrik şeklin adı.....tür.
- * İki üçgen ve üç dikdörtgenden oluşan geometrik şeklin adı.....dır.
- * Tüm yüzleri dikdörtgenden oluşan geometrik şekil.....dır.
- * İki daire ve bir dikdörtgenden oluşan geometrik şekil.....dır.
- * Bir daire ve bir düzlemsel şekilden oluşan dondurma külahına benzeyen şekil.....dır.
- * Yüzü ve yüzeyi aynı olan geometrik cisim.....dır.

1. Hangi geometrik cismin yüzeyini oluşturan düzlemsel bölgelerin tümü birbirine eşitir?

- A) kare prizma B) küpün C) silindir

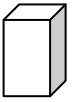


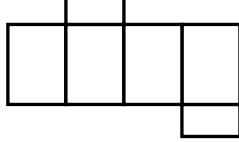
2. Bir üçgen prizmanın yüzleri kullanıldığında aşağıdaki bölgelerden hangisi elde edemez?

- A)  B)  C) 



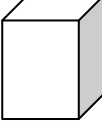
3) Aşağıdakilerden hangisi yüz sayısı bakımından diğer ikisinden farklıdır?

- A) küp B) kare prizma C) üçgen prizma


4) Aşağıdakilerden hangisinin yüzleri düzleme açılırsa yandaki şekil elde edilir?

- A)  B)  C)  

5) Altı tane karesel bölgeden oluşan geometrik cisim aşağıdakilerden hangisidir?

- A)  B)  C) 

6) Aşağıdakilerden hangisi dikdörtgensel bölgedir?

- A)  B)  C) 

7) İki karesel bölgeden dört dikdörtgensel bölgeden oluşan geometrik cisim aşağıdakilerden hangisidir?

- A)  B)  C) 

8) Hangi geometrik cismin yüz sayısı en azdır?

- A) küp B) silindir C) küre

9) Yanda yüzleri verilen geometrik cisim aşağıdakilerden hangisidir?

- A) silindir B) koni C) küre



10) Dikdörtgen prizmanın her köşesine bir nokta koyup isim vermem gerekirse hangi şıkta doğru isimler yer almaktadır?

- A) A,B,C,Ç,D,E,F,G B) 1,2,3,4,5,6,7,8 C) h,i,j,k,l,m,n

11.  Yandaki tangram ı düzlem olarak düşünürsek kaç tane düzlem parçası vardır?

- A) 1 B) 4 C) 7

Gezegemizi Tanıyalım



Dünya'nın yuvarlak olduğunu ispatlamak için gemi ile aynı yöne gittim,tekrar aynı yere ulaştım.

1) Yukarıdaki deniz kaşifi kimdir?

- A) Pastör B) Pisagor C) Macellan

2) Dünya'mızın şeklini meyvenin şekline benzetirsek hangi meyveye benzemektedir?



3) Eski toplumlar, Dünya'nın tepsi şeklinde olduğu, bu tepsinin hangi hayvanın üzerinde durduğunu söylemişlerdir?



4) Macellan, hangi araçla aynı yöne giderek Dünya'nın yuvarlak olduğunu ispatlamıştır?



Bir uçak hep aynı yöne gittiğinde tekrar kalktığı noktaya gelir.

5) Yukarıdaki olayın nedeni aşağıdakilerden hangisidir?

- A) Hava olayları B) Ay'ın yuvarlak olması
C) Dünya'nın yuvarlak olması

Dünyamızı saran hava tabakasının diğer bir adına dadenir.

11) Yukarıdaki boşluğa, aşağıdakilerden hangisi gelmelidir?

- A) Atmosfer B) Uzay C) Okyanuslar

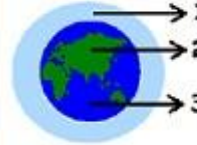
6) Aşağıdaki hangi üç bilim insanı Dünya'nın yuvarlak olduğunu söylemiştir?

- A) Buruni, Pisagor ve Aristo
B) İbni Sina, Lokman Hekim, Farabi
C) Arşimet, Newton, Paskal

7- 1.Dünya'mız küre şeklindedir.
2.Dünya'mız hava,kara ve su tabakasından oluşur.
3.Dünyamızın dörtte üçü su tabakasıdır.

Yukarıdaki hangi maddeler doğrudur?

- A) 1,3 B) 1,2,3 C) 1,2



8) Dünyamızın yandaki şekilde gösterilen 1 numaralı katmanı hangi katmandır?

- A) Su tabakası B) Hava tabakası
C) Kara tabakası

* Yerkabuğu ismi de verilir.

* Kayalar,taşlar ve topraklar bulunur.

9) Yukarıdaki bilgiler Dünya'nın hangi katmanında yer alır?

- A) Kara tabakası B) Hava tabakası
C) Su tabakası

* Karalara göre daha çok yer kaplar.

* Büyük bir kısmı tuzlu sudur.

10) Yukarıdaki bilgiler Dünya'nın hangi katmanında yer alır?

- A) Kara tabakası B) Hava tabakası
C) Su tabakası

* Okyanuslar

* Rüzgar

* Göller

* Buzullar

* İnsan barınakları

* Denizler

* Akarsular

* Kaya tabakası

16) Yukarıdaki kavramların kaç tanesi su tabakada bulunur?

- A) 4 B) 5 C) 6

12) Aşağıdaki hayvanlardan hangisi su tabakasında yaşar?



17) Yukarıdaki şekilde yaklaşan bir geminin önce bacasını, sonra kendisini görmek neyin doğruluğudur?

- A) Dünya'nın yuvarlak olması
B) Geminin büyük olması
C) Hava olayı



Yer küre modelinde tabakaları göstermek için en çok mavi rengi kullandım.

13) Mert, mavi rengi hangi tabakayı göstermek için kullanmıştır?

- A) Kara tabakası
B) Hava tabakası
C) Su tabakası

"Ozon tabakası, bizi Güneş'in zararlı ışınlarından korur."

18) Ozon tabakası aşağıdaki katmanlardan hangisinde bulunur?

- A) Kara tabakası
B) Su tabakası
C) Hava tabakası

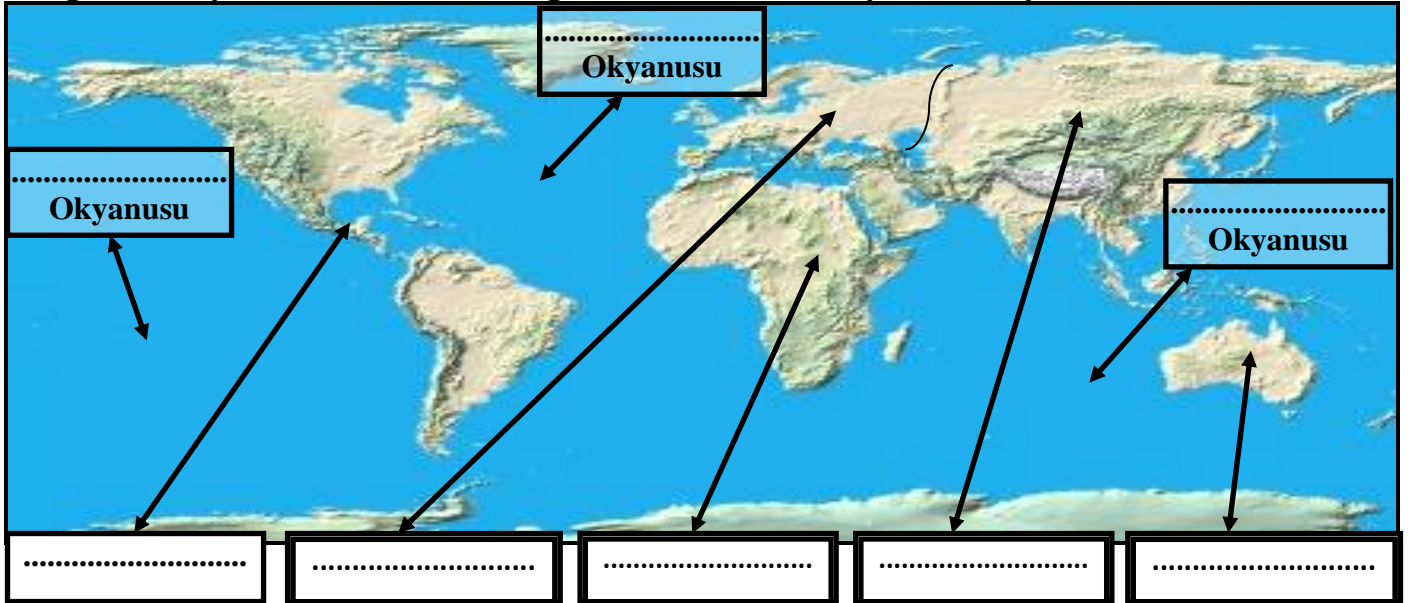
15) Dünyamızın $\frac{3}{4}$ ünü kaplayan tabaka aşağıdakilerden hangisidir?

- A) Kara tabakası
B) Hava tabakası
C) Su tabakası

20) Dünyamızın etrafını saran ve yaşanılır hale gelmesini sağlayan gaz örtüsü aşağıdakilerden hangisidir?

- A) Oksijen
B) Azot
C) Karbondioksit

Aşağıda Dünya Haritası üzerinde gösterilen kıta ve okyanusları yazınız.



Boşlukları dolduralım.

insanlar	toprak	kıta	yer kabuğu	$\frac{3}{4}$ ' ünü
kumlar	suların	dağların	ormanlar	adalar

Dünya'daki çok büyük kara parçalarınaderiz.

Kara tabakasınada deriz.

Denizlerin altındakida kara tabakası sayılır.

Kara tabakasıkum, taş ve kayalardan meydana gelir.

Kara tabakasıolduğu yerlerde kalın, denizlerde incedir.

Kara tabakasının üzerinde şehirler, dağlar, ovalar vebulunur.

Dünyamızınkaralar kaplar.

.....kara tabakasının üzerinde yaşarlar.

Kara tabakasının şekli insanların, rüzgarın veetkisiyle değişir.

Denizlerin ortasında bulunan..... da kara tabakasıdadır.

EŞ ANLAMLI(ANLAMDAŞ) , ZIT (KARŞIT)ANLAMLI, EŞ SESLİ(SESTEŞ) KELİMELER

1-“**Basit**” kelimesinin eş anlamlısı aşağıdakilerden hangisidir?

- A) kolay B) karışık
C) sade D) süslü

2-“**Ödül**” kelimesinin eş anlamlısı aşağıdakilerden hangisidir?

- A) başarı B) zafer
C) mükâfat D) para

3- “**İtina**” kelimesinin anlamdaşı nedir?

- A) dikkat B) özen
C) sorumluluk D) inceleme

4- “**Irak**” kelimesinin eş anlamlısı aşağıdakilerden hangisidir?

- A) uzak B) yabancı
C) akraba D) yüksek

5-“**Tamir**” kelimesinin anlamdaşı aşağıdakilerden hangisidir?

- A) yapım B) onarım
C) ek D) kaynak

6-“**Esir**” kelimesinin eş anlamlısı aşağıdakilerden hangisidir?

- A) tembel B) bağlı
C) tutsak D) hasta

7-“**Fil çok güçlü bir hayvandır.**” Cümlesinde koyu yazılı olan kelimenin yerine aşağıdakilerden hangisini yazabiliriz?

- A) ağır B) saldırgan
C) vahşi D) kuvvetli

8-“**Araba çok hızlı gidiyordu.**” Cümlesinde koyu renkli kelimenin yerine aşağıdakilerden hangisini yazarsak anlamı değişmez?

- A) sürekli B) koşucu
C) süratli D) telaşlı

9-“**Çoğul**” kelimesinin zıt anlamlısı aşağıdakilerden hangisidir?

- A) çok B) iyi
C) tekil D) kalabalık

10-“**Sevinç**” kelimesinin zıt anlamlısı aşağıdakilerden hangisidir?

- A) yorgunluk B) müjde
C) üzüntü D) hasret

11-“**Şişman çocuk yere düştü.**” Cümlesinde koyu yazılan kelimenin zıt anlamlısı hangisidir?

- A) uzun B) kısa
C) zayıf D) tombul

12- “**Bu adam çok cimri**” cümlesinde koyu yazılan kelimenin zıt anlamlısı hangisidir?

- A) çalışkan B) kıskanç
C) atak D) cömert

13-“**Tüketici**” kelimesinin zıt anlamlısı aşağıdakilerden hangisidir?

- A) müsrif B) verimsiz
C) tuzlu D) üretici

14-“**Bayat**” kelimesinin zıt anlamlısı aşağıdakilerden hangisidir?

- A) çürük B) ezik
C) taze D) yumuşak

15-“**Alacak**” kelimesinin zıt anlamlısı aşağıdakilerden hangisidir?

- A) para B) verecek
C) tutar D) borç

16-“**Bahçemizden gül topladım.**” Cümlesinde hangi kelime eş seslidir?

- A) gül B) topladım
C) Bahçemizden D) hiç biri

17-“**Fırından beş tane taze ekmek aldım.**” Cümlesinde eş sesli kelime hangisidir?

- A) aldım B) ekmek
C) beş D) fırın

18-“**Yazın memleketime gitmek, orada saz kursuna katılmak istiyorum.**” Cümlesinde eş sesli kelimeler

- hangileridir?
A) yaz-memleket B) gitmek-katılmak
C) yaz-saz D) memleket-kurs

19-Aşağıdaki kelimelerden hangisi eş seslidir?

- A) çay B) yaprak
C) tuz D) kavak

20- Niçin kondun a bülbül bahçemdeki asmaya, Ben yarimden ayrılmam götürseler asmaya. Yukarıdaki şiirde sesteş kelime hangisidir?

- A) bülbül B) yarim
C) kondun D) asmaya

FARKLI ANLAMDA KULLANILAN KELİMEYİ BULALIM

- 1- Aşağıdaki seçeneklerin hangisinde “ **koyun** ” kelimesi farklı anlamda kullanılmıştır.
A) Şu bardağı masaya koyun. B) Koyun ipini koparmış. C) Koyunlar uysal hayvanlardır.
- 2- Aşağıdaki seçeneklerin hangisinde “ **sert** ” kelimesi farklı anlamda kullanılmıştır.
A) Okulumuzdaki bazı öğretmenler çok sert. B) Bu kış havalar çok sert geçiyor.
C) Babam çok sert değildir.
- 3- Aşağıdaki seçeneklerin hangisinde “ **acı** ” kelimesi farklı anlamda kullanılmıştır.
A) Yaralı kediye çok acıdım. B) Dost, acı söylemez. C) Herkes acı çekemez.
- 4- Aşağıdaki seçeneklerin hangisinde “ **dal** ” kelimesi farklı anlamda kullanılmıştır.
A) Kardeşim erkenden uykuya daldı. B) Dalgıçlar suya daldılar.
C) Yatınca hemen uykuya dalamıyorum.
- 5- Aşağıdaki seçeneklerin hangisinde “ **kar** ” kelimesi farklı anlamda kullanılmıştır.
A) Bu kış Erzurum’a iyi kar yağmış. B) İşletmemiz iyi kar elde etti.
C) Kış, karsız olmaz.
- 6- Aşağıdaki seçeneklerin hangisinde “ **şişe** ” kelimesi farklı anlamda kullanılmıştır.
A) Piknikte şişe bayılırım. B) Yolda şişe kırmışlar.
C) Ablam etleri şişe takmayı hiç sevmez.
- 7- Aşağıdaki seçeneklerin hangisinde “ **sal** ” kelimesi farklı anlamda kullanılmıştır.
A) Hayvanları dışarıya salmışlar. B) Babam ufak bir sal aldı.
C) Çocukları bu soğukta dışarıya kim saldı?
- 8- Aşağıdaki seçeneklerin hangisinde “ **çınar** ” kelimesi farklı anlamda kullanılmıştır.
A) Çınar, henüz üçe geçmiş. B) Çınar ağacını çok severim. C) Çınarlar çok dayanıklı olmuştur.
- 9- Aşağıdaki seçeneklerin hangisinde “ **emin** ” kelimesi farklı anlamda kullanılmıştır.
A) Eminim, yarın bize misafir gelecek. B) Emin, misafirliğe gidecektir.
C) Emin’e araba mı çarpmış?
- 10- Aşağıdaki seçeneklerin hangisinde “ **dizi** ” kelimesi farklı anlamda kullanılmıştır.
A) Ablam TV dizilerine çok bakıyor. B) Ablamın kanayan dizine bakamadım.
C) Bazı televizyon dizilerini hiç sevmiyorum.
- 11- Aşağıdaki seçeneklerin hangisinde “ **simit** ” kelimesi farklı anlamda kullanılmıştır.
A) Gemilerde mutlaka can simidi olmuştur. B) Can, simitsiz yolculuk yapmaz.
C) Can, simidini yedin mi?
- 12- Aşağıdaki seçeneklerin hangisinde “ **ünlü** ” kelimesi farklı anlamda kullanılmıştır.
A) Bazı ünlü sanatçıları tanıyorum. B) Ünlü kişiler her yere gitmezmiş.
C) Hakan, henüz ünlü harfleri bilemiyor.
- 13- Aşağıdaki seçeneklerin hangisinde “ **yüz** ” kelimesi farklı anlamda kullanılmıştır.
A) Babaannem bana yüz lira verdi. B) Babaanneler kardeşime çok yüz veriyor.
C) Yüz Lira ile ne alınır?
- 14- Aşağıdaki seçeneklerin hangisinde “ **düş** ” kelimesi farklı anlamda kullanılmıştır.
A) Dedem çocukken çok düşmüş. B) Düşmekten çok korkarım.
C) Düşümde çok korkmuşum.