

HAYAL Mİ GERÇEK Mİ ETKİNLİĞİM

Kimsenin varlığını inkâr edemediği doğru olan şeylere **gerçek** denir.

Örnek:

- ✓ İnsanların konuşması **gerçektir**.
- ✓ Uçakların uçuşması **gerçektir**.

Zihinden tasarlanan, canlandırılan gerçeklemesi özlenen şeylere **hayal** denir.

Örnek:

- ✓ Kedilerin uçuşması **hayaldir**.
- ✓ Çiçeklerin konuşması **hayaldir**.

Hayallerimizi belirttiğimiz cümlelere **hayal ürünü cümleler** denir.

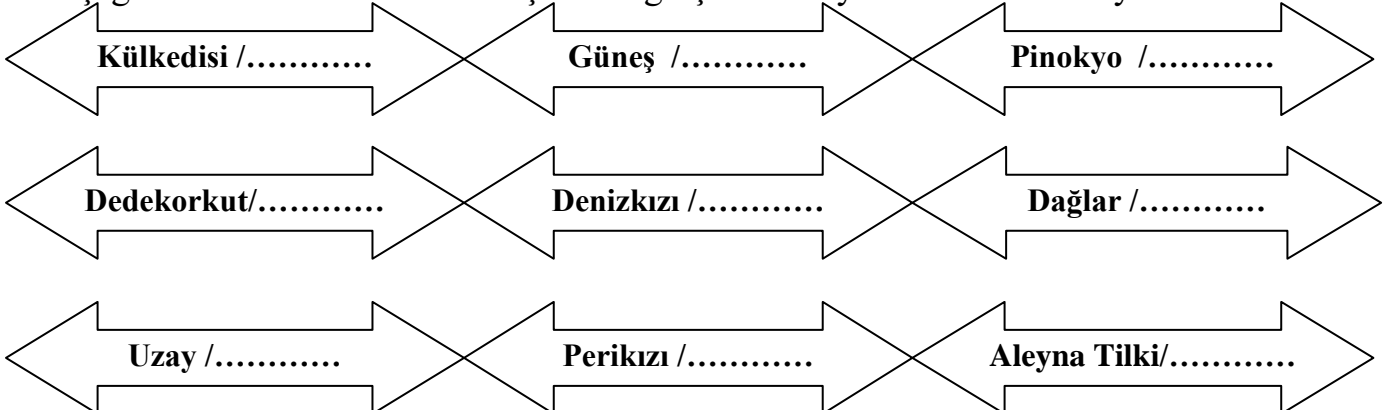
Sevgili Çocuklar; aşağıda verilen cümlelerin hayal cümlemi, gerçek cümlemi yanlarına yazınız.

- ✿ Ali, uçan halının üzerinde uçuyordu. (.....)
- ✿ Bahçede domatesleri çapaladım. (.....)
- ✿ Meyvelerden kiraz ve üzüm arasında kovalamaca oldu. (.....)
- ✿ Batuhan, devler ülkesine gitmiş. (.....)
- ✿ Sabah kahvaltıda yumurtamı şirinlerle paylaştım. (.....)
- ✿ Babam ile birlikte bahçemizi temizledik. (.....)
- ✿ Minik kedi, arkadaşına uçan tekme attı. (.....)

Sevgili Çocuklar; aşağıda verilen kahramanlarımızı hayal mi gerçek mi olduklarını eşlendirmesini yapınız.



Aşağıda verilen kelimelerin karşılıklarına gerçek mi hayal mi olduklarını yazınız.



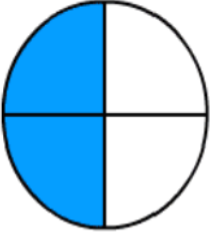
GERÇEK - HAYAL İFADELER

Aşağıdaki ifadelerden gerçek olanın karşısına gerçek, hayal olanın karşısına hayal yazın.

- Kırlangıçlar bir süre dinlenip, yeniden uçmaya başladılar.
- Dün okula giderken karşıma yeşil bir ördek çıktı.
- Yeşil ördek, bana kanadının çok acıdığını söyledi.
- Bulut, ağaca yaklaşarak ona şarkı söyledi.
- Anne köpek, yavrularını boynundan tutarak karşıya geçiriyordu.
- Minik kedi, şarkı söyleyerek dans ediyordu.
- Bu gece yıldızlarla sohbet ettim.
- Derse geç kaldığı için hızlı hızlı yürüdü.
- Ağustos böceği karıncadan bir parça ekmek istedi.
- Kitaplar çantadan birer birer atlamaya başladı.
- Az kalsın araba bana çarpıyordu.
- Otobüste yaşlılara yer verdim.
- Pamuk tüm gün koşturup durdu.
- Çomar kulaklarını çırparak uçmaya başladı.
- Yıldızlar el ele tutuşup halka oldular.
- Minnoş yaralı ayağıyla seke seke yanıma geldi.
- Güneş tüm çocuklara gülümsedi.
- Fil hortumuyla yıkılan köprüyü kaldırdı.
- Karne günü babam bana bilgisayar aldı.
- Ahmet tek parmağıyla dolabı kaldırdı.

KESİRLER PAY VE PAYDA İLİŞKİSİ

Aşağıda modelle verilen kesirleri örnekteki gibi yazalım.



$$\frac{2}{4}$$




$$\frac{\dots\dots\dots}{\dots\dots\dots}$$



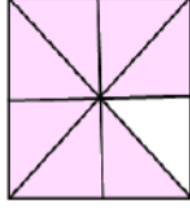
$$\frac{\dots\dots\dots}{\dots\dots\dots}$$




$$\frac{\dots\dots\dots}{\dots\dots\dots}$$



$$\frac{\dots\dots\dots}{\dots\dots\dots}$$



$$\frac{\dots\dots\dots}{\dots\dots\dots}$$



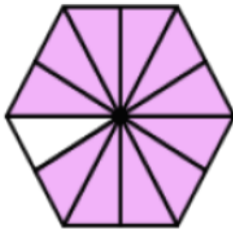
$$\frac{\dots\dots\dots}{\dots\dots\dots}$$



$$\frac{\dots\dots\dots}{\dots\dots\dots}$$



$$\frac{\dots\dots\dots}{\dots\dots\dots}$$



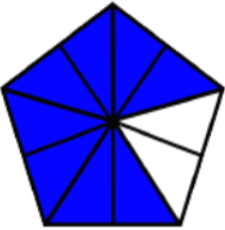
$$\frac{\dots\dots\dots}{\dots\dots\dots}$$



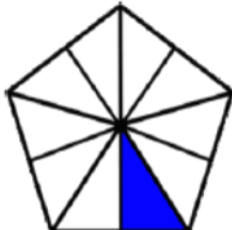
$$\frac{\dots\dots\dots}{\dots\dots\dots}$$



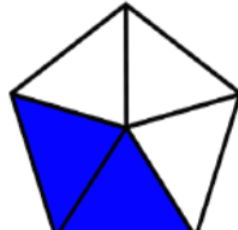
$$\frac{\dots\dots\dots}{\dots\dots\dots}$$



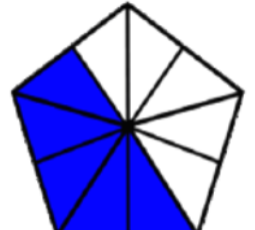
$$\frac{\dots\dots\dots}{\dots\dots\dots}$$



$$\frac{\dots\dots\dots}{\dots\dots\dots}$$



$$\frac{\dots\dots\dots}{\dots\dots\dots}$$



$$\frac{\dots\dots\dots}{\dots\dots\dots}$$

Aşağıda modelleri verilen kesirlerin yandaki kutulardaki yazılışlarını daire içine alınız.

1)



$$\frac{4}{8}$$

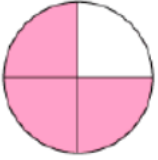
$$\frac{3}{7}$$

$$\frac{3}{8}$$

$$\frac{5}{7}$$

$$\frac{5}{8}$$

2)



$$\frac{1}{4}$$

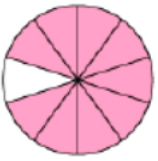
$$\frac{2}{3}$$

$$\frac{2}{4}$$

$$\frac{3}{5}$$

$$\frac{3}{4}$$

3)



$$\frac{8}{10}$$

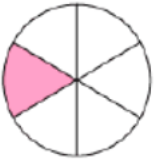
$$\frac{9}{10}$$

$$\frac{1}{10}$$

$$\frac{7}{10}$$

$$\frac{6}{10}$$

4)



$$\frac{1}{6}$$

$$\frac{4}{6}$$

$$\frac{1}{5}$$

$$\frac{5}{6}$$

$$\frac{1}{7}$$

5)



$$\frac{3}{5}$$

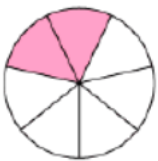
$$\frac{4}{4}$$

$$\frac{1}{5}$$

$$\frac{5}{5}$$

$$\frac{4}{5}$$

6)



$$\frac{4}{7}$$

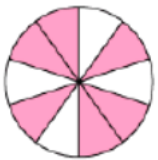
$$\frac{2}{6}$$

$$\frac{5}{7}$$

$$\frac{2}{7}$$

$$\frac{3}{6}$$

7)



$$\frac{5}{10}$$

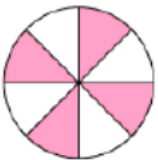
$$\frac{4}{9}$$

$$\frac{6}{10}$$

$$\frac{4}{10}$$

$$\frac{6}{9}$$

8)



$$\frac{3}{8}$$

$$\frac{5}{8}$$

$$\frac{3}{7}$$

$$\frac{4}{8}$$

$$\frac{5}{7}$$