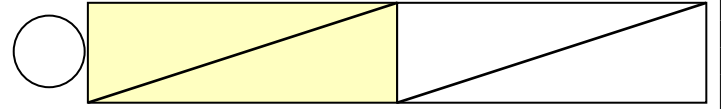
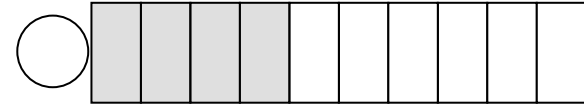
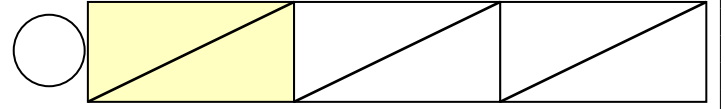
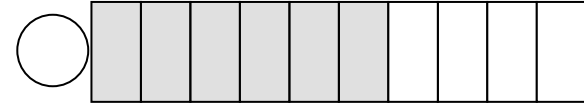

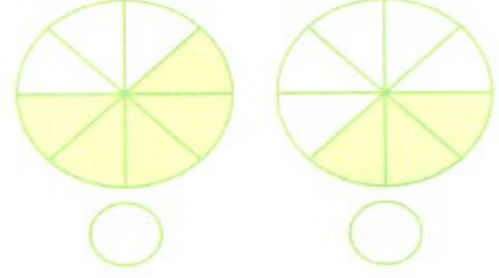
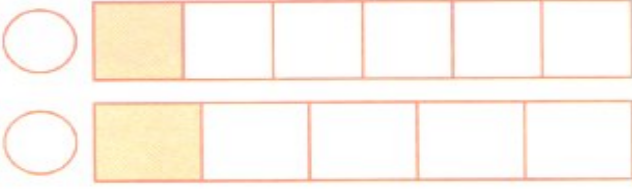
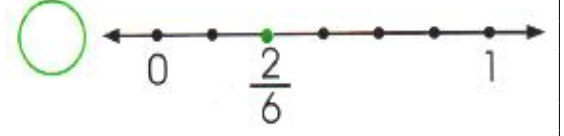
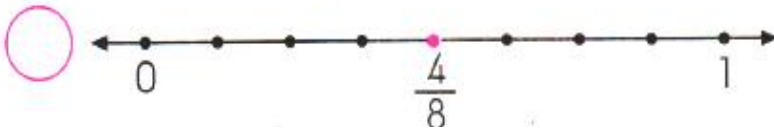
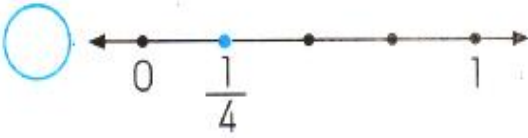
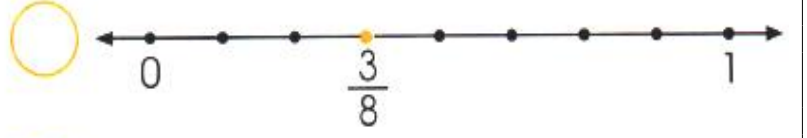
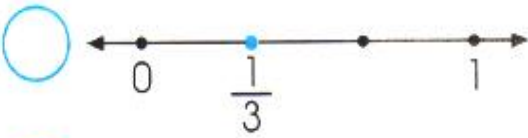


# KESİRLERİ KARŞILAŞTIRMA VE SIRALAMA

1 Aşağıdaki şekillerin boyalı kısmını gösteren kesirleri karşılaştırınız, büyük olanı işaretleyiniz.



2 Aşağıdaki sayı doğrularında gösterilen kesirleri karşılaştırıp küçük olanı işaretleyiniz.



3 Aşağıdaki kesirleri karşılaştırınız. Boş kutulara “>” ve “<” sembollerinden uygun olanı yazınız.

$$\frac{1}{9} \square \frac{1}{6}$$

$$\frac{3}{7} \square \frac{2}{7}$$

$$\frac{7}{10} \square \frac{7}{15}$$

$$\frac{1}{5} \square \frac{1}{3}$$

$$\frac{5}{9} \square \frac{3}{9}$$

$$\frac{4}{13} \square \frac{4}{17}$$

$$\frac{2}{11} \square \frac{2}{13}$$

$$\frac{9}{15} \square \frac{12}{15}$$

$$\frac{8}{10} \square \frac{10}{10}$$

$$\frac{7}{12} \square \frac{5}{12}$$

$$\frac{8}{9} \square \frac{8}{5}$$

$$\frac{13}{20} \square \frac{3}{20}$$

4 Aşağıdaki kutulara, verilen sıralamalara uygun olacak şekilde birer sayı yazınız.

$$\frac{3}{7} < \square < \frac{6}{7}$$

$$\frac{6}{9} < \square < \frac{6}{7}$$

$$\square < \frac{4}{10} < \square$$

$$\frac{8}{15} > \square > \frac{5}{15}$$

$$\frac{4}{9} > \square > \frac{4}{12}$$

$$\frac{7}{12} > \square > \square$$

$$\square > \frac{9}{14} > \square$$

$$\frac{1}{6} < \square < \frac{1}{3}$$












$$\frac{3}{\square} > \frac{3}{8} > \frac{3}{\square}$$

$$\frac{2}{9} < \square < \frac{7}{9}$$











$$\square < \frac{5}{13} < \square$$

$$\frac{8}{\square} < \frac{8}{15} < \frac{8}{\square}$$

## TÜRKÇE TEKRAR ETKİNLİĞİ

									
öykü	yaşlı	özgürlük	konuk	mektep	fakir	vazife	tutsak	kara	hekim
									
siyah	yoksul	doktor	ihtiyar	misafir	hürriyet	okul	esir	ödev	hikaye

**ETKİNLİK 1)**Yukarıda ve aşağıda eş anlamlı kelimeler verilmiştir. Bu kelimelerin eş anlamlılarını örnekteki gibi eşleştiriniz. Yazılışları ve okunuşları farklı ama anlamları aynı olan kelimelere ..... denir.

									
teklif	beyaz	seyahat	hediye	öğrenci	vatan	tabiat	mısra	nehir	İl
armağan	doğa	ırmak	yurt	yolculuk	dize	vilayet	ak	talebe	öneri

**ETKİNLİK 2)**Şekillerin içindeki kelimelerin eş anlamlılarını bulup birer cümle içerisinde kullanınız.

dershane	.....	..... .....
düş	.....	..... .....
cevap	.....	..... .....
yıl	.....	..... .....

**ETKİNLİK 3)**Yıldızların içinden eş anlamlı olanları kırmızıya eş anlamlı olmayanları siyaha boyayalım.

kasap	esir	radyo	anı	dolap
tümce	masa	cümle	kuş	yel

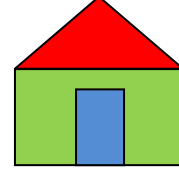
**ETKİNLİK 4)** Kedicik , okuldan eve gitmek için aşağıda gördüğünüz kelimelerden sonra o kelimenin zıt anlamlısını bulmak zorunda ona yardım eder misiniz? Yazılışları farklı anlamları birbirinin tam karşıtı olan kelimelere ..... denir



açık ..... derin .....

..... cahil ..... zengin ..... sağlam

sıcak ..... uzak .....



**ETKİNLİK 5)** Kapıların üzerinde yazan kelimelerin zıt anlamlılarını bulup aynı numaralarla numaralandırın.

1	2	3	4	5	6	7
yokuş	in	dar	taze	ağır	gece	tek
gündüz	hafif	bayat	iniş	geniş	çift	çık

**ETKİNLİK 6)** Aşağıdaki kelimelerin zıt anlamlarını karşılarına yazınız.

genç=	dolu=	şişman=	çirkin=
kirli=	yakın=	pahalı=	kısa=
ince=	çürük=	kolay=	sert=
yaz=	tatlı=	ön=	evet=