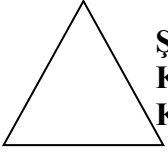



GEOMETRİK CİSİMLER

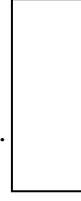
1. Aşağıda boş bırakılan yerleri yanındaki şekle uygun olarak doldurunuz.



Şeklin adı:.....
Köşe sayısı:.....
Kenar Sayısı:.....




Şeklin adı:.....
Köşe sayısı:.....
Kenar Sayısı:.....



Şeklin adı:.....
Köşe sayısı:.....
Kenar Sayısı:.....

2. Aşağıdaki resmi inceleyerek boşlukları doldurunuz.



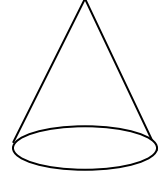
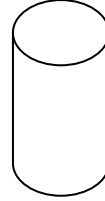
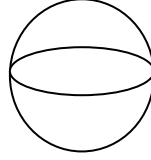
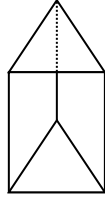


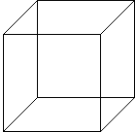
..... tane üçgenel bölge var.

..... tane karesel bölge var.

..... tane daire var.

..... tane dikdörtgenel bölge var.

3. Aşağıdaki geometrik cisimleri adları ile eşleştiriniz.



Dikdörtgen
prizma

küp

üçgen
prizma

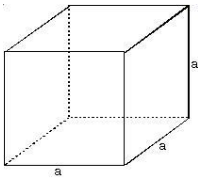
Kare
prizma

koni

silindir

küre

4. Aşağıdaki geometrik şekillerin adını; ayırıt, köşe ve yüzey sayısı gibi özelliklerini noktalı yerlere yazınız.



Şeklin adı:

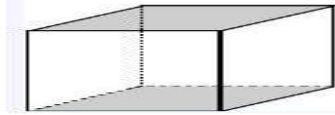
.....

.....

Ayrıt:.....

Yüzey:.....

Köşe:.....



Şeklin adı:


.....

.....

Ayrıt:.....

Yüzey:.....

Köşe:.....



Şeklin adı:

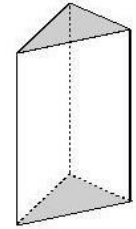
.....

.....

Ayrıt:.....

Yüzey:.....

Köşe:.....



Şeklin adı:

.....

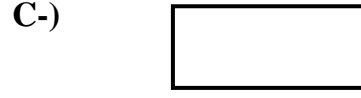
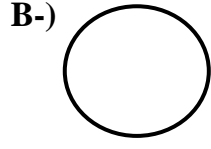
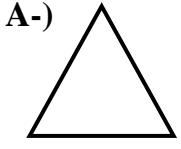
.....

Ayrıt:.....

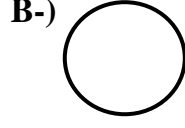
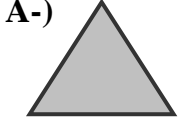
Yüzey:.....

Köşe:.....

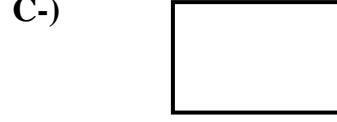

5. Aşağıdaki şekillerden hangisi çemberdir?



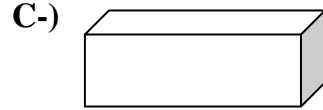
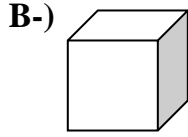
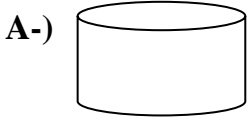
6. Aşağıdaki şekillerden hangisi karesel bölgedir?



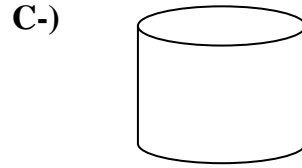
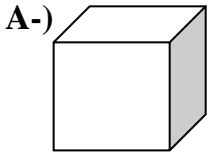
7. Aşağıdaki şekillerden hangisi dikdörtgen prizmanın bir yüzüdür?



8. Aşağıdaki şekillerden hangisi silindire benzer?



9. Aşağıdaki şekillerden hangisinin ayrıtı ve köşesi yoktur?



10. Dünyamız hangi geometrik cisme benzer?

A. Küp

B. Küre

C. Çember

11. Aşağıdaki resim hangi geometrik cisme aittir?



A. Küp

B. Üçgen prizma

C. Silindir

12. "Bütün yüzeylerin dikdörtgensel bölgedir. 6 yüzeyim, 8 köşem, 12 ayrıtım vardır.



Bilin bakalım ben kimim?

A. Kare prizma

B. Dikdörtgenler prizması

C. Dikdörtgen

13. “Üst ve taban yüzeylerim karesel bölge, yan yüzeylerim dikdörtgensel bölgedir. 6 yüzeyim, 8 köşem, 12 ayrıtım vardır. Bilin bakalım ben kimim?”



- A. Kare prizma
- B. Dikdörtgenler prizması
- C. Üçgen prizma

14. 5 yüzü(yüzeyi) olan geometrik cisim aşağıdakilerden hangisidir?

- A. Küre
- B. Küp
- C. Üçgen prizma

15. Aşağıda verilen geometrik cisimlerden hangisinin dairesel yüzü vardır?

- A. Prizma
- B. Koni
- C. Küre

16. Aşağıdaki kelimeleri cümlelerdeki boşluklara uygun şekilde yerleştiriniz.

***** dikdörtgensel, karesel, dairesel, üçgensel *****

A) Adım silindir. Yan yüzlerim bölge, alt ve üst yüzlerim bölgedir.

B) Adım üçgen prizmadır. Yan yüzlerim..... bölge, alt ve üst yüzeylerim bölgedir.

C) Adım küptür. Tüm yüzlerim bölgedir.

D) Adım dikdörtgen prizmadır. Tüm yüzlerim bölgedir.



SATIR SONUNA SIĞMAYAN KELİMELERİ YAZMA



ETKİNLİK:

Aşağıdaki sözcükleri satır sonunda hecelerine uygun şekilde ayırınız.

patates → pata-
tes

okulumuz → oku-
lumuz

pencere →

kırtasiye →

lavabo →

düdüklü →

yetenek →

sürahi →

lokanta →

armağan →

fotoğraf →

dondurma →

kitaplık →

zerdali →

matematik →

karişik →

raptiye →

mercimek →