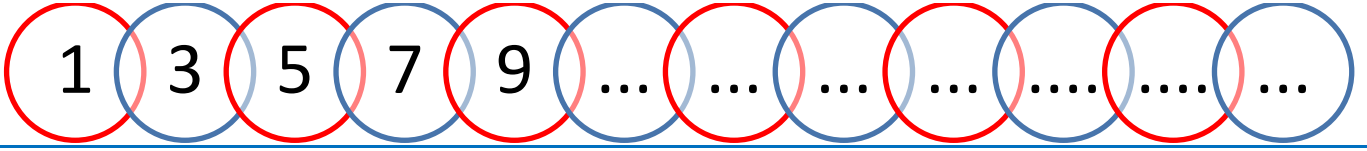
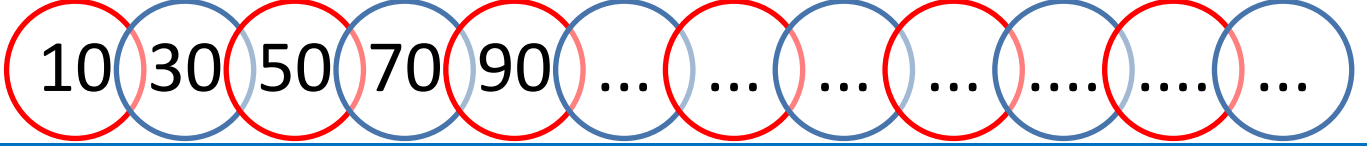


## SAYI ÖRÜNTÜSÜ

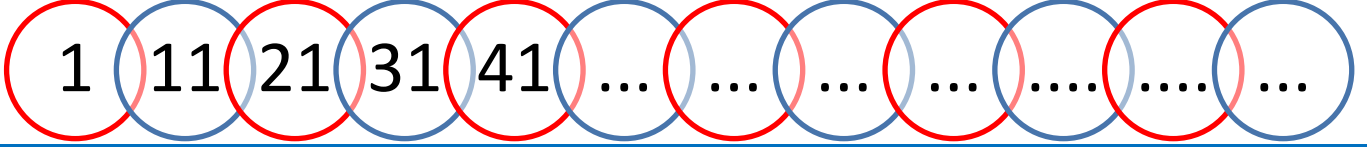
Aşağıda verilen sayı örüntülerini uygun şekilde devam ettiriniz.



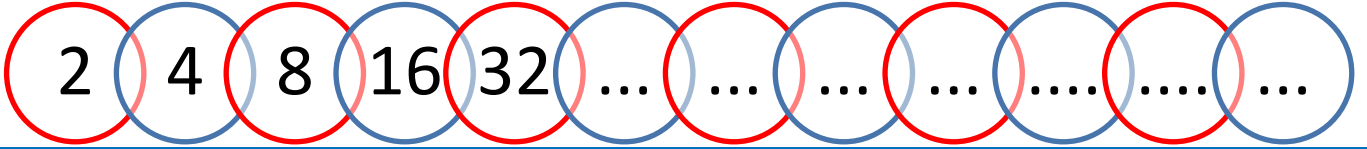
Kuralı:.....



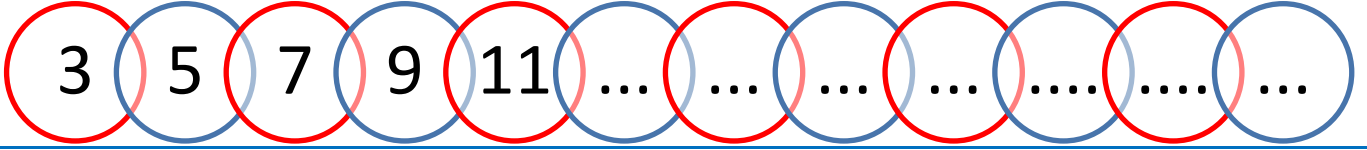
Kuralı:.....



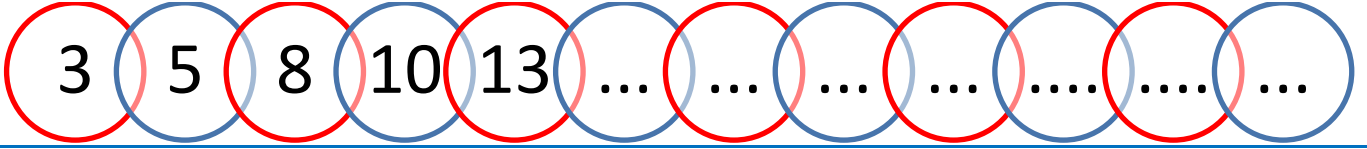
Kuralı:.....



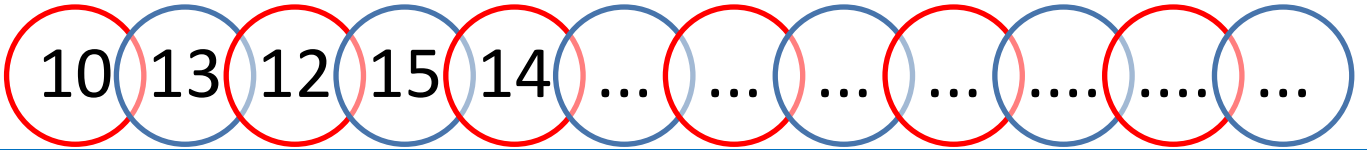
Kuralı:.....



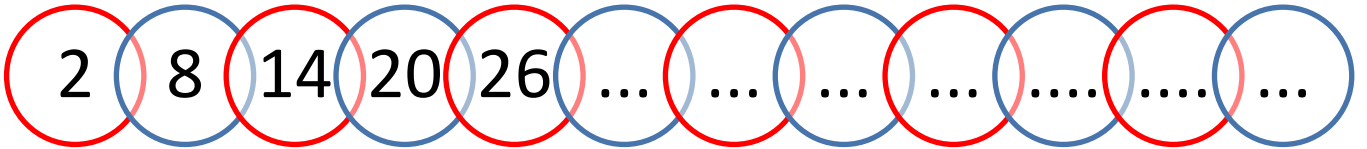
Kuralı:.....



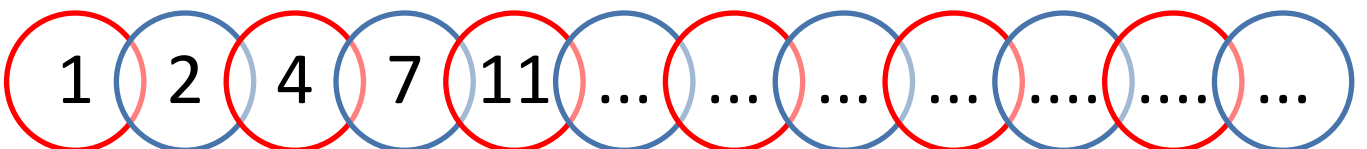
Kuralı:.....



Kuralı:.....



Kuralı:.....



Kuralı:.....

Sayı örüntülerini kuralına göre devam ettirelim.

1 2 1 2 1 ... ..

3 6 12 24 48 ... ..

5 3 6 4 7 ... ..

10 20 30 40 50 ... ..

11 12 14 17 21 ... ..

15 25 35 45 55 ... ..

7 14 21 28 35 ... ..

3 6 10 15 21 ... ..

60 55 50 45 40 ... ..

3 4 6 9 13 ... ..

## VERİLEN RAKAMLARLA SAYI OLUŞTURALIM

5, 7, 2, 9 rakamlarını birer kez kullanarak dört basamaklı sayılar oluşturarak aşağıdaki tabloya yazınız?

### ÖRNEK

|      |      |      |      |
|------|------|------|------|
| 9572 | 7529 | 5729 | 2579 |
| 9527 | 7592 | 5792 | 2597 |
| 9752 | 7295 | 5279 | 2759 |
| 9725 | 7259 | 5297 | 2795 |
| 9257 | 7952 | 5972 | 2957 |
| 9275 | 7925 | 5927 | 2975 |

Bulduğunuz en büyük sayı:...9752.....

Bulduğunuz en küçük sayı:...2579...

7, 3, 4, 8 rakamlarını birer kez kullanarak dört basamaklı sayılar oluşturarak aşağıdaki tabloya yazınız?

|  |  |  |  |
|--|--|--|--|
|  |  |  |  |
|  |  |  |  |
|  |  |  |  |
|  |  |  |  |
|  |  |  |  |
|  |  |  |  |

Bulduğunuz en büyük sayı:.....

Bulduğunuz en küçük sayı:.....

1, 3, 2, 8 rakamlarını birer kez kullanarak dört basamaklı sayılar oluşturarak aşağıdaki tabloya yazınız?

|  |  |  |  |
|--|--|--|--|
|  |  |  |  |
|  |  |  |  |
|  |  |  |  |
|  |  |  |  |
|  |  |  |  |
|  |  |  |  |

Bulduğunuz en büyük sayı:.....

Bulduğunuz en küçük sayı:.....

6, 5, 2, 4 rakamlarını birer kez kullanarak dört basamaklı sayılar oluşturarak aşağıdaki tabloya yazınız?

|  |  |  |  |
|--|--|--|--|
|  |  |  |  |
|  |  |  |  |
|  |  |  |  |
|  |  |  |  |
|  |  |  |  |
|  |  |  |  |

Bulduğunuz en küçük sayı:.....

Bulduğunuz en büyük sayı:.....

9, 1, 2, 5 rakamlarını birer kez kullanarak dört basamaklı sayılar oluşturarak aşağıdaki tabloya yazınız?

|  |  |  |  |
|--|--|--|--|
|  |  |  |  |
|  |  |  |  |
|  |  |  |  |
|  |  |  |  |
|  |  |  |  |
|  |  |  |  |

Bulduğunuz en büyük sayı:.....

Bulduğunuz en büyük sayı:.....

4, 8, 6, 3 rakamlarını birer kez kullanarak dört basamaklı sayılar oluşturarak aşağıdaki tabloya yazınız?

|  |  |  |  |
|--|--|--|--|
|  |  |  |  |
|  |  |  |  |
|  |  |  |  |
|  |  |  |  |
|  |  |  |  |
|  |  |  |  |

Bulduğunuz en küçük sayı:.....

Bulduğunuz en küçük sayı:.....

## NOKTA VE VİRGÜL KULLANALIM

Aşağıdaki cümlelerde ( ) içlerine uygun noktalama işaretlerini koyunuz.

Bugün elli sayfa kitap okudum ( )

Yarın sabah köye gideceğiz ( )

Dr ( ) Hatice Kaya okulumuza geldi ( )

Otobüs saat 11 ( ) 05'te kalkacakmış ( )

Fetih, babasını çok özlemiş ( )

Ağabeyim yarışmada 1 ( ) geldi ( )

Arkadaşlarımla oynamayı çok severim ( )

Yörük Mah ( ) Fırat Sokakta oturuyoruz ( )

Bugün hava çok güzel ( )

Annem pazardan elma ( ) nar ( ) üzüm ve biber aldı ( )

Ayşe ( ) Ahmet ve Veli bize geldiler ( )

Ablam Salı ( ) Perşembe ve cumartesi günleri bağlama kursuna gidiyor ( )

Ben okula servisle gidiyorum ( )

Sabahları ders saat 08 ( ) 40'ta başlıyor ( )

Yaptığımız yarışmada 3 ( ) oldum ( )

Çantama kalem ( ) silgi ( ) kalemıraş ve cetvel koydum ( )

2005 -2006 öğretim yılında mezun oldum( )

Sevgili anneciğim ( )

Isparta'ya taşındılar( )

Hiçbir insan ( ) korkusuz değildir( )

Çok uykum var ( )

Türkiye – Portekiz maçı heyecanlıydı ( )

Kırk yıldır bu okulda görevliyim ( )

18 ( ) 06 ( ) 2015 'te ablam yurt dışından gelecek.

O ( ) benim ilk plağımdı ( )

Başarmanın tek yolu vardır ( ) çok çalışmak ( )

Pazardan elma ( ) üzüm ( ) fasulye aldık ( )