

DUYGUSAL VE ABARTILI İFADELER



Aşağıdaki cümleleri okuyunuz. Duygusal ifade olanların önüne **D**, abartılı ifade olanların önüne **A** yazınız.

- Onur' un ağabeyinin boyu o kadar uzundu ki bulutlara dokunabiliyordu.
- Annesini yanında göremeyince gözleri doldu.
- O kadar çok yedim ki neredeyse patlayacağım.
- Bin kere söyledim yanımdan ayrılma diye!
- Yarışmanın sonucunu öğrenince çok sevindi.
- Postacı mektubu getirince havalara zıpladı.
- Uzun uzun konuşup hasret giderdiler.
- Rüyasında ağaçtan karpuz büyüklüğünde cevizler düştüğünü gördü.
- Kapıdan çıkarken annesine sarılıp "Seni çok seviyorum." dedi.
- Çocuk, arkadaşları çağırınca jet gibi yerinden fırladı.
- Öğretmen neden ödevini yapmadığını sorunca çok utandı.
- Kardeşimin yüzü pancar gibi kıpkırmızı olmuştu.
- Camın önünden geçen kuşlara bakıp hayaller kurdu.



Aşağıdaki cümleleri okuyunuz. Duygusal ifade olanların yanına **D**, abartılı ifade olanların yanına **A** harfi yazınız.

- | | |
|--|---|
| Çocuğun feryadı dağları inletiyordu. () | Dev gibi pastayı yedi. () |
| Zavallı kuş kanadını oynatamıyordu. () | Adam jet gibi gidiyordu. () |
| Bir daha asla yalan söylemeyeceğim. () | Canım anneciğim, seni çok özledim. () |
| Çocuk yıldırım gibi koşuyordu. () | Hastalandığını duyunca çok üzüldüm. () |
| Annesini görünce dünyalar onun oldu. () | Bu, hiç güzel olmamış. () |
| Bu yemek buz gibi olmuş. () | Yaşasın, yarın bisiklet alacağız. () |
| Karnemi görünce çok sevindim. () | Oyuncak için kıyameti kopardı. () |
| Zayıflamış, bir deri bir kemik kalmış. () | Kapıdan dev gibi bir adam girdi. () |

DUYGUSAL ve ABARTILI İFADELER

1. “*Bu erik ağacının meyvesi.....*”
Yukarıdaki tümce, aşağıdakilerden hangisi ile tamamlanırsa **abartılı** bir ifade kullanılmış olur?

- A. nefis kokuyordu. B. karpuz kadardı
C. bal gibidir. D. çok tatlıdır.

2. Aşağıdaki tümcelerin hangisinde **duygusal** bir ifade vardır?

- A. Okulun son günü gittikçe yaklaşıyordu.
B. Hava kararıyor neredeyse akşam olacak.
C. Onu görünce korkudan sapsarı kesildi.
D. Sabah okula her zamanki gibi geç kaldı.

3.

- “(I)Koşa koşu derenin kıyısına kadar geldi.
(II)Pantolonun paçalarını kıvrıp karşıya geçmek istedi.
(III) Coşkun akan dereyi görünce bir an duraksadı.
(IV)Yavaş yavaş içinin korku ile dolduğunu hissetti.”

Yukarıdaki paragrafta, kaç numaralı cümlede **duygusal** bir ifade vardır?

- A.I B.II C.III D.IV

4. Aşağıdaki tümcelerin hangisinde **abartılı** bir ifade vardır?

- A. Everest Dağı dünyanın en büyük dağıdır.
B. Yemek o kadar güzeldi ki parmaklarını yedi.
C. Yağmurda sırlıklam olmuştu.
D. 100 metreyi 15 saniyede koşuyor.

5. Aşağıdaki tümcelerin hangisinde **duygusal** bir ifade yoktur?

- A. Bu elbiseyi almaya parası yetmedi.
B. Küçük kuşun halini görünce çok üzüldü.
C. Sınav notunu okurken heyecanlandı.
D. Sürpriz doğum günü partisi çok mutlu etti.

6. “(I) Yıllardır görmemişti annesini.

- (II)Yolun karşısında onu görünce bir an öylece kaldı.
(III) Bir adımla yolun karşısına uçtu sanki.
(IV) Elleri buram buram toprak kokuyordu.

Aşağıdaki tümcelerin hangisinde **duygusal** bir ifade yoktur?

- A.I B.II C.III D.IV

7.

- I.Maçın son dakikasında herkes nefesini tutmuştu.
II. Yıllar sonra kardeşini gördüğünde boynuna sarıldı.
III. Birden önünden geçen yılanı görünce irkildi.
IV. Köpeği ölünce küçük çocuk ağladı.

Yukarıdaki tümcelerin hangisinde “**heyecan**” ifade edilmiştir?

- A.I B.II C.III D.IV

8. “*Acaba matematik sınavından kaç aldım?*”

Yukarıdaki tümceyi söyleyen kişinin yaşadığı **duygu** aşağıdakilerden hangisidir?

- A.korku B.endişe C.üzüntü D.merak

9. Aşağıdaki tümcelerin hangisinde **abartılı** bir ifade vardır?

- A. Bir oturuşta bir fırın ekmek yedi.
B. Sabah 4 km yol koştu.
C. Bin metreden kendini boşluğa bıraktı.
D. Boğazın bir kıyısından diğerine kadar yüzdü.

10. Aşağıdaki tümcelerin hangisinde **duygusal** bir ifade yoktur?

- A. Minik kediyi görünce içi cız etti.
B. Birinci olunca gözyaşlarını tutamadı.
C. Akşama kadar hiç dinlenmeden yürüdü.
D. Fareyi görünce gözlerine inanamadı.

11. “.....*bu vakte kadar durmasaydım.*”
Tümcesinde boş bırakılan yere aşağıdaki kelimelerden hangisi gelirse “**pişmanlık**” anlamı katar?

- A.acaba B.keşke C.bugün D.asla

12. Aşağıdaki tümcelerin hangisinde **abartılı** bir ifadeye yer verilmiştir?

- A. Otobüsü son anda kaçırıldı.
B. O kadar çok yoruldu ki ayakkabıları aşındı.
C. Manavda domatesin kilosu 5 TL idi.
D. Vurduğu top tam doksandan gol oldu.

13. (I)Sabah her zamankinden daha erken kalktı.
(II)Annesi çoktan kalkmış kahvaltıyı hazırlamıştı.
(III)Sevinçle annesinin boynuna atıldı.
(IV)Hep beraber oturup kahvaltılarını yaptılar.

Yukarıdaki paragrafta kaç numaralı tümcede **duygusal** bir ifade yer almaktadır?

- A.I B.II C.III D.IV

14. Aşağıdaki tümcelerin hangisinde **duygusal** bir ifade yoktur?

- A. Okula geç kaldığı için öğretmen Ece’ye kızdı.
B. Dünden beri aşırı yağmur yağdı buraya.
C. Dışarıda neşe içinde kartopu oynadılar.
D. Korkudan eli yüzü bembeyaz olmuştu.

15. Aşağıdaki tümcelerin hangisinde **abartılı** bir ifade vardır?

- A. Sabahtan akşama kadar ders çalışıyordu.
B. Arabayla 150 km hızla gittim.
C. Öğle 12.00’ye kadar miskin miskin uyudu.
D. Düşün için fırından 100 ekmek aldım.

16.

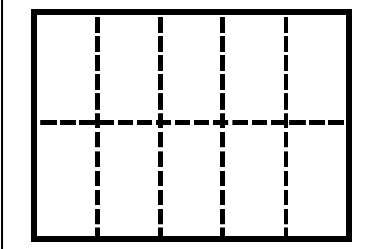
- (I)Gökten bardaktan boşalırcasına yağmur yağıyordu.
(II)Beren, şemsiyesini evde unutmuştu.
(III)Okula gidene kadar bayağı ıslanmıştı.
(IV)Sınıfa girdiğinde saçlarından su damlıyordu.

Yukarıdaki paragrafta kaç numaralı tümcede **abartılı** bir ifade vardır?

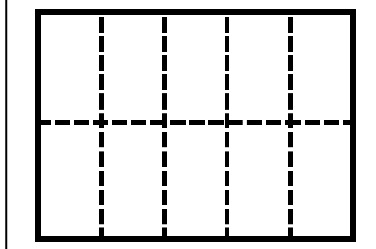
- A.I B.II C.III D.IV

Paydası 10 Olan Kesirlerin Birim Kesrini Gösterelim

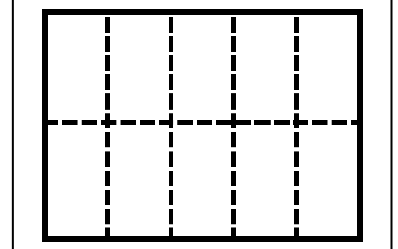
Verilen şekilleri kesir sayısına göre boyayalım. Şeklimizin birim kesrini yazalım.



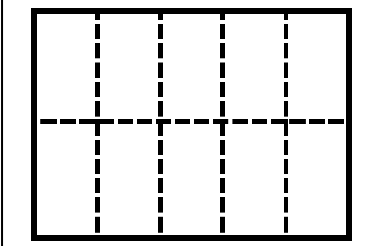
Kesir sayısı	Birim kesir
$\frac{4}{10}$	$\frac{\dots}{\dots}$



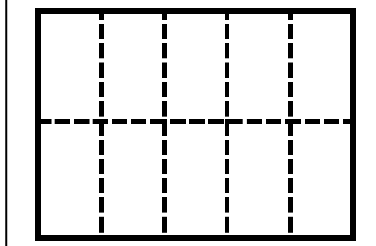
Kesir sayısı	Birim kesir
$\frac{7}{10}$	$\frac{\dots}{\dots}$



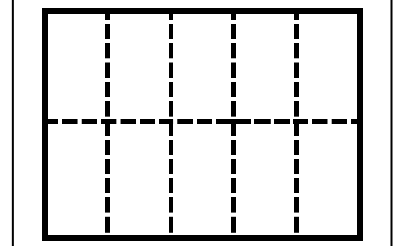
Kesir sayısı	Birim kesir
$\frac{2}{10}$	$\frac{\dots}{\dots}$



Kesir sayısı	Birim kesir
$\frac{3}{10}$	$\frac{\dots}{\dots}$

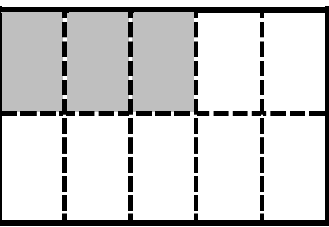


Kesir sayısı	Birim kesir
$\frac{8}{10}$	$\frac{\dots}{\dots}$

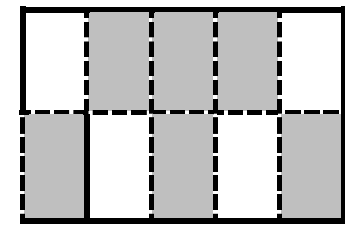


Kesir sayısı	Birim kesir
$\frac{5}{10}$	$\frac{\dots}{\dots}$

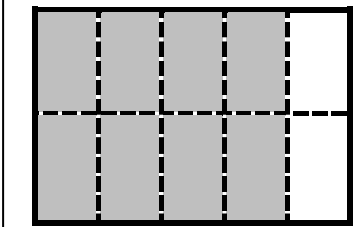
Verilen şekillere göre kesir sayılarını yazalım. Şeklimizin birim kesrini yazalım.



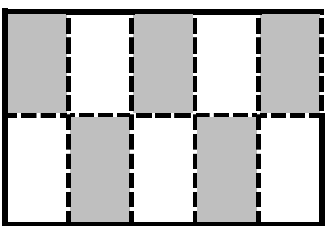
Kesir sayısı	Birim kesir
$\frac{\dots}{\dots}$	$\frac{\dots}{\dots}$



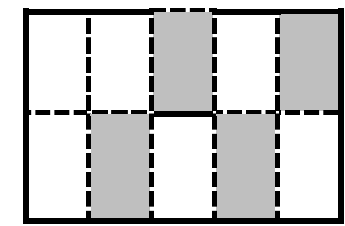
Kesir sayısı	Birim kesir
$\frac{\dots}{\dots}$	$\frac{\dots}{\dots}$



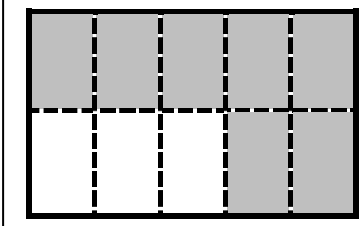
Kesir sayısı	Birim kesir
$\frac{\dots}{\dots}$	$\frac{\dots}{\dots}$



Kesir sayısı	Birim kesir
$\frac{\dots}{\dots}$	$\frac{\dots}{\dots}$




Kesir sayısı	Birim kesir
$\frac{\dots}{\dots}$	$\frac{\dots}{\dots}$




Kesir sayısı	Birim kesir
$\frac{\dots}{\dots}$	$\frac{\dots}{\dots}$


Paydası 100 Olan Kesirlerin Birim Kesrini Gösterelim
Verilen şekilleri kesir sayısına göre boyyalım. Şeklimizin birim kesrini yazalım.




Kesir sayısı	Birim kesir
$\frac{15}{100}$



Kesir sayısı	Birim kesir
$\frac{47}{100}$




Kesir sayısı	Birim kesir
$\frac{62}{100}$




Kesir sayısı	Birim kesir
$\frac{75}{100}$

Verilen şekillere göre kesir sayılarını yazalım. Şeklimizin birim kesrini yazalım.



Kesir sayısı	Birim kesir
$\frac{25}{100}$



Kesir sayısı	Birim kesir
$\frac{40}{100}$