

ÇIKARMA İŞLEMLERİ

1. Aşağıdaki işlemleri sıra izleyerek yapınız.

$$\begin{array}{r} 975 \\ - 75 \\ \hline \dots\dots \end{array} \rightarrow \begin{array}{r} \dots\dots \\ - 75 \\ \hline \dots\dots \end{array} \rightarrow \begin{array}{r} \dots\dots \\ - 75 \\ \hline \dots\dots \end{array} \rightarrow \begin{array}{r} \dots\dots \\ - 75 \\ \hline \dots\dots \end{array}$$

2. Aşağıdaki işlemleri yapınız.

$$\begin{array}{r} 501 \\ - 126 \\ \hline \dots\dots \end{array}$$

$$\begin{array}{r} 612 \\ - 145 \\ \hline \dots\dots \end{array}$$

$$\begin{array}{r} 713 \\ - 327 \\ \hline \dots\dots \end{array}$$

$$\begin{array}{r} 800 \\ - 569 \\ \hline \dots\dots \end{array}$$

C. Aşağıdaki işlemleri doğru sonuçlarıyla eşleştiriniz. Eşleştirmeyi okla yapınız.

$$\begin{array}{r} 478 \\ - 296 \\ \hline \dots\dots \end{array}$$

$$\begin{array}{r} 713 \\ - 367 \\ \hline \dots\dots \end{array}$$

$$\begin{array}{r} 704 \\ - 377 \\ \hline \dots\dots \end{array}$$

$$\begin{array}{r} 503 \\ - 186 \\ \hline \dots\dots \end{array}$$

$$\begin{array}{r} 600 \\ - 127 \\ \hline \dots\dots \end{array}$$

$$\begin{array}{r} 900 \\ - 387 \\ \hline \dots\dots \end{array}$$

$$\begin{array}{r} 800 \\ - 152 \\ \hline \dots\dots \end{array}$$

$$\boxed{165}$$

$$\boxed{180}$$

$$\boxed{182}$$

$$\boxed{260}$$

$$\boxed{346}$$

$$\boxed{327}$$

$$\boxed{548}$$

$$\boxed{317}$$

$$\boxed{280}$$

$$\boxed{265}$$

$$\boxed{473}$$

$$\boxed{150}$$

$$\boxed{648}$$

$$\boxed{513}$$

$$\begin{array}{r} 812 \\ - 264 \\ \hline \dots\dots \end{array}$$

$$\begin{array}{r} 332 \\ - 167 \\ \hline \dots\dots \end{array}$$

$$\begin{array}{r} 425 \\ - 165 \\ \hline \dots\dots \end{array}$$

$$\begin{array}{r} 283 \\ - 103 \\ \hline \dots\dots \end{array}$$

$$\begin{array}{r} 513 \\ - 363 \\ \hline \dots\dots \end{array}$$

$$\begin{array}{r} 620 \\ - 355 \\ \hline \dots\dots \end{array}$$

$$\begin{array}{r} 305 \\ - 25 \\ \hline \dots\dots \end{array}$$

3.SINIF ÇIKARMA İŞLEMLERİ

1.Aşağıdaki çıkarma işlemlerini yapınız.

$$\begin{array}{r} 244 \\ - 232 \\ \hline \end{array}$$

$$\begin{array}{r} 356 \\ - 151 \\ \hline \end{array}$$

$$\begin{array}{r} 547 \\ - 445 \\ \hline \end{array}$$

$$\begin{array}{r} 958 \\ - 625 \\ \hline \end{array}$$

$$\begin{array}{r} 563 \\ - 452 \\ \hline \end{array}$$

$$\begin{array}{r} 943 \\ - 823 \\ \hline \end{array}$$

$$\begin{array}{r} 864 \\ - 311 \\ \hline \end{array}$$

$$\begin{array}{r} 502 \\ - 345 \\ \hline \end{array}$$

$$\begin{array}{r} 840 \\ - 369 \\ \hline \end{array}$$

$$\begin{array}{r} 122 \\ - 112 \\ \hline \end{array}$$

$$\begin{array}{r} 371 \\ - 265 \\ \hline \end{array}$$

$$\begin{array}{r} 482 \\ - 354 \\ \hline \end{array}$$

$$\begin{array}{r} 559 \\ - 433 \\ \hline \end{array}$$

$$\begin{array}{r} 601 \\ - 407 \\ \hline \end{array}$$

$$\begin{array}{r} 993 \\ - 264 \\ \hline \end{array}$$

$$\begin{array}{r} 158 \\ - 113 \\ \hline \end{array}$$

$$\begin{array}{r} 652 \\ - 214 \\ \hline \end{array}$$

$$\begin{array}{r} 433 \\ - 218 \\ \hline \end{array}$$

$$\begin{array}{r} 339 \\ - 234 \\ \hline \end{array}$$

$$\begin{array}{r} 510 \\ - 137 \\ \hline \end{array}$$

$$\begin{array}{r} 381 \\ - 187 \\ \hline \end{array}$$

2.Verilen ilk işlemden başlayarak bulduğun farkları ok ile gösterilen eksilen kısmına yaz ve en sonunda yıldızın değerini bul.

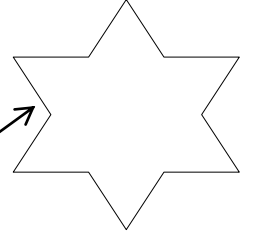
$$\begin{array}{r} 977 \\ - 143 \\ \hline \square \end{array}$$

$$\begin{array}{r} \square \\ - 111 \\ \hline \square \end{array}$$

$$\begin{array}{r} \square \\ - 102 \\ \hline \square \end{array}$$

$$\begin{array}{r} \square \\ - 33 \\ \hline \square \end{array}$$

$$\begin{array}{r} \square \\ - 227 \\ \hline \square \end{array}$$




$$\begin{array}{r} 902 \\ - 155 \\ \hline \square \end{array}$$

$$\begin{array}{r} \square \\ - 122 \\ \hline \square \end{array}$$

$$\begin{array}{r} \square \\ - 90 \\ \hline \square \end{array}$$

$$\begin{array}{r} \square \\ - 177 \\ \hline \square \end{array}$$

$$\begin{array}{r} \square \\ - 266 \\ \hline \square \end{array}$$



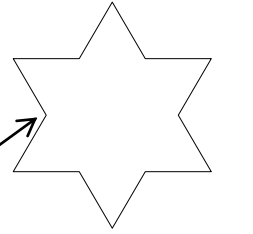
$$\begin{array}{r} 862 \\ - 28 \\ \hline \square \end{array}$$

$$\begin{array}{r} \square \\ - 143 \\ \hline \square \end{array}$$

$$\begin{array}{r} \square \\ - 161 \\ \hline \square \end{array}$$

$$\begin{array}{r} \square \\ - 44 \\ \hline \square \end{array}$$

$$\begin{array}{r} \square \\ - 330 \\ \hline \square \end{array}$$



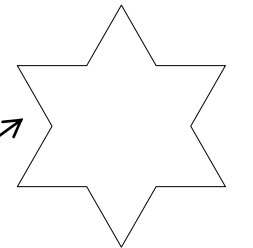
$$\begin{array}{r} 841 \\ - 80 \\ \hline \square \end{array}$$

$$\begin{array}{r} \square \\ - 186 \\ \hline \square \end{array}$$

$$\begin{array}{r} \square \\ - 179 \\ \hline \square \end{array}$$

$$\begin{array}{r} \square \\ - 90 \\ \hline \square \end{array}$$

$$\begin{array}{r} \square \\ - 53 \\ \hline \square \end{array}$$



İş, Oluş ve Hareket Bildiren Sözcükler



Anne kedi, yavrularıyla **oynuyor**. (Anne kedinin yaptığı **işi** bildiriyor.)



Talat yerinden **fırladı**. (Talat'ın yaptığı **hareketi** bildiriyor.)



Ağaçtaki elmalar **kızarmış**. (Elmaların durumuyla ilgili bir **oluş** bildiriyor.)



Ali, köpeği görünce çok **sevindi**. (Ali'nin yaşadığı **duyguyu** anlatıyor.)

Oynuyor, fırladı, kızarmış, sevindi sözcükleri iş, oluş ve hareket bildirmektedir. Cümle kurarken iş, oluş ve hareket bildiren sözcükler kullanırız. **İş, oluş ve hareket** bildiren sözcüklere **eylem** (Fiil) diyoruz.

Görsellere göre noktalı yerlere varlıkların yaptıkları iş ve hareketleri bildiren sözcükler yazınız.



Ahmet kediyle
.....



Zeynep, çiçekleri
.....



Tekir, Karabaş'tan
.....



Horoz güzel
.....

Cümle kurarken eylem bildiren sözcükler kullanırız. Eylem bildiren sözcükler çıkarıldığında cümlenin anlamı bozulur.

Haydi, çocuk odasına **gidelim**.

Parkta **oynadık** bütün gün.

!!!! İş ve eylem bildiren sözcükler cümlelerin değişik yerlerinde olabilir

➤ **Cümlelerdeki iş, oluş ve hareket bildiren sözcükleri bulup yazınız.**

- Şebnem, radyonun sesini **açtı**. ...açtı....
- Balkona oturdu, yoldan gelip geçen insanları izledi
- Şiddetli rüzgâr, ağaçların dallarını koparırcasına sallıyordu.
- Yarın çok kar yağacakmış.
- Ispanak yemeğini çok severim.
- Koştı, düştü, yüksek sesle ağlamaya başladı.
- Hediyesini alınca gözleri doldu.

Aşağıdaki cümleleri sözcüklerin uygun olanlarıyla tamamlayınız.

Söktü - söylüyor- kapattı - içmedi – aldınız - yaptı - fırlattı – geçti - diktik - söylemedi

- Pamuk, sütünü, hastalandı.
- Yeşil ışığın yanmasını beklemeden karşıya.
- Nereden bunları?
- Ağladığını görmesinler diye yüzünü.
- Kitabındaki etiketini, yeniden yapıştırdı.
- Topu basketbol potasına
- Ahmet, yoğurdu su ile karıştırarak ayran
- Neler bu çocuk?
- Evimizin bahçesine kırmızı güller
- Bana kaleminin kaybolduğunu.....

VARLIKLARIN YAPTIĞI İŞLERİ BULUP YAZINIZ

Kalem	Kalem yazar.	yazar
Lamba		dalgalanır
Soba		biçer
Ateş		keser
Tutkal		çalar
Terazi		yüzer
Testere		ısıtır
İlaç		aydınlatır
Çiçek		yanar
Sabun		iyileştirir
Kayık		taşır
Zil		temizler
Bıçak		yapıştırır
Otobüs		kokar
Bayrak		tartar

Aşağıdaki sözcükleri iş, oluş ve hareket bildirecek şekilde birer cümlede kullanınız.

Kayboldu	Köpeğim sokakta <u>kayboldu</u> .
Ütüledi	
Çalışıyor	
Oturacak	
Büyüdü	
Yapacak	
Sevdi	