
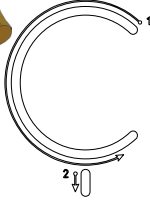


➤ Aşağıdaki varlıkların adlarında "ç - Ç" sesinin geçtiği resimlerin altındaki kutucuğu işaretleyiniz.



Ç Ç Ç Ç Ç Ç Ç Ç Ç Ç

Ç Ç

Ç Ç

Ç Ç Ç Ç Ç Ç Ç Ç

Ç

Ç

e
ç → eç

ec

ü
ç → uç

uç

i
ç → iç

iç

a
ç → aç

aç

ö
ç → öç

öç

u
ç → uç

uç

ı ç iç

ç ü çü

ç a ça

ç e çe

ç o ço

o ç oç

ç ı çı

ç ö çö

ç i çi

ç u çu

Aşağıdaki hecelerin başına yada sonuna "ç" seslerini getirerek okuyunuz ve üzerinden giderek yazınız.

ka ç kaç

ça m çam

ta ç taç

su ç suç

çi m çim

çö l çöl

çö z çöz

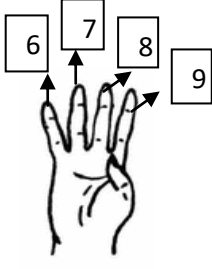
ça y çay

çi l çil

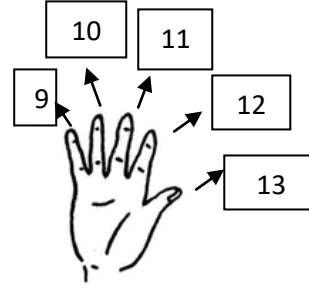
üç lü çe kiç iç li öl çü

TOPLAMA İŞLEMLERİ

Büyük sayının üzerine sayarak toplama işlemi yapalım.



$$5 + 4 = 9$$



$$8 + 5 = \dots\dots$$



$$7 + 5 = \dots\dots$$



$$12 + 6 = \dots\dots$$



$$6 + 3 = \dots\dots$$



$$10 + 4 = \dots\dots\dots$$



$$7 + 6 = \dots\dots$$



$$9 + 8 = \dots\dots\dots$$



$$7 + 4 = \dots\dots$$

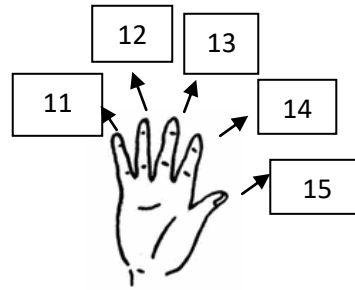


$$13 + 6 = \dots\dots\dots$$

5 6 7 8



$$4 + 4 = \dots$$



$$10 + 5 = \dots$$



$$9 + 5 = \dots$$



$$8 + 6 = \dots$$



$$10 + 3 = \dots$$



$$11 + 4 = \dots$$



$$8 + 6 = \dots$$



$$10 + 8 = \dots$$



$$11 + 4 = \dots$$



$$12 + 6 = \dots$$