

## ÖĞRENDİKLERİMİZİ HATIRLAYALIM

Eşanlamlı, zıt anlamlı, eşesli, özel isim, tekil isim ve sözlük sırası etkinliği

A. Aşağıdaki şıklarda eş anlamı olan sözcüğü yuvarlak içine alınız.

- |                |              |             |            |
|----------------|--------------|-------------|------------|
| 1. A). Araba   | B). Anı      | C). Arslan  | D). Askı   |
| 2. A). Okul    | B). Kalem    | C). Silgi   | D). Defter |
| 3. A). Polis   | B). Öğretmen | C). Hemşire | D).Avukat  |
| 4. A). Kırmızı | B). Sarı     | C). Mavi    | D) Gri     |
| 5. A). Gemi    | B). Güneş    | C). Gömü    | D).Göl     |

B. Aşağıdaki şıklarda zıt anlamı olan sözcüğü yuvarlak içine alınız.

- |              |           |             |            |
|--------------|-----------|-------------|------------|
| 1. A). Güneş | B)Soğuk   | C)Cetvel    | D)Kırmızı  |
| 2. A). Uzun  | B)Yol     | C). Veli    | D). Üzüm   |
| 3. A. Kalem  | B. Silgi  | C). İyi     | D). Defter |
| 4. A). Cevap | B). Kapı  | C). Pencere | D).Su      |
| 5. A). Saat  | B). Doğru | C). Dört    | D). Üç     |

C. Aşağıdaki şıklarda sestesh olan sözcüğü yuvarlak içine alınız.

- |              |              |           |              |
|--------------|--------------|-----------|--------------|
| 1. A). Gece  | B) Gündüz    | C). Çay   | D). Saçak    |
| 2. A). Saat  | B). Yaz      | C). Vazo  | D). Göl      |
| 3. A). Yedi  | B). Sekiz    | C). Dokuz | D). On       |
| 4. A). Sır   | B). Kır      | C) Tır    | D). Yağmur   |
| 5. A). Pazar | B).Pazartesi | C). Salı  | D). Çarşamba |

D. Aşağıdaki şıklarda özel ismi yuvarlak içine alınız.

- |                |              |             |              |
|----------------|--------------|-------------|--------------|
| 1. A).Türkiye  | B). Silgi    | C). İğne    | D). Ataş     |
| 2. A). Atatürk | B). Su       | C). Ev      | D). Kapı     |
| 3. A). Gözlük  | B). Ankara   | C). Çatal   | D). Bulut    |
| 4. A). Elma    | B). İstanbul | C). Pencere | D). Duvar    |
| 5. A. Eren     | B). Öğretmen | C. Memur    | D). Sekreter |

E. Aşağıdaki şıklarda tekil olan sözcüğü yuvarlak içine alınız.

- |                 |                |               |              |
|-----------------|----------------|---------------|--------------|
| 1 A). Kedi      | B). Tavşanlar  | C). Kuşlar    | D). Atlar    |
| 2. A). Balık    | B). Ağaçlar    | C). Çiçekler  | D). Şekerler |
| 3. A). Güller   | B). Ceviz      | C). Kavunlar  | D). Marullar |
| 4. A). Balonlar | B). Bayrak     | C). Yoğurtlar | D). Şişeler  |
| 5. A). Baklalar | B). Domatesler | C). Pırasa    | D).Sebzeler  |

F.Aşağıdaki şıklarda sözlükte ilk sırada yer alan sözcüğü yuvarlak içine alınız.

- |              |          |           |           |
|--------------|----------|-----------|-----------|
| 1. A).Taksi  | B).Gemi  | C).Metro  | D).Uçak   |
| 2. A).Halı   | B).Hacı  | C).Hoca   | D).Hatıra |
| 3. A).Kapı   | B).Kalın | C).Balık  | D).Deniz  |
| 4. A).Yaz    | B).Yazı  | C).Yazık  | D).Yazlık |
| 5. A).Yağmur | B)Yanlış | C).Yalnız | D).Yeter  |

\*Aşağıdaki sözcüklerin harf ve hece sayısını , ünlü ve ünsüz harflerini bulup tabloya yazınız.

	ünlüler	ünsüzler	heceler	Kaç harf	Kaç hece
kitap	i-a	k-t-p	ki-tap	5	2
mevsimler					
hafta					
gün					
yıl					
akıllı					
oyuncak					
yuva					
aile					

\*Tablodaki özel isimleri açık maviye, özel isim olmayanları sarıya boya.


mevsim	Şükrüpaşa İlkokulu	uçak	Kayra	bebek	Arpaç Köyü	gökyüzü
yıl	Türkiye	çay	Berkay	limon	Adana	yeryüzü
hafta	Berilay	bulmaca	Aysel	çanta	Gül Sokak	yağmur
gün	5.Cadde	ışık	Nehir	kelebek	Atatürk	çarpma

\*Aşağıda karışık olarak verilen hecelerden sözcükler oluşturup karşısına yazınız.

mür	lük	kö		man	da	ku	
pat	ya	pa		ta	kal	por	
kir	ge	çe		la	sa	ta	
tas	is	yon		ya	pat	pa	
la	se	nik		da	may	noz	
de	ci	per		ne	ma	si	
li	ba	na		ri	han	pe	
part	a	man		dur	ma	don	
dun	o	luk		ta	şef	li	

# KESİRLER-DEĞERLENDİRME

1.) Aşağıdakilerden hangisi çeyreği temsil eder?



2.) Aşağıdakilerden hangisinin yarısı boyanmıştır ?



3.) Bir bütün ekmekten kaç çeyrek ekmek çıkar?



A) 4 B) 3 C) 2

4.) 8 çeyrek kaç bütün olur?

A) 2 B) 4 C) 3

5.) Yandaki şeklin ne kadarı boyanmıştır?



A) Çeyreği B) Yarısı C) Tümü

6.) Bir deste portakalın yarısı kaçtır?

A) 10 B) 6 C) 5



Biz evde yaz aylarında her gün yarım karpuz yiyoruz. Evimizdeki üç karpuz bize kaç gün yeter acaba?

A) 3 B) 4 C) 6

8.) Yandaki pastanın ne kadarı yenmiş?



A) Hepsini B) Çeyreği C) Yarısı



Bir bütünü dört eşit parçaya bölersek her bir parçaya ne ad verilir?

A) Bütün B) Yarım C) Çeyrek

10.)



Tabağımda 8 tane kurabiye vardı. Bunlardan 4 tanesini yedim. Kurabiyelerin ne kadarını yemiş oldum?

A) Hepsini B) Çeyreğini C) Yarısını

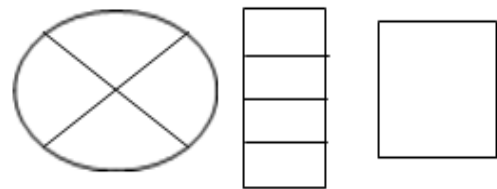
11.) Yandaki şeklin ne kadarı boyalıdır?



A) Çeyreği B) Yarısı C) Tamamı

12.) Aşağıdaki şekillerin söylenen kadarını boyayınız.

\*Çeyreğini boya



\*Yarısını Boya





13. Yukarıdaki elmaları tam ortadan bölersek kaç yarım elde ederiz.

A) 12

B) 24

C) 6



14. Yukarıdaki yarım lar kaç bütün oluşturur?

A) 5

B) 20

C) 4

5 bütün.....yarım eder.

2 bütün... çeyrek eder.

15. Yukarıdaki boşluklara yazılacak sayıları hangi öğrenci doğru doğru söylemiştir?

A)



5 bütün 20 yarım, 2 bütün 4 çeyrek eder.

B)



5 bütün 20 yarım, 2 bütün 8 çeyrek eder.

C)



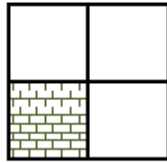
5 bütün 10 yarım, 2 bütün 8 çeyrek eder.

16. Hangi şeklin çeyreği boyanmıştır?

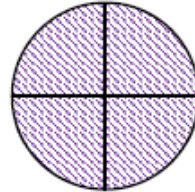
A)



B)



C)



17. Aşağıdaki ifadelerden hangisi 4 bütünü ifade eder?

A) 3 bütün, 6 yarım.

B) 4 yarım, 4 çeyrek.

C) 2 bütün, 8 çeyrek.