



TÜRKÇE DERSİ SORULARI

1. "kahvaltı" sözcüğünde kaç tane harf ve kaç tane hece vardır?
A) 7 harf, 2 hece B) 8 harf, 4 hece C) 8 harf, 3 hece
2. Hangi davranışı yapan öğrenci, anlatılanları daha iyi anlar?
A) Bir şey anlatılırken yanındaki arkadaşıyla konuşan öğrenci.
B) Anlatılanları dikkatle dinleyen öğrenci.
C) Konuşurken bir şeyler çizen veya yazı yazan öğrenci.
3. "Dün bize Mustafa amcam geldi." cümlesinde aşağıdakilerden hangisiyle gösterilen sözcük yanlış yazılmıştır?
A) ■ B) ▲ C) ●
4. "Sen her sabah geç kalıyorsun ()," cümlesinin sonuna hangi noktalama işaretini koymalıyız? A) virgül (,) B) soru işareti (?) C) nokta (.)
5. "Zamanını iyi değerlendirmelisin." cümlesinde hangi ünlü (sesli) harf hiç kullanılmamıştır?
A) u B) e C) i
6. Hangisi tek heceli bir sözcüktür?
A) kasa B) etek C) park
7. Hangi kelimenin ilk harfi her zaman büyük yazılır?
A) Ağaç B) Mor C) Kızılırmak
8. "Yarın size geleceğiz." cümlesinde hangi sorunun cevabı yoktur?
A) Ne zaman? B) Kime? C) Nasıl?
9. Satır sonuna sığmayan sözcükleri hangi noktalama işareti kullanarak ayırırız?
A) tırnak işareti B) kısa çizgi C) uzun çizgi
10. "-ka, -ya, -la" heceleri ile hangi sözcük oluşturulamaz?
A) kale B) kaya C) yaka
11. "Akşam yatmadan önce ellerini () ayaklarını yıkadın mı ()." cümlesinde sırasıyla hangi noktalama işaretleri kullanılmalıdır?
A) (,), (|) B) (|), (?) C) (,), (?)

MATEMATİK DERSİ SORULARI

12. "10" sayısı hangi sayılar arasındadır?
A) 11 - 12 B) 8 - 9 C) 9 - 11
13. Yarın Cumartesi ise dün günlerden neydi?
A) Pazar B) Perşembe C) Salı
14. Beden Eğitimi dersindeki koşu yarışmasında 3. olan Zeynep'ten önce kaç kişi yarışmayı tamamlamıştır?
A) 1 B) 2 C) 3

15. En kısa olan hayvanı işaretleyiniz?



16. Hangisi toplama işlemini ifade etmez?

A) 4 elma, 2 elma daha 6 elma eder.

B) 12'ye 6 eklersem 18 eder.

C) 14 cevizin 4'ünü yersem 10 ceviz kalır.

17.



Yukarıdaki sayı dizisinde boş bırakılan yerlere sırasıyla hangi sayılar yazılmalıdır?

A) 17 - 13

B) 16 - 12

C) 15 - 13

18. Hangi çıkarma işleminin sonucu 11 değildir?

A) $14 - 3 =$

B) $16 - 5 =$

C) $19 - 6 =$

19. "Annem, tabağa 7 elma koymuştu. 5 tanesini yedik. Tabakta kaç elma kaldı?,"

sorusunu çözmek için hangi işlemi yapmalıyız?

A) toplama işlemi

B) çıkarma işlemi

C) çarpma işlemi

20.



Yandaki saatin tam 8'i göstermesi için yelkovanın hangi sayı üzerinde olması gerekir?

A) 8

B) 6

C) 12

HAYAT BİLGİSİ DERSİ SORULARI

21. Hangisi temizlikle ilgili değildir?

A) Dişlerimizi fırçalamak. B) Ödevlerimizi yapmak. C) Tırnaklarımızı kesmek.

22. Hangisi milli bayramlarımızdan birisidir?

A) Ramazan Bayramı

B) Kurban Bayramı

C) Cumhuriyet Bayramı

23. Atatürk'ün mezarı hangi ilimizdedir?

A) Selanik

B) İstanbul

C) Ankara

24. Türk bayrağının üzerinde hangisinin resmi yoktur?

A) Güneş

B) Ay

C) Yıldız

25. Hangisi sağlığımızla ilgilenir?

A) Öğretmen

B) Polis

C) Hemşire

26. Yemeklerden önce hangisini mutlaka yapmamız gerekir?

A) Ayaklarımızı yıkamak.

B) Ellerimizi yıkamak.

C) Saçlarımızı yıkamak.

27. "Anne, baba ve çocuklardan oluşan topluluğa.....denir." cümlesindeki boş bırakılan yere hangisi yazılmalıdır?

A) grup

B) aile

C) okul

28. Adresimizi söylerken hangisini söylemeyiz?

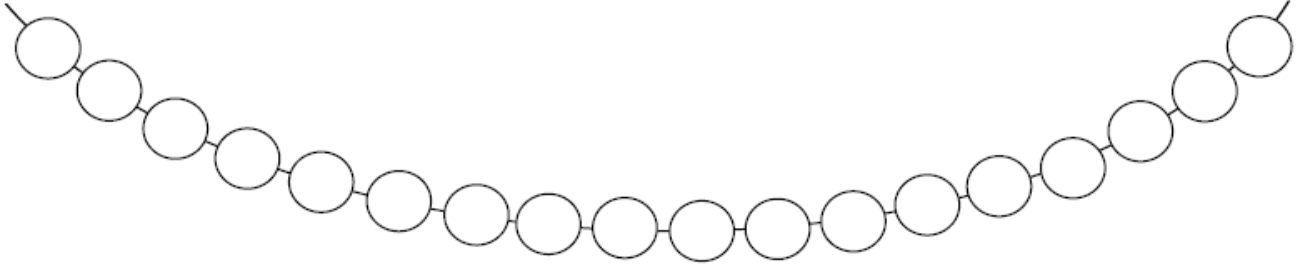
A) babamızın yaşını

B) sokağımızın adını

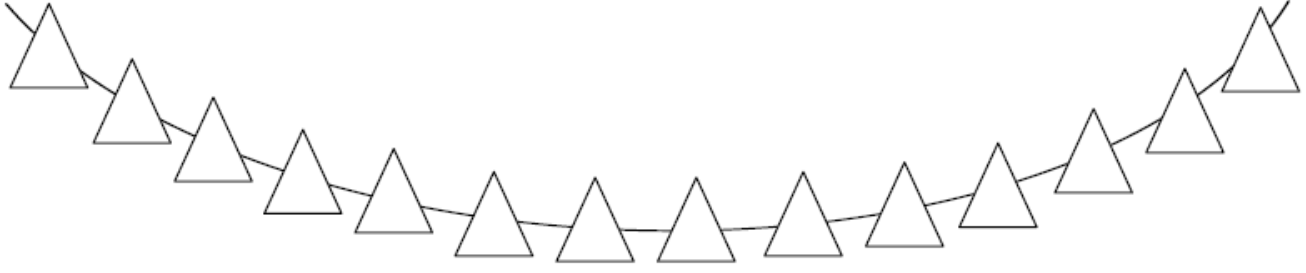
C) kapı numarasını

ÖRÜNTÜLER

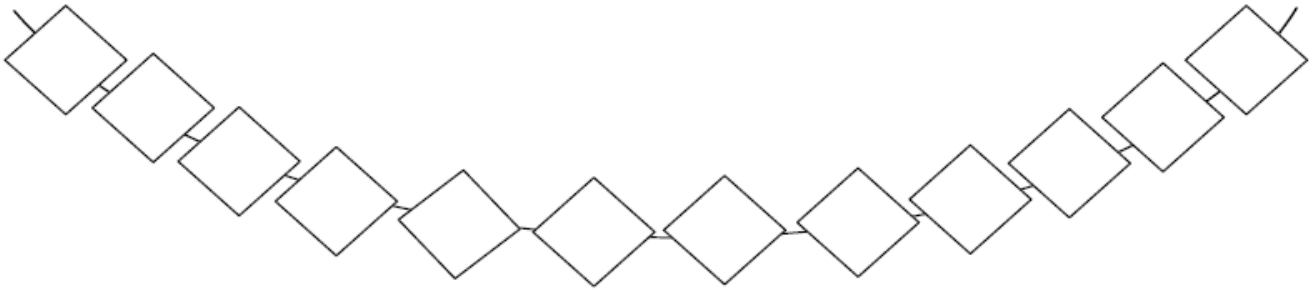
1.Etkinlik: İki renk kullanarak boncukları belli bir kurala göre boyayalım.



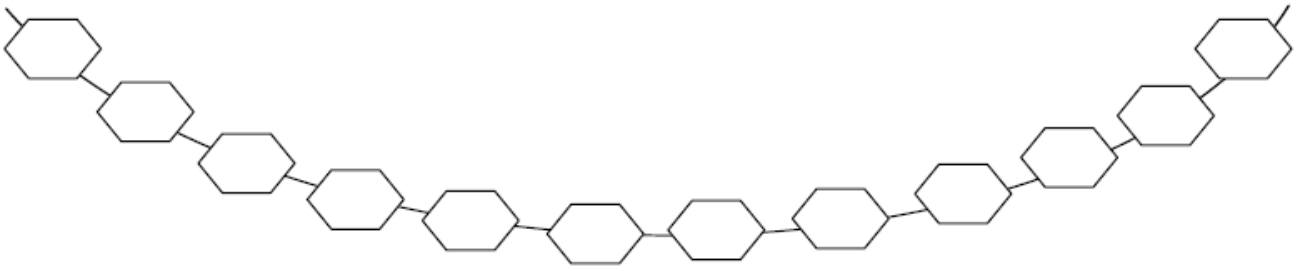
2.Etkinlik: İki renk kullanarak boncukları belli bir kurala göre boyayalım.



3.Etkinlik: Üç renk kullanarak boncukları belli bir kurala göre boyayalım.



4.Etkinlik: Üç renk kullanarak boncukları belli bir kurala göre boyayalım.



5.Etkinlik: Üç renk kullanarak boncukları belli bir kurala göre boyayalım.



6.Etkinlik: İki renk kullanarak şekilleri belli bir kurala göre boyayalım.



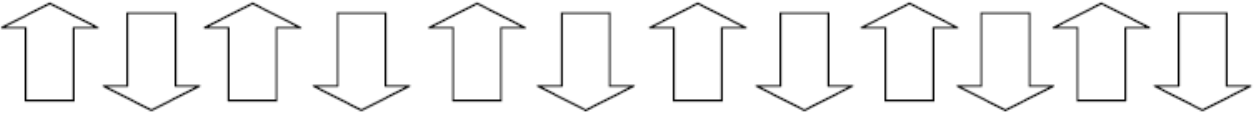
7.Etkinlik: İki renk kullanarak şekilleri belli bir kurala göre boyayalım.



8.Etkinlik: Üç renk kullanarak şekilleri belli bir kurala göre boyayalım.



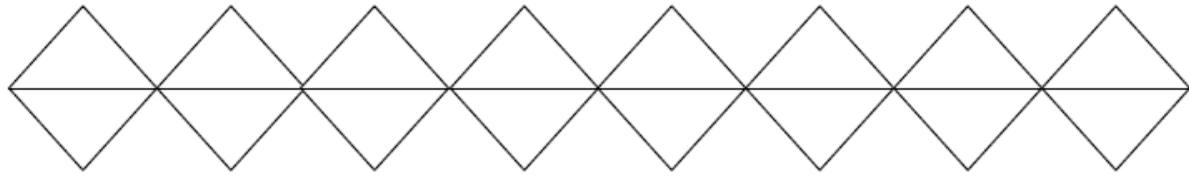
9.Etkinlik: İki renk kullanarak şekilleri belli bir kurala göre boyayalım.



10.Etkinlik: Üç renk kullanarak şekilleri belli bir kurala göre boyayalım.



11.Etkinlik: İki renk kullanarak şekilleri belli bir kurala göre boyayalım.



12.Etkinlik: Üç renk kullanarak şekilleri belli bir kurala göre boyayalım.



13.Etkinlik: Üç renk kullanarak şekilleri belli bir kurala göre boyayalım.

