

KESİR ÇEŞİTLERİ

3. TAM SAYILI KESİRLER : Bir veya birden fazla bütün ile basit kesirden oluşan kesirlere _____ denir.

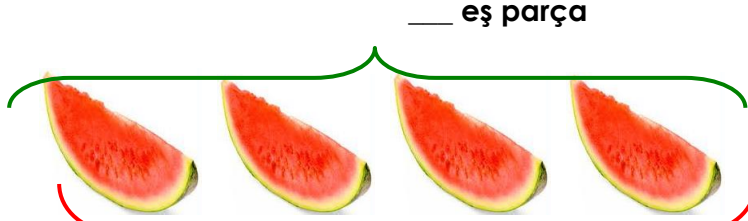
☉ Aşağıdaki örneği inceleyip boşlukları doldurunuz.



Babamın aldığı 2 karpuzdan birinin tamamını, diğerinin 4 eş parçasından 3'ünü yedik.



1 tam



Yenilen 4 eş parçadan 3'ü → $\frac{\dots}{\dots}$

1 tam ve $\frac{\dots}{\dots} = 1 \frac{\dots}{\dots}$ → _____ veya _____

☉ Aşağıdaki kesir sayılarının kutucuklarını belirtilen renklere boyayınız. (Başka renkler de kullanabilirsiniz.)

Basit kesir : Kırmızı

Bileşik kesir : Mavi

Tam sayılı kesir : Sarı

$\frac{8}{6}$

$\frac{3}{7}$

$\frac{14}{18}$

$2\frac{1}{5}$

$\frac{12}{20}$

$3\frac{2}{3}$

$\frac{9}{5}$

$\frac{2}{8}$

$1\frac{4}{7}$

$4\frac{3}{9}$

$\frac{7}{2}$

☉ Aşağıdaki tam sayılı kesirlerin okunuşunu örnekteki gibi yazınız.

$1\frac{1}{2}$ → bir tam bir bölü iki, bir tam ikide bir

$2\frac{3}{4}$ → _____

$3\frac{5}{6}$ → _____

$4\frac{2}{9}$ → _____

☉ Şekillerin boyalı kısımlarının ifade ettiği kesir sayılarını örnekteki gibi yazınız.



1 tam

$\frac{1}{2}$

$1\frac{1}{2}$ → bir tam bir bölü iki, bir tam ikide bir



..... tam bölü


..... tamte

_____ $\frac{\dots}{\dots}$



..... tam bölü

..... tamte



..... tam bölü

..... tamte

☉ Aşağıdaki tam sayılı kesirleri şekille gösteriniz.

$2\frac{2}{4} \rightarrow$

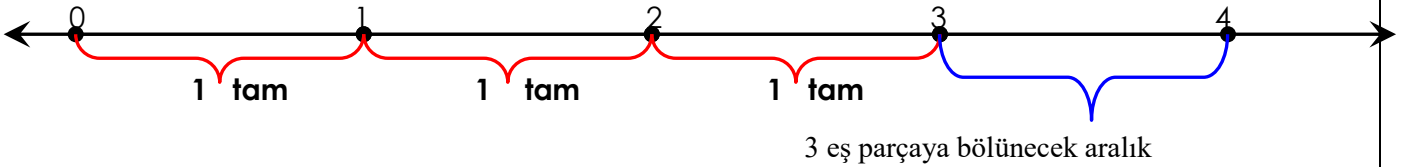
$3\frac{5}{6} \rightarrow$

$4\frac{3}{5} \rightarrow$

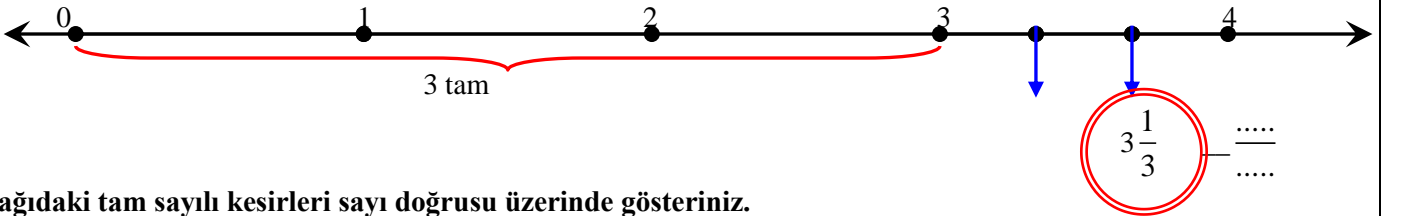
TAM SAYILI KESİRLERİN SAYI DOĞRUSUNDA GÖSTERİLMESİ

$3\frac{2}{3}$ kesrini sayı doğrusunda gösterelim. PAY : _____ PAYDA : _____

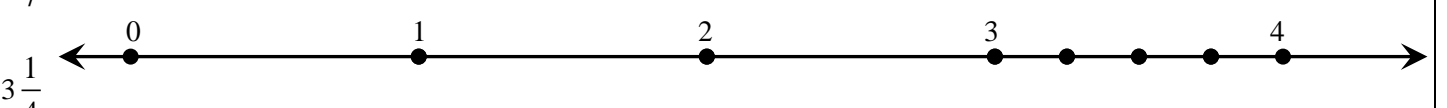
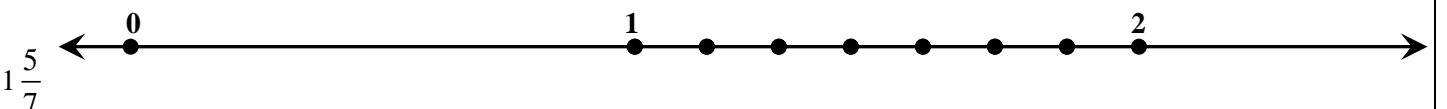

1. aşama : Kesrin tam kısmı 3 olduğundan kesrin kendisi ___ ile ___ arasındadır.



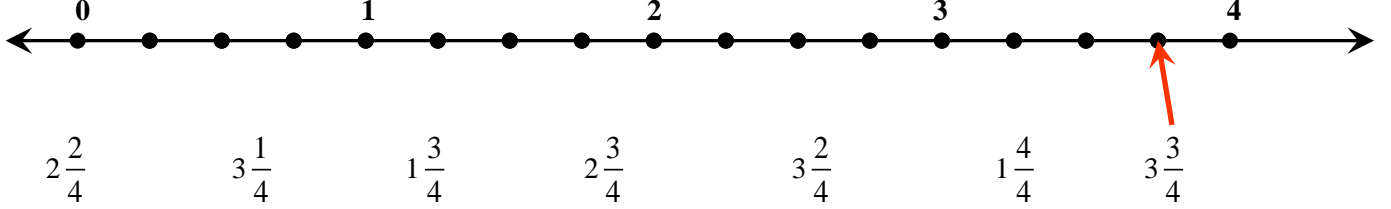
2. aşama : Sayı doğrusunda 3 ile 4 arası ___ eş parçaya ayırılır ve eş parçalardan ___ tanesi alınırsa $3\frac{2}{3}$ tam sayılı kesri elde edilir.



☉ Aşağıdaki tam sayılı kesirleri sayı doğrusu üzerinde gösteriniz.



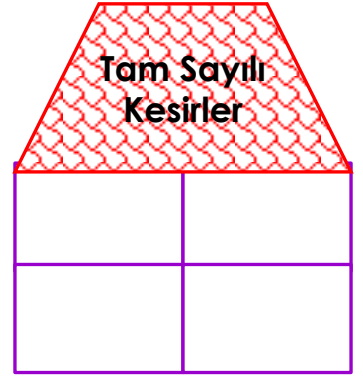
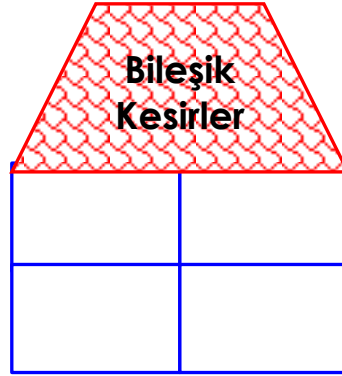
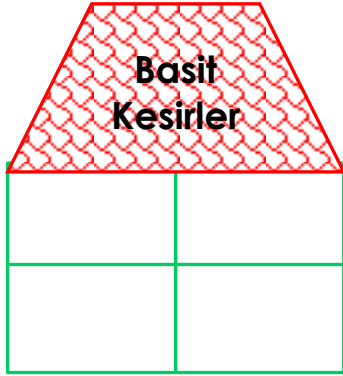
☉ Aşağıda verilen kesirleri örnekteki gibi sayı doğrusundaki yerleri ile eşleştiriniz.




KESİRLER KONUSUNDA NELER BİLİYORUM?

☉ Aşağıda verilen kesirleri, çeşitlerine göre kutucuklar içine yerleştiriniz.

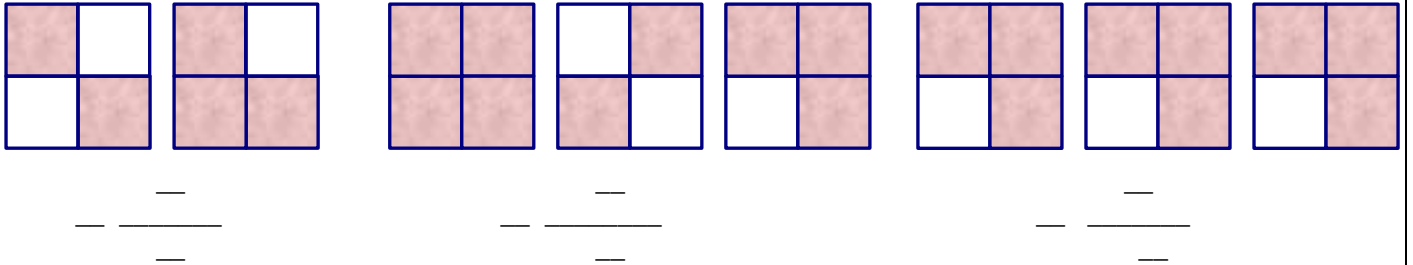
$\frac{21}{6}$, $\frac{48}{11}$, $\frac{1}{4}$, $\frac{3}{5}$, $1\frac{1}{4}$, $\frac{8}{13}$, $\frac{17}{5}$, $2\frac{4}{9}$, $\frac{5}{2}$, $2\frac{7}{14}$, $\frac{13}{14}$, $8\frac{13}{17}$



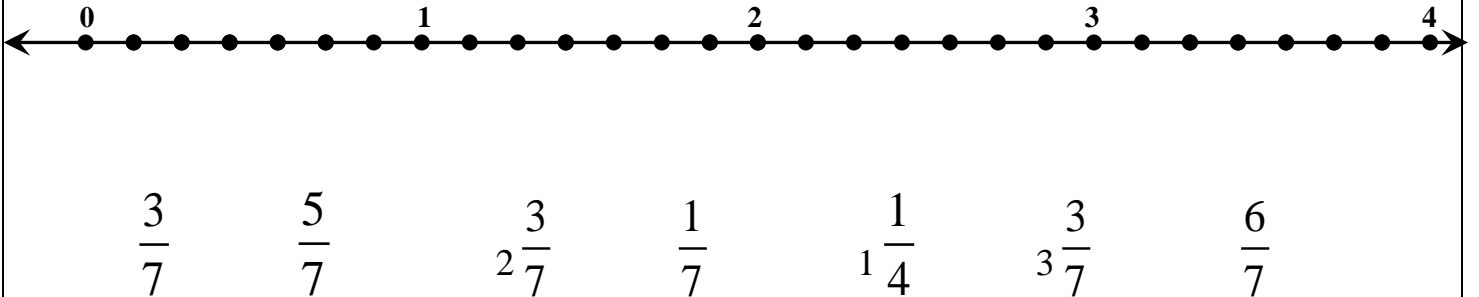
☉



Yandaki şekil bir tam ise aşağıdaki şekillerin boyalı kısımlarını kesir olarak gösteriniz.



☉ Aşağıda verilen kesirlerin yerini sayı doğrusu üzerinde bularak okla eşleştirin.



8- Aşağıda yazı ile verilen kesirleri rakamla yazınız.

İki bölü dokuz =

Dört tam beşte iki =

Üç tam altı bölü on yedi =

On bölü sekiz =

Sekizde üç =

Altı tam dört bölü sekiz =

Dokuz bölü üç =

On dörtte beş =

Sekiz tam altıda iki =

TÜRKÇE GENEL DEĞERLENDİRME

1. Aşağıdaki cümlelerin hangisinde “sebep-sonuç” ilişkisi **yoktur**?

- A. Geleceğimi bildiği hâlde beni karşılamadı.
- B. Annesinin geleceğini öğrenince sevindi.
- C. Güzel şiirler yazdığı için ödül aldı.
- D. Ağır çanta taşımaktan sırtı ağrıdı.

2. Hangi cümlede "geniş" sözcüğünün zıt anlamlısı kullanılmıştır?

- A. Hiçbir şeyden sıkılmamıştım bu kadar.
- B. Herkesle iyi geçinmesini bilen birisiydi.
- C. Güzel ama biraz dar oldu diye almayacağım.
- D. Dürüstlük en büyük hazineymiş.

3. Aşağıdaki sözcüklerden kurallı ve anlamlı bir cümle yaparsak sıralama nasıl olur?

- (3)gece (2)geldiği (5)geç (4)için (1)kimseyi (6)görmemiş
- A. 3 - 2 - 6 - 4 - 5 - 1
 - B. 5 - 2 - 4 - 3 - 1 - 6
 - C. 3 - 5 - 2 - 4 - 1 - 6
 - D. 5 - 6 - 3 - 4 - 1 - 2

4. Göz kelimesi hangi cümlede gerçek anlamıyla kullanılmıştır?

- A. Gülay bu hareketi ile öğretmenin gözünden düştü.
- B. Yeliz'in gözlerinden boncuk boncuk yaş döküldü.
- C. Arabamıza göz değdi, arızalanması bu yüzden sanırım.
- D. Göz açıp kapayınca kadar döneceğim merak etme.

5. Aşağıdaki cümlelerin hangisinde “abartma” vardır?

- A. Öyle yorgunum ki her yanım kopacak gibi ağrıyor.
- B. Acaba bu çalışmamın karşılığını alabilecek miyim?
- C. Biz de sana güvenip bu kadar borca girdik.
- D. Trafik çok yoğun, arabayı dikkatli kullan.

6. Aşağıdaki cümlelerin hangisinde “patlamak” kelimesi mecaz anlamıyla kullanılmış?

- A. Tam hüzünlenmiştik ki Ayşe bir espri patlattı
- B. Hilmi meyve suyu kutularını patlattı.
- C. Esra mısır patlattı.
- D. Arabanın lastiğini patlattı

7. “Dün gece dağların doruklarına biraz kar yağmış.” Yukarıdaki cümlede aşağıdaki sorulardan hangisinin cevabı yoktur?

- A. Ne zaman
- B. Nereye
- C. Nasıl
- D. Ne

8. “Ormanda piknik yapmaya gittik.” Cümlesinde yapılan işi anlatan kelime hangisidir?

- A. ormanda
- B. piknik
- C. Yapmaya
- D. gittik

9. Aşağıdaki cümlelerin hangisinde yazım yanlışı vardır?

- A. Yarın Ahmet ile birlikte kütüphaneye gideceğiz.
- B. Kış mevsimi anadoluda sert geçer.
- C. Ankara çok uzaklardan görülüyor.
- D. 25 Mayıs Perşembe günü on yaşına gireceğim.

10. Aşağıdakilerden hangisi yanlış yazılmıştır?

- A) İstanbul
- B) Tırabzon
- C) Aydın
- D) Edirne

11. Aşağıdaki cümlelerden hangisinin sonuna soru işareti konulmalıdır?

- A. Nereden geldiğimi sormadı bile
- B. Güzel mi güzel bir bahçeleri var
- C. Hangisini alacağımı şaşırdım
- D. Camı kıran hangisi

12. “Kırılmak” kelimesi, hangi seçenekte farklı bir anlamda kullanılmıştır?

- A) Oyuncağı kırılan çocuk ağladı.
- B) Ayağı kırılmış, alçıya almışlar.
- C) Söylediklerine çok kırıldım.
- D) Çubukları kırılan sihirbaz üzgündü.

13. “ Bu sabah çay kenarında çay demledik.”

Cümlesinde geçen çay kelimeleri arasındaki ilişki nedir?

- A. Eş seslidir
- B. Eş anlamlıdır
- C. Zıt anlamlıdır
- D. Özellik bildirir

14. “Ayağımı yorganına göre uzat” atasözü bize neyi öğütlemektedir?

- A) Tutumlu olmak
- B) Yardımlaşmak
- C) Ayağına iyi bakmak
- D) Çalışmak

15. Aşağıdaki cümlelerin hangisinde ismin yerine kullanılan bir sözcük vardır?

- A) Aslı, gördüklerini tek tek anlattı.
- B) Onların sesleri bize kadar geliyordu.
- C) Hediye, tüm çocukları heyecanlandırır.
- D) Arzu yaptıklarına pişman oldu.

16. Aşağıdaki sözcüklerin hangisinde yazım yanlışı vardır?

- A) Karslı
- B) İngilizce
- C) İzmir'li
- D) Osmanlılar

17. Aşağıdaki sözcüklerin hangisinin yazımı doğrudur?

- A) bisiklet
- B) ezzane
- C) gasete
- D) hayran

18. “İkinci gün” sözünün rakamla yazılışı aşağıdakilerin hangisinde doğru verilmiştir?

- A) 2 gün
- B) 2. gün
- C) 2, gün
- D) 2- gün

19. “Özgürlük” sözcüğünün karşıt anlamlısı hangisidir?

- A)hürriyet
- B)demokrasi
- C)tutsaklık
- D)bağımsızlık

20. Aşağıdakilerden hangisinde yazım yanlışı vardır?

- A) Kitap
- B)Dördü
- C) Dolab
- D) Çift

21. Hangisi yanlış yazılmıştır?

- A) Kitaptan
- B) Bilekden
- C) Bilgin
- D) Coşkun

22. Aşağıdaki cümlelerin hangisindeki “de” nin yazımı doğrudur?

- A)Sen de şiir kitabı var mı?
- B)Sende gelecek misin?
- C) Sokaklarda evler gibi temizdi.
- D)O da senin gibi çalışkanmış.