

EŞ ANLAMLI (ANLAMDAŞ) KELİMELER

Yazılışları ve söylenişleri farklı, anlamları aynı olan kelimelere anlamdaş (eş anlamlı) kelimeler denir.

ÖRNEKLER:

cevap → yanıt
ufak → küçük
anı → hatıra

iri → kocaman
kelime → sözcük
laf → söz

1. Aşağıdaki kelimelerin eş anlamlarını tablodan bularak boşluklara yazalım.

ak	macera	mualim	isim
mektep	hasret	talebe	ırak
yürek	akıllı	ozan	soru

öğretmen
özlem
zeki
sual
şair
kalp

öğrenci
uzak
okul
beyaz
serüven
ad

2. Aşağıdaki cümlelerdeki eş anlamlı kelimeleri çember içine alalım.

* Bu yıl çok ders çalışacağım.

* Bu sene tatile gitmeyeceğiz.

* Dayım çok güçlü bir adamdır.

* İnşaatla kuvvetli işçiler çalışıyor.

* Teyzem bana elbise dikecek.

* Bayramda yeni giysi alacağım.

* Okulumuza ünlü bir sihirbaz geldi.

* Barış Manço, meşhur bir sanatçısıdır.

3. "İsim" kelimesinin eş anlamlısı hangi seçenekteki cümlede vardır?

- A) Bana adını söyler misin?
B) Sen kimsin?
C) Nereden geliyorsun?

4. Hangi seçenek eş anlamlı kelimelerden oluşmamıştır?

- A) cevap – yanıt B) ırmak – nehir C) silgi – açacak

5. "Bu gün markette fazla müşteri yoktu." cümlesinde altı çizili kelimenin eş anlamlısı hangisidir?

- A) gezici B) alıcı C) satıcı

6. Hangi seçenek eş anlamlı kelimelerden oluşturmuştur?

- A) iniş – çıkış B) doğru – yanlış C) lider – önder

7. Aşağıdaki eş anlamlı kelimeleri eşleştiriniz.

vakit

aylık

kırmızı

mühim

maaş

zaman

çabuk

doğa

rüya

kelime

önemli

al

sözcük

hayal

tabiat

tez

8. "Sonbahar mevsiminde yapraklar dökülür." cümlesindeki "sonbahar" kelimesinin yerine aşağıdakilerden hangisini koyabiliriz?

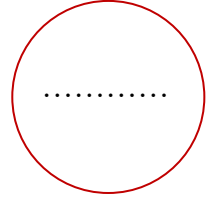
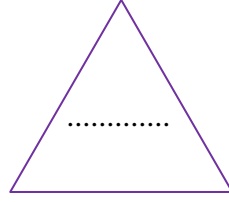
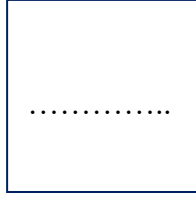
- A) güz B) soğuk C) ilkbahar

9. "millet." kelimesinin eş anlamlısı hangisidir?




- A) mahalle B) toprak C) ulus

GEOMETRİK CİSİMLER VE ŞEKİLLER

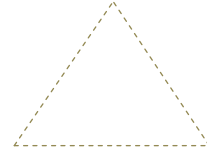
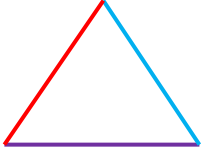
1 - Aşağıdaki geometrik şekillerin içine adlarını yazınız.



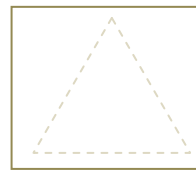


2 - Aşağıdaki geometrik şekillerin köşelerini kırmızı kalemle örnekte olduğu gibi yuvarlak içine alınız



3 - Aşağıdaki geometrik şekillerin her kenarını örnekte olduğu gibi farklı renklere boyayınız.

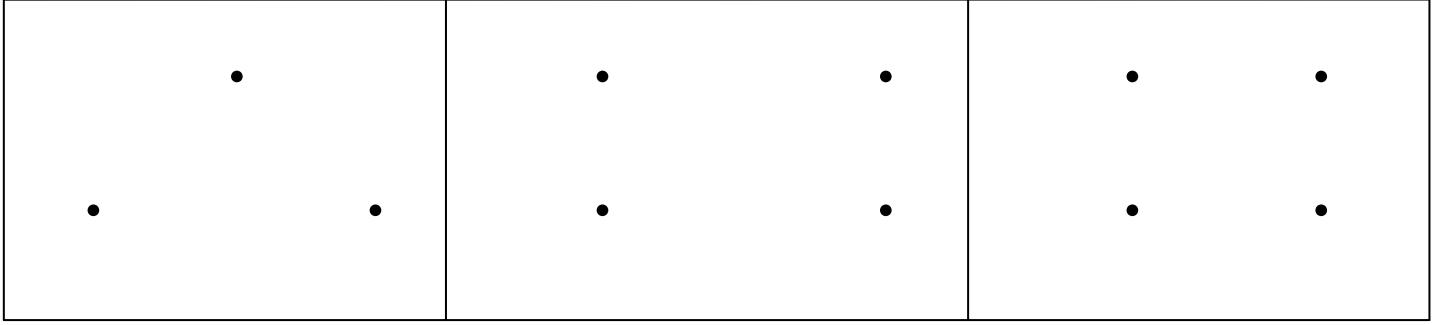


4 - Aşağıdaki geometrik şekilleri yandaki kutucuklara çiziniz.



GEOMETRİK ŞEKİLLER

1- Aşağıdaki noktaları birleştirerek oluşan şekillerin isimlerini yazınız.



2- Özellikleri verilen geometrik şekillerin isimlerini yanlarına yazınız.

3 KÖŞESİ VAR

.....

EŞİT UZUNLUKTA 4 KENARI VAR

.....


KÖŞESİ YOK

.....

SADECE KARŞILIKLI KENARLARI EŞİT

.....

3- Aşağıdaki resime bakarak aşağıdaki soruları cevaplayınız.



1 - Kaç tane kare var ?

2- Kaç tane üçgen var ?

3- Kaç tane çember var ?

4- Kaç tane dikdörtgen var ?