

ZIT ANLAMLI KELİMELER

Aşağıdaki kelimelerin zıt anlamlarını yazınız.

acemi



usta

aç



acı



açık



ağır



akşam



alçak



arka



aşağı



az



barış



basit



bayat



beyaz



cesur



soru



ceza



çabuk



çirkin



çok



çürük



dar



dış



doğru



dolu



düşman



düz



eksi



ZIT ANLAMLI SÖZCÜKLER

Aşağıdaki boşluklara uygun zıt anlamlı sözcükler yazınız.



Bu çiçek güzel diğer çiçek



Bu kitaplar çok diğer kitaplar



Bu kedi kara diğer kedi




Bu uçak hızlı diğer uçak



Bu top büyük diğer top.....



Bu kahve sıcak diğer kahve.....



Bu telefon sağlam diğeri



Bu tavşan hızlı diğer tavşan ise.....



Bu saat pahalı diğer saat ise

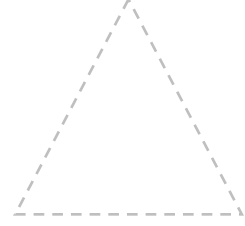




Bu kız çalışkan diğer kız ise.....



GEOMETRİK ŞEKİLLER


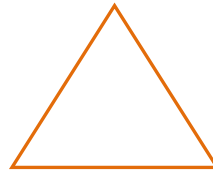
♣ Aşağıda verilen geometrik şekillerde kenarları kırmızıyla ,köşeleri maviyle gösteriniz.



♣ Aşağıda özellikleri verilen geometrik şekli karşısındaki bölüme cetvel kullanarak çiziniz.

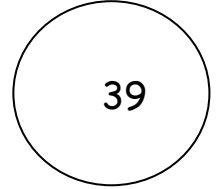
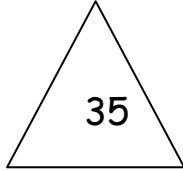

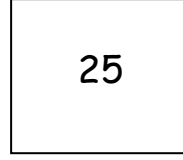
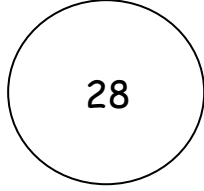
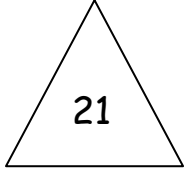

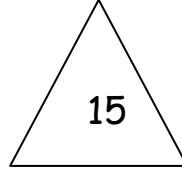

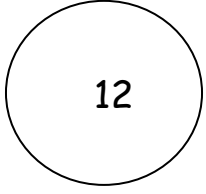


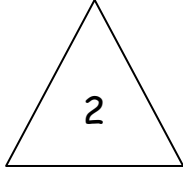
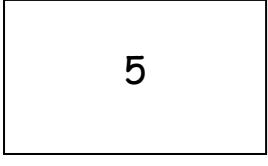
<ul style="list-style-type: none">• Kenarı ve köşesi yoktur.	
<ul style="list-style-type: none">• Birbirine eşit 4 kenarı var.• 4 köşesi var.	
<ul style="list-style-type: none">• 3 kenarı var.• 3 köşesi var.	
<ul style="list-style-type: none">• 4 kenarı var.Karşılıklı kenarları birbirine eşittir.• 4 köşesi var.	

♣ Aşağıdaki geometrik şekillerin altına isimlerini yazınız.



GEOMETRİK ŞEKİLLER ETKİNLİK

1 - Şekilleri inceleyerek aşağıdaki soruları cevaplayınız.



1 -Karenin İçindeki Sayılar :

2-Üçgenin İçindeki Sayılar :

3-Çemberin İçindeki Sayılar :

4-Dikdörtgenin İçindeki Sayılar :