





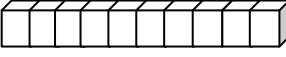




TÜRKÇE DERSİ SORULARI

1. "bugün Orhan'a Küstüm.." cümlesinde aşağıdakilerden hangisiyle gösterilen sözcük **doğru** yazılmıştır?
A)  B)  C) 
2. Hangi cümlenin sonuna nokta (.) işareti **konulmaz**?
A) Hızlı mı hızlı bir araba aldık B) Teyzem hangi bardağı kırmış C) Bu yaz İzmir'e gideceğiz
3. Hangi heceyi iki kere yan yana yazdığımızda anlamlı bir kelime oluşur?
A) ber B) tor C) sum
4. "Bugün çok fazla yoruldu.." cümlesinde aşağıdakilerden hangisiyle gösterilen sözcük çıkarılırsa anlam yine de **bozulmaz**?
A)  B)  C) 
5. Şiir okuyan birine karşı nasıl davranırsak ona saygı göstermiş oluruz?
A) Ona soru sorarsak B) Onu dikkatle dinlersek C) Konuşursak
6. Hangi sözcüğün yazılışı **doğrudur**?
A) sovan B) karpus C) kestane
7. Kesme işareti (') hangisinde **yanlış yerde** kullanılmıştır?
A) Türkiye' de B) Hüseyind' e C) Fatih' te
8. " *Servisi kaçırdığı için okula geç kaldı.*.. cümlesinde hangi sorunun cevabı **yoktur**?
A) Kim? B) Niçin? C) Nereye?
9. Hangisi iki kelimenin birleşmesinden oluşan **birleşik** sözcüktür?
A) merdiven B) koridor C) Karagöz
10. "Nasrettin Hoca, ile ünlü bir Türk büyüğüdür.." cümlesinde boş bırakılan yere hangi sözcük yazılmalıdır?
A) hikâyeleri B) fıkraları C) masalları
11. "Tilki ile Aslan.." masalını dinlerken zihnimize aşağıdakilerden hangisi canlanmaz?
A) tilki B) orman C) defter

MATEMATİK DERSİ SORULARI

12.  
Yukarıdaki modelle gösterilen sayının birlik ve onluk şeklindeki yazılışı hangisidir?
A) 1 onluk, 7 birlik B) 7 onluk, 1 birlik C) 2 onluk, 1 birlik
13.  Yandaki örüntünün kuralı hangisidir?
A) 2 yıldız, 1 güneş B) 2 güneş, 1 yıldız C) 1 güneş, 1 yıldız
14. "17 - 11 = 6.." işleminde **eksilen** hangisidir?
A) 11 B) 17 C) 6




15. Okulun bahçesinin uzunluğunu ölçmek istiyorum. Hangisini kullanmam daha uygun olur?



- A) parmak B) karış C) adım

18. Madeni paralarımızın **en büyüğü** hangisidir?

- A) 1 TL B) 5 TL C) 50 Kr

16. Hangisinin eşi **yanlış** verilmiştir?

- A)  B)  C) 

17.   Yanda verilen uzunluklar **kısadan uzuna doğru** yerleştirilmek isteniyor. Araya hangi şekil gelmelidir?

- A)  B)  C) 

19. 12 kalemın **yarısı** kaç kalem eder?

- A) 8 kalem B) 6 kalem C) 5 kalem

20. 2 hafta kaç gün eder?




- A) 30 B) 14 C) 12

21. Hangi grup iki eşit parçaya **bölünemez**?

- A) 11 çocuk B) 6 çocuk C) 14 çocuk

HAYAT BİLGİSİ DERSİ SORULARI




22. Hangisi yaz mevsimini anlatan bir görsel **olamaz**?

- A)  B)  C) 

23. Hangi mevsimde ağaçlar **çiçek açar**?

- A) ilkbahar B) yaz C) sonbahar

24. Aşağıdaki canlılardan hangisi **yumurtadan çıkar**?

- A)  B)  C) 

25. Evden ayrılan misafire **ne deriz**?

- A) teşekkür ederim B) güle güle C) günaydın

26. Aşağıdakilerden hangisini deprem çantasına **koymayız**?

- A)  B)  C) 

27. Aşağıdaki giysilerden hangisini **yaz mevsiminde** kullanırız?

- A) palto B) şort C) yün kazak

28. Hangi canlı ses **çıkaramaz**?



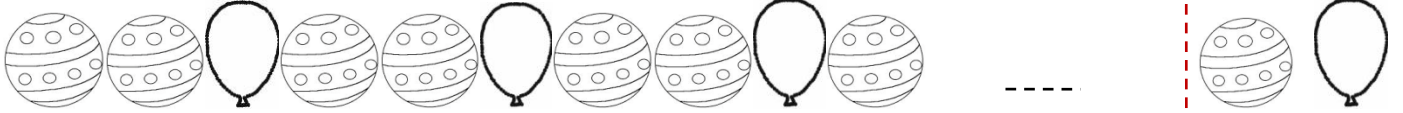

- A) ağaçlar B) kuşlar C) arılar

29. Aşağıdakilerden hangisi camdan **yapılmaz**?


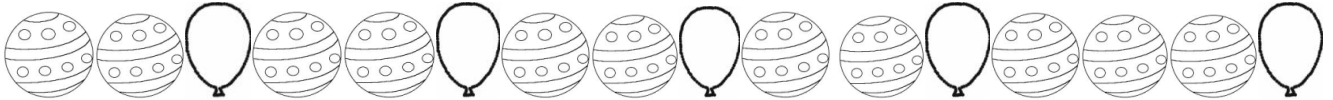

- A) bardak B) sürahi C) tava

ÖRÜNTÜLER

Aşağıdaki örüntüde boş bırakılan yere gelmesi gereken şekli sondaki kutucuk içerisinde bularak işaretleyiniz. Aynı şekilleri aynı renge *boyayarak* örüntüyü tamamlayınız.



Aşağıdaki örüntülerde kuralı bozan şekli bularak (X) işaretleyiniz. Aynı şekilleri aynı renge boyayarak örüntüyü tamamlayınız.



ÖRÜNTÜLERDE BOŞ BIRAKILAN YERLERİ UYGUN OLANI İLE DOLDURUNUZ.



A K K A K K

