

Türkçe

Güneş tepenin ardından nihayet yüzünü gösterdi. Mustafa, yolu gözlemeye başladı. Kayalıkların arasından sakın adımlarla babasının gelişini gördü. Çok mutlu oldu. Yaklaşık üç aydır babasını görmemişti. Kapıyı açtı, koşarak babasına doğru koştu. Yollar sanki kısalmişti. Sıkı sıkı babasına sarıldı, beni bir daha bırakma dercesine.

(İlk 3 soruyu metne göre yanıtlayınız)

1. Mustafa kimi görmek için yolu gözlüyordu?

- a) Annesini b) Ablasını c) Babasını

2. Mustafa'nın çok mutlu olmasının sebebi nedir?

.....

3. Mustafa, babasını yaklaşık aydır görmüyordu.

Cümlede boş bırakılan yeri tamamlayınız.

4. Resim defterini kırmızı renkli kalemi ile boyamıştı.

Cümlede altı çizili kelimenin eş anlamı aşağıdakilerden hangisidir?

- a) Kara b) Al c) Ak

5. Aşağıda verilen kelimeleri örnekteki gibi zıt anlamlarıyla eşleştiriniz.

Gece	Zor
Kolay	Pahalı
Uzak	Beyaz
Dar	Gündüz
Siyah	Geniş
Ucuz	Yakın

6. Tabloda istenen yerleri doldurunuz.

Kelimeler	Ünlü harfler	Ünsüz harfler
Tümce		
Sözcük		
Işık		
Leblebi		
Fok		

7. Tabloda istenen yerleri doldurunuz.

Emel rüya görmüştü. Rüyanın etkisinden çıkamadı.	Çok bekledi. Kimse gelmedi. Neden kimse gelmemiştir?
Cümle sayısı:	Cümle sayısı:
Kelime sayısı:	Kelime sayısı:

8. Aşağıdakilerden hangisi hecelerine doğru ayrılmıştır?

- a) Pa-ta-tes b) Pat-at-es c) Pa-tat-es

9. Aşağıdaki cümlelerden hangisi doğru yazılmıştır?

- a) Şeyma'nın kalemini aldım?
b) Abla'sını çok seviyordu.
c) Serdar'ın kalemi, defteri ve silgisi vardı.


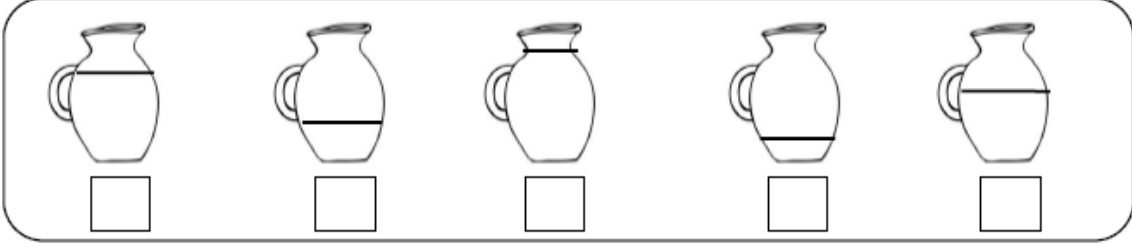
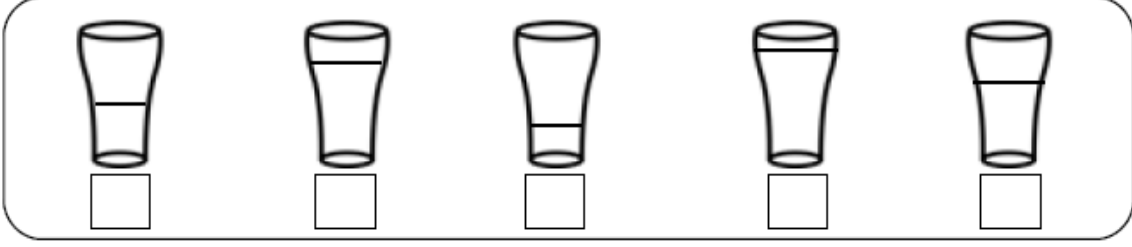
10. Aşağıda verilen cümleleri doğru bir biçimde yazınız.

kemalin ödevi çoktu. Kemal önce kalemlerini masaya koydu.
Türkçe matematik ve hayat bilgisi ödevlerini yaptı. daha sonra 4. Sıradaki parçayı okudu mu.

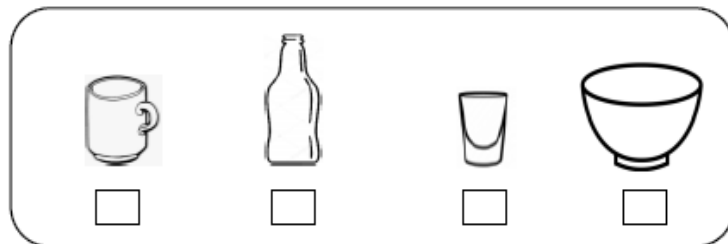
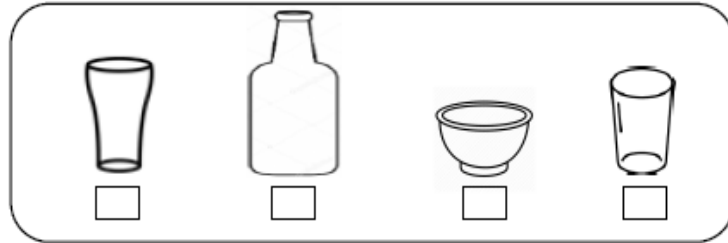
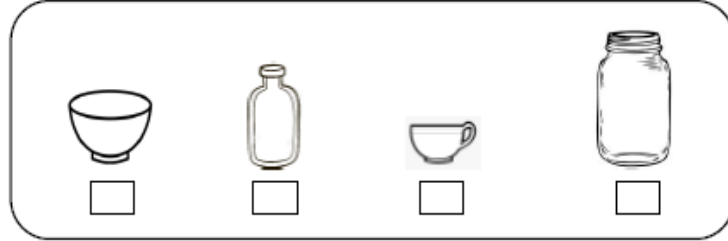
.....
.....
.....
.....
.....

SIVILARI ÖLÇME

1. Etkinlik: Aşağıdaki kaplardaki sıvı miktarlarını çoktan aza doğru sıralayalım.

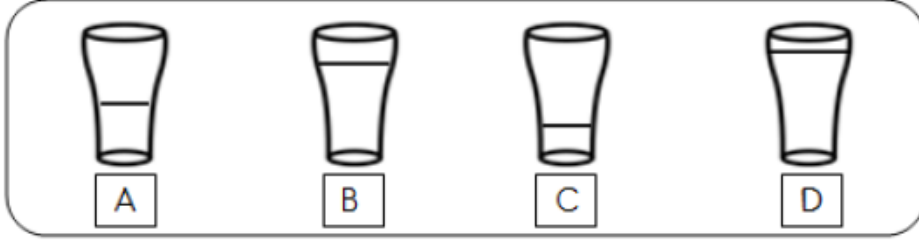


2. Etkinlik: Kutudaki birinci kabı hangisini kullanarak daha çabuk doldurabiliriz?



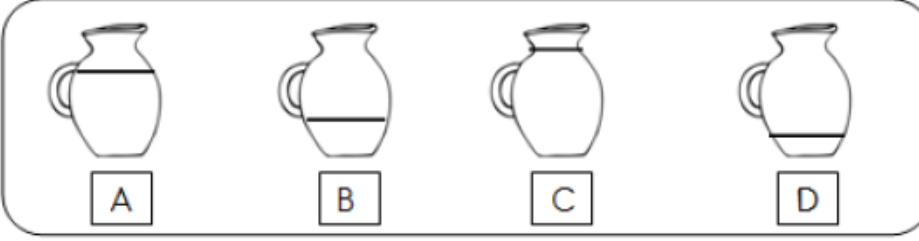
SIVILARI KARŞILAŞTIRMA

1. Etkinlik: Aşağıdaki kaplardaki sıvı miktarlarını çoktan aza doğru sıralayalım.



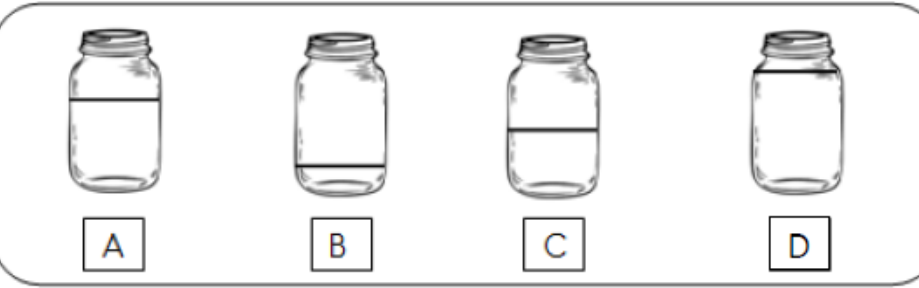
SIRALAYALIM

1 2 3 4



SIRALAYALIM

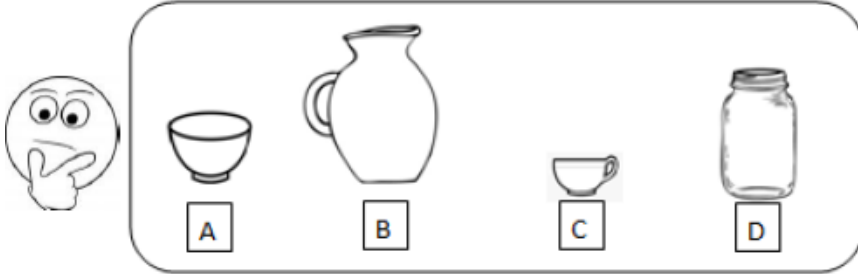
1 2 3 4



SIRALAYALIM

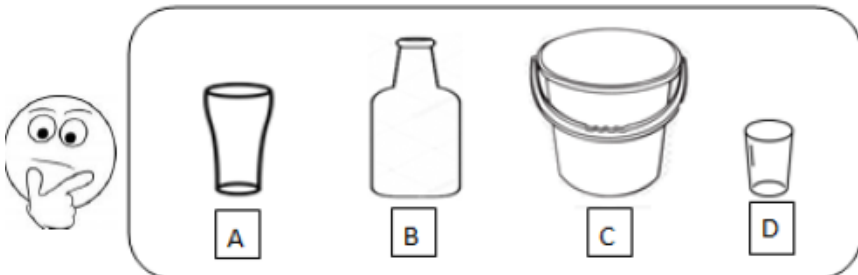
1 2 3 4

2. Etkinlik: Aşağıdaki kapların alacakları sıvı miktarını azdan çoğa doğru sıralayalım.



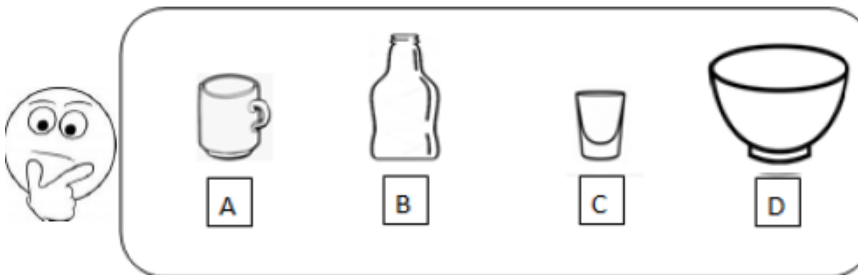
SIRALAYALIM

1 2 3 4



SIRALAYALIM

1 2 3 4



SIRALAYALIM

1 2 3 4

