

## ZİHİNDEN TOPLAMA ÇALIŞMA KÂĞIDI

32+25 işlemini zihinden yapalım:

I. YOL:



Önce onlukları, sonra birlikleri toplarım. Onluk ve birliklerin toplamını, toplayarak toplamı bulurum.

$$32 + 25 =$$

$$30 + 20 = 50 \text{ (Onlukların toplam)}$$

$$2 + 5 = 7 \text{ (Birliklerin toplamı)}$$

$$50 + 7 = 57 \text{ (Onluk ve birliklerin toplamı)}$$

II. YOL:



Birinci toplanan ile ikinci toplananın onluklarını toplarım. Toplama, ikinci toplananın birliklerini eklerim.

$$32 + 25 =$$

$$32 + 20 = 52$$

$$52 + 5 = 57$$

😊 Aşağıdaki toplama işlemlerini zihinden yapınız. Yanda yaptığınız yolu gösteriniz.

1.Yolu Uygulayalım

$$47+20=$$



67

$$\dots + \dots = \dots$$

$$\dots + \dots = \dots$$

$$\dots + \dots = \dots$$

$$54+26=$$



$$\dots + \dots = \dots$$

$$\dots + \dots = \dots$$

$$\dots + \dots = \dots$$

$$49+12=$$



$$\dots + \dots = \dots$$

$$\dots + \dots = \dots$$

$$\dots + \dots = \dots$$

$$37+43=$$




$$\dots + \dots = \dots$$

$$\dots + \dots = \dots$$

$$\dots + \dots = \dots$$

$$35+29=$$



$$\dots + \dots = \dots$$

$$\dots + \dots = \dots$$

$$\dots + \dots = \dots$$

## 2. Yolu Uygulayalım

$31+15=$



$..... + ..... = .....$

$..... + ..... = .....$

$62+17=$



$..... + ..... = .....$

$..... + ..... = .....$

$47+48=$



$..... + ..... = .....$

$..... + ..... = .....$

$73+15=$



$..... + ..... = .....$

$..... + ..... = .....$

$59+14=$



$..... + ..... = .....$

$..... + ..... = .....$

$49+25=$



$..... + ..... = .....$

$..... + ..... = .....$

$65+24=$



$..... + ..... = .....$

$..... + ..... = .....$

## HAYAT BİLGİSİ TESTİ

### 1) Aşağıdakilerden hangisi yanlıştır?

- A) Tanımadığımız kişilere karşı dikkatli olmalıyız. B) Tanımadığımız kişilerin verdiklerini almamalıyız.  
C) Tanımadığımız kişilerin yardımlarını hemen kabul etmeliyiz.

### 2) Aldığımız mal arızalı çıktığında aşağıdakilerden hangisini yapmalıyız?

- A) Malı, kendimiz tamir etmeliyiz B) Garanti belgesiyle birlikte satıcıya götürmeliyiz  
C) Mal arızalı olduğu için atmalıyız



### 3) Acil telefonlar hangi durumlarda aranır?

- A- Arkadaşımızı şikâyet edeceğimiz zaman. B- Yangın hastalık gibi tehlikeli durumlarda  
C- Canımızın istediği zaman.

### 4) Bilinçli bir tüketici aşağıdaki davranışlardan hangisini yapmaz?

- A) Aldığı ürünün son kullanma tarihine bakar. B) Aldığı ürünün içindekiler kısmına bakar.  
C) Aldığı ürünün paketine bakar.

### 5) Aşağıdaki hangisi krokinin bir özelliğidir?

- A) Belli bir ölçümle çizilir. B) Kuşbakışı çizilir. C) Krokiler ayrıntılı çizimlerdir.

### 6) Hangisi acil durumlarda kullanılan bir ulaşım aracıdır?



A)

B)

C)

### 7) I-Ramazan Bayramı

### II-29 Ekim Cumhuriyet Bayramı

### III-30 Ağustos Zafer Bayramı

### IV- Kurban Bayramı

### Yukarıdaki bayramların hangileri milli bayramdır?

- A) I ve II B) II ve III C) III ve IV

### 8) Güneş'in doğduğu yöne yüzümüzü dönersek arkamız hangi yönü gösterir?

- A) batı B) kuzey C) güney

### 9. Aşağıdakilerden hangilerine bakarak yönleri bulabiliriz?

#### I. Güneş

#### II. Ay

#### III. Kutup Yıldızı

#### IV. Pusula

#### V. Karınca Yuvası

#### VI. Bulutlar

- A) II – VI B) I – II - VI C) I – III – IV – V

## FEN BİLİMLERİ TESTİ

### 1) Aşağıdakilerden hangisi doğal ses kaynağı değildir?



A.



B.



C.



Mehmet

1. Gök gürültüsü → Doğal ses

2. Korna sesi → Yapay ses

3. At kişnemesi → Yapay ses

### 2) Mehmet, hangi eşleştirmede hata yapmıştır?

- A. 1 B. 2 C. 3

### 3) Maddelerin özelliklerini hangi organlarımızla algılarız?

- A) Sindirim organlarımızla B) Solunum organlarımızla C) Duyu organlarımızla

### 4) Aşağıdaki maddelerden hangisi zararlı maddedir?

- A) çamaşır suyu B) şeftali C) bal

### 5) Duyu organlarımızın çoğu vücudumuzun hangi bölümündedir?

- A) baş B) gövde C) sırt

### 6) Aşağıdakilerden hangisi doğru değildir?

- A) Katı maddelerin belirli bir şekli vardır. B) Sıvıların belirli bir şekli yoktur.  
C) Un, tuz, şeker sıvı maddelere örnektir.

### 7) Aşağıdakilerden hangisi doğal ısı kaynağıdır?

#### I- Yıldız

#### II- Ampül

#### III- Güneş


#### IV- Ateş böceği

#### V- Gaz lambası

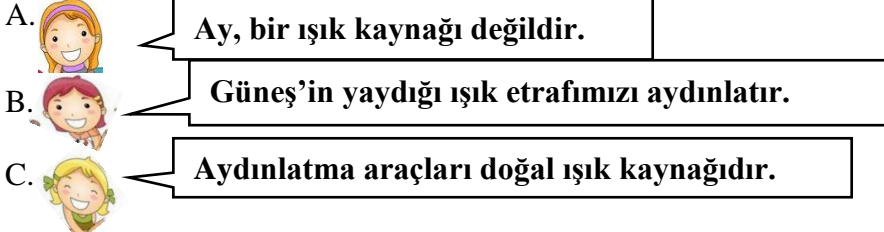
#### VI- Mum

- A) I-III B) I-III-IV C) II- V-VI

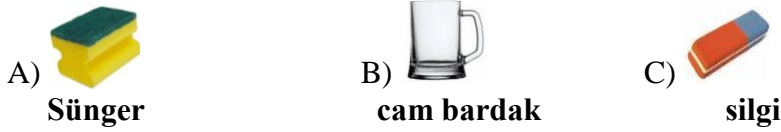
8) Aşağıdaki maddelerden hangisi doğada hem sıvı hem gaz hem de katı halde bulunabilir?



9) Hangi öğrencinin söylediği bilgi yanlıştır?



10) Aşağıdakilerden hangisi kırılğan bir maddedir?



1	Yağmur
2	Kar
3	Buhar

a	Katı
b	Sıvı
c	Gaz

11) Yukarıdaki tabloda verilen maddeler ile halleri nasıl eşleştirilir?

- A) 1 – a 2– b 3– c      B) 1- b 2- a 3- c      C) 1- c 2-b 3- a

12) Aşağıdakilerden hangisi yapay ışık kaynağıdır?

- I- Yıldız      II- Ampül      III- Güneş      IV- Ateş böceği      V- Gaz lambası      VI- Mum  
A) I-II      B) I-III-IV      C) II- V-VI

### TÜRKÇE TESTİ

1) “Düş” kelimesi, aşağıdakilerde hangisinde farklı anlamdadır?

- A) Düşümde arkadaşımı gördüm.      B) Düşerken kolundan yakaladım.      C) Düştüğü yerde öylece kaldı.

2) “kitap – kitapçı” kelimeleri arasında bir anlam ilişkisi vardır. Aşağıdaki kelimelerin hangisinde benzer bir anlam ilişkisi yoktur?

- A) Odun – oduncu      B) Çiçek – çiçekçi      C) Odun – ağaç

3) Aşağıdakilerden hangisi çoğul eki almıştır?

- A) kiler      B) güler      C) eller

4) “Her gün 20 tane soru çözerim.” cümlesinde aşağıdaki sorulardan hangisinin cevabı yoktur?

- A) Nerede      B) Ne zaman      C) Ne

5) Aşağıdakilerden hangisi birleşik kelime değildir?

- A) Gülnar      B) Mersin      C) Yenişehir

6) “Yaz” kelimesine aşağıdakilerden hangisine eklenirse kelimenin anlamı değişir?

- A) -dan      B) -lık      C) -lar

7) Aşağıdaki cümlelerin hangisinde sebep-sonuç ilişkisi vardır?

- A) Telefonda sesi farklı geliyor.      B) Kapının kilitli olduğunu bilmiyordum.      C) Çok yorulduğundan hemen yattı.

8) “-lik” eki hangi sözcük sonuna yazılamaz?

- A) kalem      B) Samsun      C) sinek

bir – yeni – yakında – gireceğiz – yıla

1      2      3      4      5

9) Yukarıdaki kelimelerinden anlamlı ve kurallı bir cümle oluşturursak sıralama nasıl olur?

- A) 3 – 3 – 1 – 4 – 5      B) 3 – 2 – 1 – 5 – 4      C) 2 – 5 – 3 – 2 – 1

10) Aşağıdaki kelimeler sözlük sırasına konulduğunda hangisi en sonda yer alır?

- A) Antakya      B) Antalya      C) Adana