

## KARŞIT (ZIT) ANLAMLI SÖZCÜKLER

Anlamları birbirinin karşıtı (tersi, zıddı) olan sözcüklere karşıt anlamlı sözcükler denir.

### Karşıt Anlamlı Sözcük Örnekleri

yaşlı → genç  
uzun → kısa  
hızlı → yavaş

az → çok  
temiz → kirli  
var → yok

1. Aşağıdaki kelimeleri, karşıt anlamlısıyla eşleştiriniz.

soğuk	kalin	yüksek	siyah
yeni	zengin	akşam	alçak
fakir	yumuşak	neşeli	çürük
ince	eski	beyaz	sabah
sert	sıcak	sağlam	üzgün

2. Aşağıdaki seçeneklerin hangisinde karşıt anlamlı sözcükler doğru verilmiştir?

A) gece – gündüz      B) dost – arkadaş      C) kız – kadın

3. Aşağıdaki seçeneklerin hangisinde karşıt anlamlı sözcükler doğru verilmiştir?

A) ağır – kocaman      B) ileri – geri      C) doğru – düz

4. Aşağıdaki seçeneklerin hangisinde karşıt anlamlı sözcükler yanlış verilmiştir?

A) erkek – kadın      B) geldi – gitti      C) yeni – sağlam

5. Aşağıdaki cümlelerde altı çizili sözcüklerin karşıt anlamını bulup birer cümlede kullanınız.

Cemil neseli bir gün geçirdi.

Korkut, çalışkan bir öğrencidir.

Fırından taze ekmek aldım.

Bu soğukta şapkasını evde unutmuş.

6. Aşağıdaki cümleleri inceleyiniz. Bu cümlelerde yer alan karşıt anlamlı sözcüklerin altını çiziniz.

- Sınav sorularını doğru işaretleyelim.
- Beyaz kazağımı dolaba koydum
- Kardeşim yeni kalem istiyor.
- Annem sıcak tavaya dokundu.
- Çirkin ördek yavrusu göle girdi.
- Okulumu çok seviyorum.

7. Aşağıdaki kelimelerin karşıt (zıt) anlamını karşılarına yazınız.

kirli .....  
kuru .....  
ihtiyar .....  
uzun .....  
tatlı .....


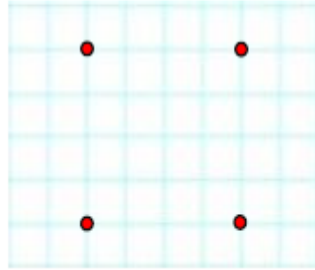
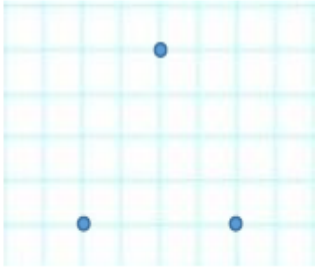
küçük .....  
şişman .....  
kolay .....  
gece .....  
ağladı .....

## GEOMETRİK CİSİMLER

1. Aşağıdaki çizgileri birleştirip şekillerin köşelerini işaretleyelim.



2. Aynı renk noktaların birleştirip oluşan şekillerin kenar ve köşe sayılarını altlarına yazalım.



Kenar Sayısı: \_\_\_

Kenar Sayısı: \_\_\_


Kenar Sayısı: \_\_\_

Köşe Sayısı: \_\_\_


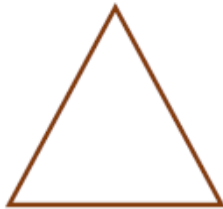
Köşe Sayısı: \_\_\_

Köşe Sayısı: \_\_\_

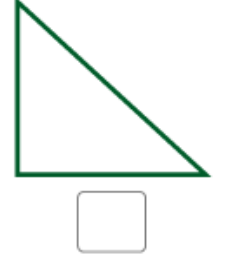


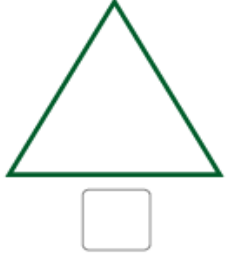
3. Üç kenarı ve üç köşesi olan şekilleri işaretleyelim.



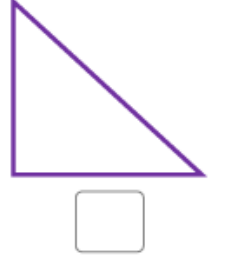


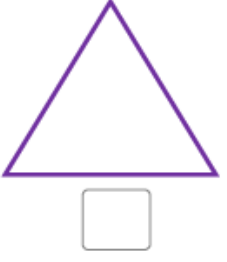
4. Dört köşesi, dört eşit uzunlukta kenarı olan şekli işaretleyelim.



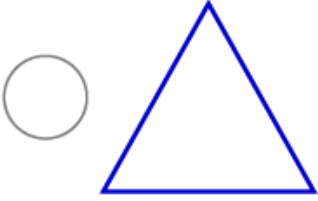
5. Dört köşesi, iki uzun ve iki kısa kenarı olan şekli işaretleyelim.



6. Köşesi olmayan şekli işaretleyelim.



7. Aşağıdaki şekillerle isimleri numaralandırarak eşleştirelim.

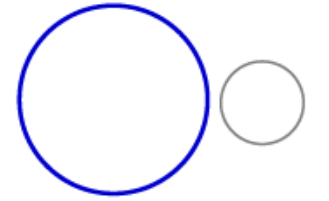
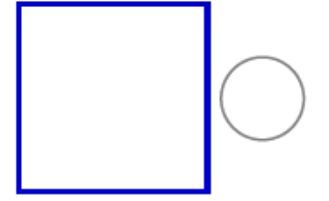


1 Kare

2 Üçgen

3 Çember

4 Dikdörtgen



8. Geometrik şekilleri kullanarak aşağıdaki boşluğa bir ev çizelim.