

Türkçe

Ali ile Emel parkta top oynuyorlardı. Cenk de sonradan oyuna katıldı. Üç arkadaş beraber oyun oynarken top aniden yola kaçtı. Topu almaya giden Ali yola çıkarken sağına ve soluna bakmadığı için bir araba Ali'nin önünde aniden durdu. Ali çok korkmuş ve heyecanlanmıştı. Ali hatasını gördü ve trafik kurallarının önemini bir kez daha anladı.

(İlk 3 soruyu metne göre yanıtlayınız)




1. Parkta oynanan oyuna sonradan katılan kişi kimdir?

- a) Emel b) Cenk c) Ali

2. Ali'nin yaptığı hata aşağıdakilerden hangisidir?

- a) Derslerine çalışmamak
b) Sofra kurallarına uymamak
c) Trafiğe çıkarken dikkatsiz olmak

3. Ali'nin yolda yaşadığı durumu hangi yüz ifadesi anlatır?

- a)  b)  c) 

4. Tablo içinde verilen kelimeleri hecelerine ayırınız ve kelimelerin hece sayılarını yazınız.

Kelimeler	Heceler	Hece Sayısı
Kitaplarım		
Tel		
Gergedan		
Kömür		

5. Yılmaz bu sabah okula gitti. İclal mektep yolundaydı.
Yukarıdaki cümlelerde altı çizili kelimelerin anlam ilişkisi aşağıdakilerden hangisinde doğru biçimde ifade edilmiştir?
a) Zıt anlamlı kelimeler b) Eş anlamlı kelimeler c) Sesteş kelimeler

6. Aşağıda verilen cümleleri doğru bir biçimde yazınız!
didemin kırmızı mavi ve yeşil boyaları vardı. boyalar çantadaydı?

.....
.....
.....

7. Tabloda istenen yerleri doldurunuz.

Elma, armut ve muz aldı. Aldıklarını poşetlere koydu. Sonra da odasına geçti.	Sedat, kitaplarını masaya koydu. Kitaplarını çok seviyordu.
Cümle sayısı:	Cümle sayısı:
Kelime sayısı:	Kelime sayısı:

8. Tabloda verilen cümlelerde altı çizili kelimelerin zıt anlamlarını sağ taraftaki satırlara yazınız.

Cümleler	Altı çizili kelimenin zıt anlamı
Arkadaşı <u>uzun</u> bir çubuk almıştı.	
<u>Yaşlı</u> amca yolda yürüyordu.	
<u>Taze</u> ekmek almak için bakkala gitti.	

9. Tabloda sizden istenenleri sağ taraftaki satırlara yazınız.

"Bilet" kelimesindeki ünlü harfler	
"Makas" kelimesindeki ünsüz harfler	
Alfabemizin sırasıyla ilk ve son harfleri	

SIVI ÖLÇÜLERİ

1. Aşağıdaki kapların yanlarına "dolu, boş, yarısı dolu" ifadelerinden uygun olanı yazalım.



.....

.....

.....

2. Aşağıdaki kaplardan daha fazla sıvı alacak olanı işaretleyelim.



3. Aşağıdaki kaplardan daha az sıvı alacak olanı işaretleyelim.



4. Yandaki su dolu havuzu aşağıdaki kaplardan hangisiyle daha çabuk boşaltabiliriz?



5. Aşağıdaki kapları yarısı dolu olacak şekilde boyayalım.



6. Kaplardaki sıvı miktarlarını azdan çoğa doğru numaralandırarak sıralayalım.



7. Kaplardaki sıvı miktarlarını çoktan aza doğru numaralandırarak sıralayalım.

