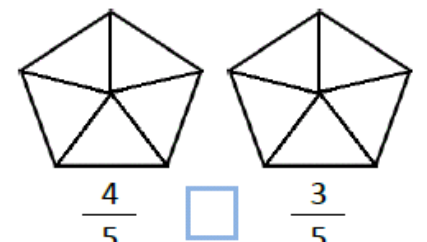
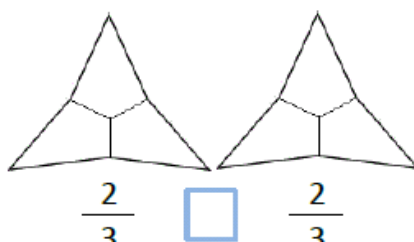
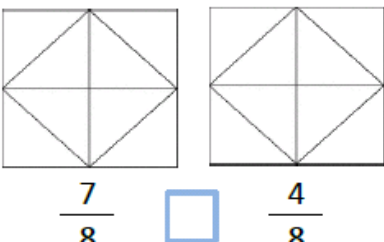
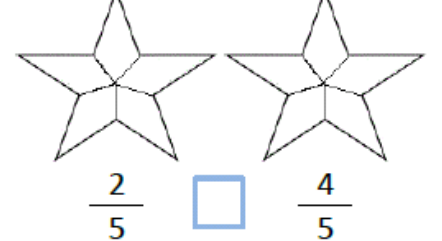
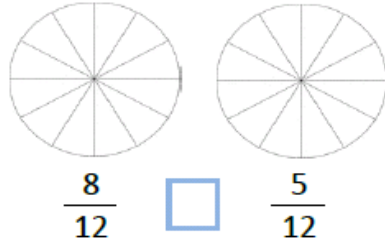
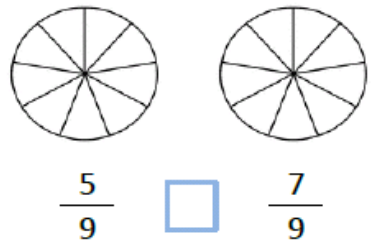
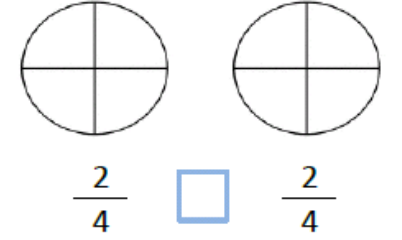
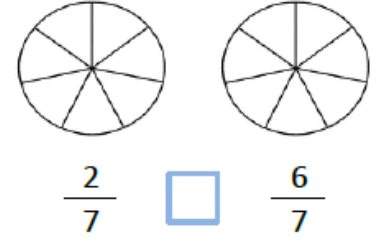
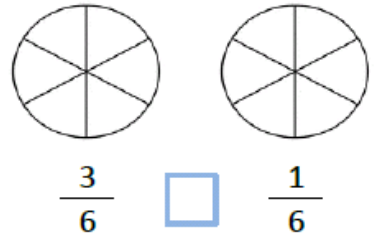
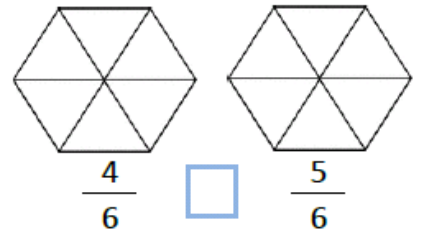
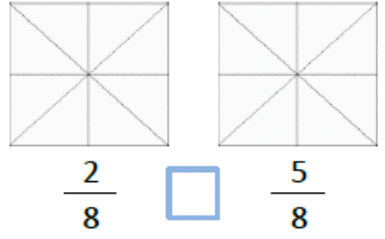
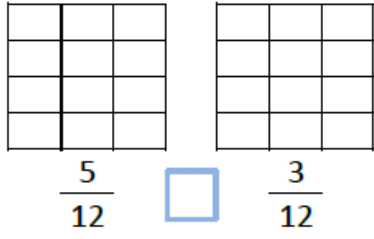
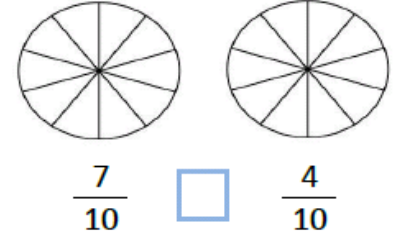
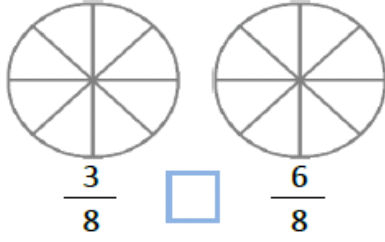
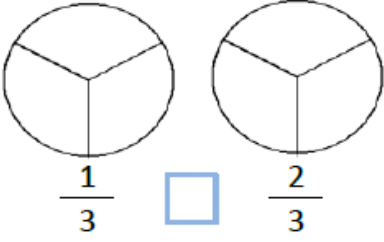
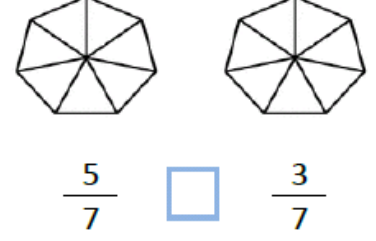
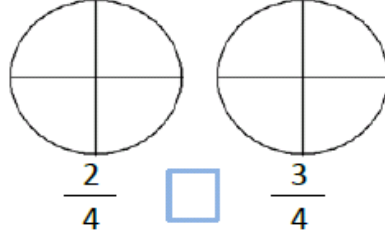
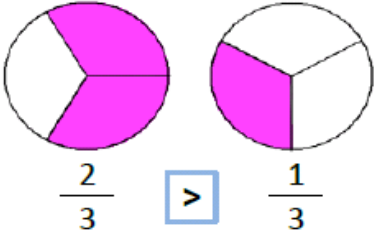


BASİT KESİRLERİ KARŞILAŞTIRMA

A. Eşit Paydalı Kesirleri Karşılaştırma

Aşağıdaki kesirleri boyayarak >, < ve = sembolleri ile karşılaştırınız.

ÖRNEK:


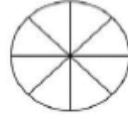
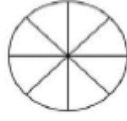



BİLEŞİK KESİRLERİ KARŞILAŞTIRMA

A. Eşit Paydalı Bileşik Kesirleri Karşılaştırma

Aşağıdaki kesirleri boyayarak >, < ve = sembolleri ile karşılaştırınız.

ÖRNEK:



$$\frac{7}{4}$$

>

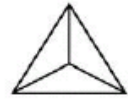
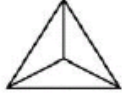
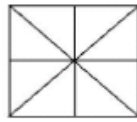
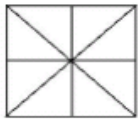
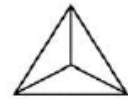
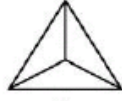
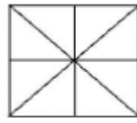
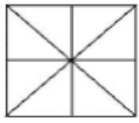
$$\frac{5}{4}$$

$$\frac{12}{8}$$

$$\frac{10}{8}$$

$$\frac{6}{5}$$

$$\frac{9}{5}$$



$$\frac{15}{8}$$

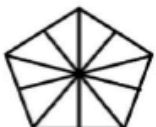
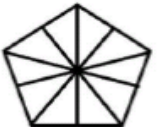
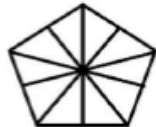
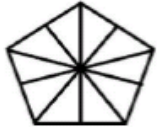
$$\frac{14}{8}$$

$$\frac{5}{3}$$

$$\frac{7}{3}$$

$$\frac{14}{6}$$

$$\frac{11}{6}$$



$$\frac{18}{10}$$

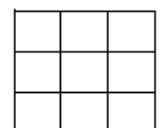
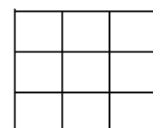
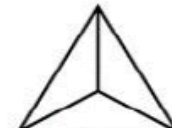
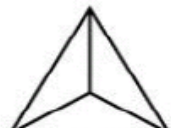
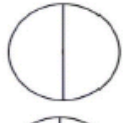
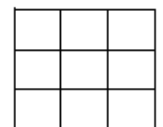
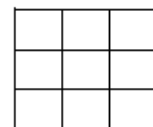
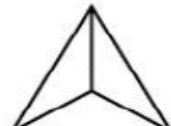
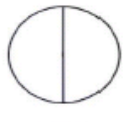
$$\frac{15}{10}$$

$$\frac{12}{7}$$

$$\frac{7}{7}$$

$$\frac{6}{4}$$

$$\frac{8}{4}$$



$$\frac{5}{2}$$

$$\frac{3}{2}$$

$$\frac{5}{3}$$

$$\frac{6}{3}$$

$$\frac{16}{9}$$


$$\frac{13}{9}$$

TAMSAYILI KESİRLERİ KARŞILAŞTIRMA

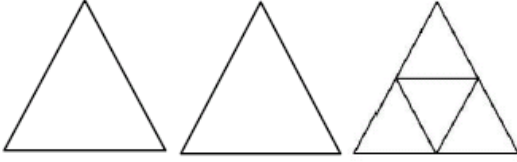
A. Eşit Paydalı Tamsayı Kesirleri Karşılaştırma

Aşağıdaki kesirleri boyayarak $>$, $<$ ve $=$ sembolleri ile karşılaştırınız.

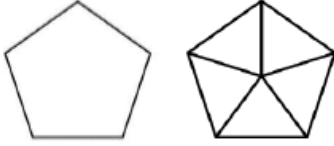
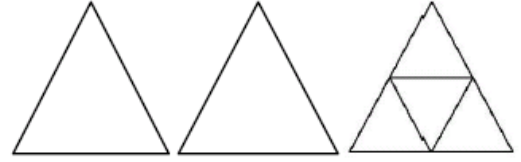
ÖRNEK:



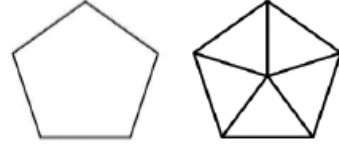
$$1\frac{2}{3} > 1\frac{1}{3}$$



$$2\frac{2}{4} > 2\frac{3}{4}$$




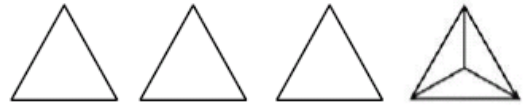
$$1\frac{1}{5} < 1\frac{4}{5}$$



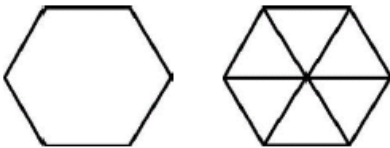
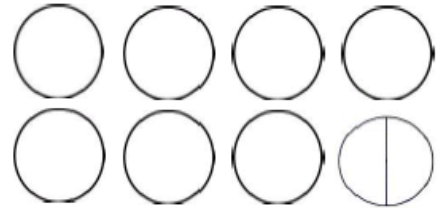
$$2\frac{5}{10} < 2\frac{4}{10}$$




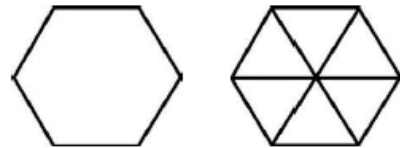
$$3\frac{1}{3} < 3\frac{1}{3}$$



$$5\frac{1}{2} < 7\frac{1}{2}$$



$$1\frac{3}{6} < 1\frac{2}{6}$$



$$1\frac{6}{7} < 1\frac{5}{7}$$



A. Aşağıdaki paydaları eşit kesirleri örneğe uygun olarak büyükten küçüğe doğru sıralayınız.

Örnek: $\frac{12}{9} > \frac{5}{9} > \frac{4}{9}$

NOT: Paydaları eşit kesirlerde sıralama, paylarına göre yapılır. Payların büyükten küçüğe sıralanışı kesirlerin sıralanışını verir.

1. $\frac{2}{8}, \frac{7}{8}, \frac{4}{8}$

2. $\frac{5}{10}, \frac{6}{10}, \frac{9}{10}$

3. $\frac{2}{6}, \frac{7}{6}, \frac{5}{6}$

4. $\frac{14}{12}, \frac{8}{12}, \frac{11}{12}$

B. Aşağıdaki paydaları eşit kesirleri örneğe uygun olarak küçükten büyüğe doğru sıralayınız.

Örnek: $\frac{1}{8} < \frac{3}{8} < \frac{5}{8} < \frac{10}{8}$

NOT: Paydaları eşit kesirlerde sıralama, paylarına göre yapılır. Payların küçükten büyüğe sıralanışı kesirlerin sıralanışını verir.

1. $\frac{17}{14}, \frac{4}{14}, \frac{13}{14}, \frac{20}{14}$

2. $\frac{17}{20}, \frac{8}{20}, \frac{15}{20}, \frac{25}{20}$

3. $\frac{4}{16}, \frac{12}{16}, \frac{5}{16}, \frac{18}{16}$

4. $\frac{10}{13}, \frac{17}{13}, \frac{4}{13}, \frac{15}{13}$

C. Aşağıdaki payları eşit kesirleri örneğe uygun olarak büyükten küçüğe doğru sıralayınız.

Örnek: $\frac{4}{1} > \frac{4}{3} > \frac{4}{5}$

NOT: Payları eşit olan kesirlerde sıralama paydalarındaki sıralamanın tersi olur. Paydası küçük olan en büyüktür.

1. $\frac{9}{5}, \frac{9}{7}, \frac{9}{2}$

2. $\frac{10}{5}, \frac{10}{12}, \frac{10}{8}$

3. $\frac{6}{5}, \frac{6}{8}, \frac{6}{3}$

4. $\frac{4}{8}, \frac{4}{3}, \frac{4}{5}$

D. Aşağıdaki payları eşit kesirleri örneğe uygun olarak küçükten büyüğe doğru sıralayınız.

Örnek: $\frac{6}{8} < \frac{6}{6} < \frac{6}{5} < \frac{6}{2}$

NOT: Payları eşit olan kesirlerde, paydası büyük olan en küçüktür.

1. $\frac{7}{9}, \frac{7}{4}, \frac{7}{11}, \frac{7}{6}$

2. $\frac{12}{8}, \frac{12}{14}, \frac{12}{5}, \frac{12}{9}$

3. $\frac{2}{4}, \frac{2}{9}, \frac{2}{7}, \frac{2}{3}$

4. $\frac{3}{8}, \frac{3}{4}, \frac{3}{3}, \frac{3}{6}$

TÜRKÇE DEĞERLENDİRME TEST

1-Aşağıdakilerden hangisi eş sesli bir kelimedir?

A-yaprak B-dolu C-diken D-kumaş

2-Aşağıdakilerden hangisinde eş anlamlı kelimeler verilmiştir?

A-rüya-düş B-öğrenci-tembel C-arı-kovan D-yağmurlu-karlı

3- Aşağıdaki cümlelerden hangisine soru işareti konmalıdır?

A-Kuzular meleşiyor B-Haksız ediyorsun C-Neden gelmedi D-Nedenini söyledi

4- Aşağıdakilerden hangisi bir cümle değildir?

A-Dişlerimi iyice fırçalamalısın. B-Yalnız gidemezsin. C-Siz istemiyor musunuz? D-Birer birer hepsini.

5- Aşağıdaki cümlelerden hangisinde yazım yanlışı yoktur?

A)Ali, köpeği finoyu gezdiriyor. B)Yarın Ankaraya gideceğim.
C) Her sabah sipor yaparım. D)Ben Karabük'te oturuyorum.

6-Aşağıdaki cümlelerin hangisinde karşılaştırma yapılmıştır ?

A) Sizler , çiçekler kadar güzelsiniz. B) Acil numaralardan Polis İmdat 155, Jandarma 156'dır.
C) Şiirde her bir satıra mısra denir. D) Sınıfımızın krokisini çizmeye ne dersiniz ?

7- Altı çizili sözcüklerden hangisi cümleye üzülmeye duygusu katmıştır ?

A) Ne yazık ki kış geliyor,kuşlar göç ediyor. B) Ahmet lütfen sırana geçer misin ?
C) Dişlerini fırçalamayan insanlara çok kızıyorum. D) İstiyorum ki bütün insanlar mutlu olsun.

8- Aşağıdaki dizelerde altı çizili kelimelerden hangisi eş sesli değildir?

A) Ak saçlı başımı alıp eline B) Kara hülyalara dal anneciğim.
C) O titrek kalbini bahtın yerine D) Bir ince tüy gibi sal anneciğim.

9- Aşağıdaki sözcüklerden hangisi sözlükte en sonda yer alır?

A.) leman B) limon C) liman D) lamel

10- “Düşmek” sözcüğü aşağıdakilerin hangisinde “ azalmak ,eksilmek” anlamında kullanılmıştır ?

A) Çocuk duvardan düştü. B) Karpuz fiyatları iyice düştü.
C) Bizim okul bu tarafa düşüyor. D) Onun sözleri durup dururken aklıma düşüyor.

11- “ Hasta-sağlıklı” sözcükleri arasındaki ilişkinin benzeri aşağıdakilerden hangisinde vardır ?

A) hızlı – yavaş B) serin – soğuk C) akıllı-uslu D) sessiz – sakin

12. “ gece ali, ankara'dan fransa'ya hareket etti.” Yukarıdaki tümcede büyük harfle başlaması gereken kaç sözcük vardır? a-) 2 b-) 3 c-) 4 d-) 5

13. “Yaşlı kadın elini Arzunun omzuna koydu.” Bu tümcede hangi sözcükten sonra (,) kullanılmalıdır?

a-) Arzunun b-) Kadın c-) Elini d-) omzuna

14.“Okul binaları karanlık loş yerlerdi.”Cümlesinde kaçınıcı kelimedden sonra virgül (,) işareti konulmalıdır?

a-) 1. b-) 2. c-) 3. d-) 4.

15. Aşağıdakilerden hangisi kısaltmaya bir örnektir?

a-) bakım b-) gön. der. en c-) TCDD d-) P.T. Telefon

16. Aşağıdaki tümcelerin hangisinde ünlem (!) işareti gereklidir?

a-) Konu döndü dolaştı son olaylara geldi b-) Hem iş bulup çalışacağım hem de deniz kenarında olacağım
c-) Bu ne uyku be d-) Hiç ses gelmeyince daha yüksekte bağırıldı

17. Aşağıdaki tümcelerin hangisinde noktalama yanlışlığı yoktur?

A) İçeri baktı, sessizce içeri, girdi. B) Nihayet gelebildiniz. D) Annem beni çok sever! D)Bunu kim yaptı!

18.Aşağıdaki cümlelerin hangisinde “karşılaştırma” vardır?

a)Yazarın yeni kitabı diğerine göre daha güzel. b)Gittiği her yerden bir hatıra getirdi.
c)Size bir çift sözüm var. d)Şu arabayı yeni almışlar.

19. “Beyaz-Ak” kelimeleri arasındaki ilişki aşağıdakilerin hangisinde yardır?

- A) sene-yıl B) siyah-beyaz C) iyi-kötü D) güzel-çirkin

20. Aşağıdakilerden hangisinin yazımı yanlıştır?

- A) İstanbul B) Penbe C) Perşembe D) Sonbahar

Eyvah()

Annemin en sevdiği vazosunu kırdım ()

Hemen bu dağılıklığı toplamalıyız()

Bana yardım edeceksin değil mi()

21. Cümlelerinde boşluklara sıra ile hangi noktalama işaretleri getirilmelidir?

- A)(?) (.) (!) (.) B) (!) (.) (.) (?) C) (!) (.) (?) (.) D) (.) (.) (!) (?)

22. Aşağıdaki cümleleri en anlamlı şekilde tamamlayan sözcükler hangileridir ?

“Bizim sokakta bir gördüm. Yanına yaklaşıncabaşladı. Uçmaya çalışıyor, ama açamıyordu.”

- A) kedi –uzaklaşmaya – ayaklarını B) köpek – havlamaya - ayaklarını
C) güvercin – kaçmaya - kanatlarını D) horoz – ötmeye – kulaklarını

I. öğretmen masasının

II. dizilmişti

III. sandalyeler

IV. etrafına

V. özenle

23. Yukarıdaki sözcüklerle anlamlı ve kurallı bir cümle oluşturulursa sıralama nasıl olur?

- A) 3-1-4-5-2 B) 1-2-3-4-5 C) 3-1-5-4-2 D) 3-1-5-2-4

24. Aşağıdaki cümlelerin hangisinde özel isimlerin yazımıyla ilgili yanlış yapılmıştır?

- A) Bütün gün Sağlık Bakanlığı binasını aradım durdum. C) Ayhan’ın sağ kolu kırılmış.
B) Şükrüpaşa İlköğretim Okulu maçı kazanmış. D) Yarın hep birlikte kirazlı köyüne gideceğiz.

25. “Ara sıra babamın dükkanına uğrar ona yardım ederdim.” cümlesinde altı çizili sözün yerine aşağıdakilerden hangisi getirildiğinde cümlenin anlamı bozulur?

- A) Zaman zaman B) Bazen C) Her zaman D) Arada bir

26. Aşağıdaki kelime çiftlerinden hangisi anlam bakımından diğerlerinden farklıdır?

- A) büyük – küçük B) az – çok C) zayıf – şişman D) öğretmen – muallim

27. Aşağıdaki cümlelerin hangisinin sonuna soru işareti konulmalıdır?

- A) Ne kadar borcu olduğunu söylemedi B) Ne tarafa kaçtıklarını sordu
C) Ne kadar uslu bir oğlunuz var D) Ne zaman geleceksin

28. Aşağıdakilerden hangisi eşesli kelimedir ?

- A - çiçek B - ev C - kapı D - düş

29. Aşağıdaki sözcük çiftlerinden hangisi eş anlamlı değildir ?

- A - Öğüt – Nasihat B - Sürekli – Devamlı C - Çabuk – Tez D - Özgür – Tutsak

30. “ Derslik ” kelimesinin eş anlamlısı aşağıdakilerden hangisidir ?

- A - Ev B - Sınıf C - Kitaplık D - Okul

31. Aşağıdaki tümcelerin hangisinde özel isim kullanılmamıştır?

- A) Çocukluk günlerini çok özleyorum. B) Tatilimizi Kapadokya’da geçirdik.
C) Şair Orhan Veli’nin şiirlerini severek okuyorum. D) Karagöz ile Hacivat gösterisi izledim.

32. “mi” aşağıdaki cümlelerin hangisine soru anlamı katmıştır?

- A) Yemeği sen mi yapacaksın ben mi B) Bahar geldi mi her yer çiçeklenir
C) Kar mı yağıyor, yağmur mu belli değil D) Güzel mi güzel bir çocuktu

33. Aşağıdaki cümlelerin hangisinden virgül kaldırılırsa cümlenin anlamı değişir?

- A) Şiir, hissetmek demektir. B) Sütçü, kadına baktı.
C) Bilim, değişime açık olmak demektir. D) Erken kalkan, çok yol alır.