

GEOMETRİK CİSİMLER VE ŞEKİLLER

1. Karesel bölge elde etmek için aşağıdakilerden hangisinin yüzlerinden yararlanırsınız?

A.



B.



C.



2. Aşağıdaki geometrik cisimlerden hangisinde yandaki yüz vardır?

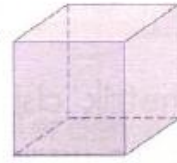
A.



B.



C.



3. Yandaki geometrik cismin yüzlerinden aşağıda verilenlerden hangisi elde edilmez?

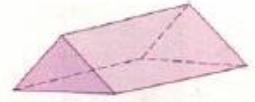
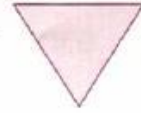
A.



B.



C.



4. Hangi geometrik cisimde çembersel bölge şeklinde yüz yoktur?

A.



B.



C.



5. Hangi cismin tüm yüzleri dikdörtgensel bölgelerden oluşur?

A.



B.



C.



6. Aşağıdaki geometrik cisimlerden hangisinde, üçgensel, dikdörtgensel ve karesel bölgelerden her biri bulunabilir?

A.



B.



C.



7. Hangi geometrik cisimde çembersel bölge şeklinde yüz yoktur?

A.



B.



C.



1. Yandaki trafik levhasının sınırları hangi geometrik şekle benzer?

A. üçgene

B. çembere

C. kareye



2. Aşağıdaki trafik levhalarından hangisinin sınırları üçgene benzer?

A.



B.



C.



3. Karesel bölgenin sınırının isimlendirilmesi aşağıdakilerden hangisidir?

A. kare

B. çember

C. dikdörtgen

4. Dairenin sınırına verilen isim aşağıdakilerden hangisidir?

A. üçgen

B. çember

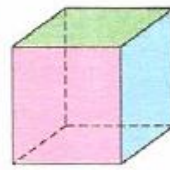
C. kare

5. Aşağıdakilerden hangisinin tüm yüzlerinin sınırları dikdörtgendir?

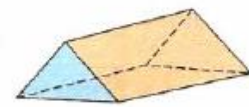
A.



B.

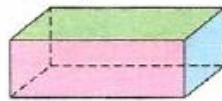


C.

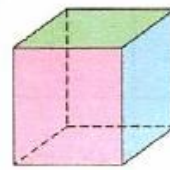


6. Hangi geometrik cismin yüzlerinden yararlanarak çember çizilebilir?

A.



B.



C.

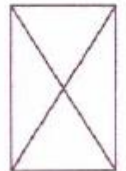


7. Yandaki şekilde kaç tane üçgen vardır?

A. 8

B. 6

C. 4



8. Aşağıdakilerden hangisinin çiziminde kare prizmanın yüzlerinden yararlanamayız?

A. karenin

B. üçgenin

C. dikdörtgenin

MATEMATİK DEĞERLENDİRME

1.)  ayrıt yüz
köşe

Bir kürede yukarıdaki ailede kimin söylediği bulunur?

- A. anne B. baba C. çocuk

2.)  Ahu: prizma Hangi geometrik cisimle bir kare çizemeyiz?
Akın: küre
Nil: Küp

Öğretmenin sorusuna kim doğru cevap vermiştir?

- A. Akın B. Ahu C. Nil

3.)  Emre Emin Emel


Hangi öğrencinin resmi bir silindire benzemiştir?

- A. Emre B. Emin C. Emel

4.)  Nur : 12 kenarı vardır. Cem: 6 yüzü vardır.
Can: 8 köşesi vardır.

Yukarıdaki öğrencilerden hangisi küp ile ilgili yanlış bir bilgi vermiştir?

- A. Cem B. Can C. Nur

5.)  Bir bilmecem var çocuklar : Dört kenarım var üç değil, hepsi birbirine eş


Palyaçonun bilmecesinin cevabı nedir çocuklar?

- A. kare B. üçgen C. dikdörtgen

6.)  Daireye bir örnek verin Bir demir para
Bir simit Bir yüzük

Öğretmenin sorusuna hangi çocuk doğru cevap vermiştir?

- A. Zeki B. Ece C. Efe

7.) 

Yukarıda ok işaretletti ile verilmiş yerlerin isimleri hangi seçenekte doğru verilmiştir?

- | | A | B | C |
|----|------|-------|-------|
| A. | köşe | ayrıt | yüz |
| B. | köşe | kenar | yüz |
| C. | köşe | kenar | ayrıt |

8.)  Hiç köşesi ve ayrıtı olmayan geometrik cisim hangisidir? Ali: Silindir Tan: Küre Ebru: Koni


Öğretmenin sorduğu soruya hangi öğrenci yanlış cevap vermiştir?

- A. Ebru B. Ali C. Tan

9.)  Köşeleri yoktur Ayrıtları yoktur. Yüzleri yoktur

Ailede kim "koni, küre ve silindirin" ortak özelliği söylemektedir?

- A. anne B. baba C. çocuk

10.)  Hangisini çizersem bir koni çizmiş olurum arkadaşlar?

- A. huni B. top C. pil

11.)



Yukarıdaki geometrik cisimlerin doğru sıralanışı aşağıdakilerden hangisidir?

- A. silindir - küp - koni - prizma
B. silindir - küre - koni - küp
C. küre - silindir - koni - küp

12.)

silindir

küre

koni



Beril Berna Betül

Hangi öğrencinin söylediği geometrik cisim ile bir daire çizilmez?

- A. Beril B. Berna C. Betül

13.)



Yandaki şekilde kaç tane üçgen vardır?

- A. 4 B. 8 C. 6

14.)



Kibrit çöplerinden bir kare prizma yapmak istersek en az kaç kibrit çöpü gerekir?

- A. 12 B. 16 C. 20

15.)



Koni

Silindir

Küp

Yukarıdaki geometrik cisimler ve isimleri eşleştirildiğinde ok işaretleri nasıl oluşur?

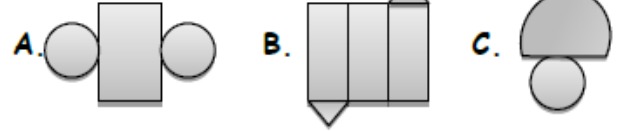
- A. B. C.

16.)

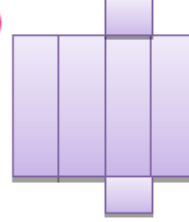


Silindirin açılmış şeklini şuraya çizeyim.

Buna göre Zeynep, aşağıdakilerden hangisini çizerse doğru çizmiş olur?



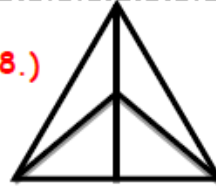
17.)



Yandaki açılımı verilen geometrik cisim hangisidir?

- A. küp B. kare prizma
C. dikdörtgen prizma

18.)



Yandaki şekilde kaç tane üçgen vardır?

- A. 4 B. 6 C. 8

19.)



Yukarıdaki şekilde kaç tane kare, dikdörtgen, üçgen ve daire vardır?

	Kare	Dikdörtgen	Üçgen	Daire
A.	1	1	11	3
B.	1	1	10	3
C.	1	2	10	3

20.)



Aşağıdakilerden hangisi üçgensel bölgeye bir

- A. B. C.

SUDE'NİN SÜRPRİZİ

Zilin çalmasına birkaç dakika kalmıştı. Sude anlatılanların birçoğunu dinlememişti. Çabucak eve gitmek, dedesinin armağanı olan sulu boyalarla resim yapmak istiyordu. Bu saatlerde annesi, mutfakta yoğun bir çalışma içinde olurdu. Sude'yi sevindiren de buydu. Kimsecikler görmeden en güzel resimleri yapıp dosyalayacaktı. Belki de bir gün, biriken resimleriyle, bir sürpriz yapıp herkesi şaşırtabilirdi. O zaman dedesi, annesi, babası, hele de mızıkçı kardeşi, nasıl da şaşkına döneceklerdi kim bilir.

İlk 5 soruyu yukarıdaki metne göre cevaplayınız.

1-) Sude neden dersi dinlemiyor?

- A) Karnı acıktığından B) Hasta olduğundan
C) Kafası eve gidip resim yapmakta olduğundan

2-) Dedesi Sude'ye hangi boyadan almış?

- A) Pastel boya B) Sulu boya C) Kuru boya

3) Okuduğunuz parçada sulu boyaları Sude'ye kim armağan etmiş?

- A) annesi B) babası C) dedesi

4) Sude'nin bir gün yapmak istediği sürpriz nedir?

- A) dedesine doğum gününde resim hediye etmek
B) en güzel resimleri dosyalayıp herkesi şaşırtmak
C) kardeşinin resmini çizmek

5-) Sude kimleri şaşırtmak istiyor?

- A) arkadaşlarını, öğretmenlerini
B) büyük annesini, halasını, teyzesini
C) dedesini, annesini, babasını, kardeşini

6-) “va, ra, ka, na” hecelerinin hepsini kullanarak aşağıdaki sözcüklerden hangisi oluşturulabilir?

- A) kara B) karavana C) vana

7) Satır sonlarına sığmayan sözcükleri bölmek için hangi noktalama işareti kullanılır?

- A) kısa çizgi B) ünlem C) virgül

8) Aşağıdaki sözcüklerden hangisinin tek başına anlamı yoktur?

- A) ev B) kek C) ve

9) Aşağıdaki sözcüklerden hangisi tek bir varlığa aittir?

- A) meyveler B) sebze C) hayvanlar

10) “Ağaçlı yoldan geçerek, kulübeye geldik.” Cümlesinde altı çizili sözcüklerde kaç tane ünlü harf vardır?

- A) 5 B) 6 C) 7

11) Aşağıdaki cümlelerden hangisinin sonuna nokta işareti (.) getirilmelidir?

- A) Sağlıklı olmak için neden spor yapmalıyız
B) Bugün okulda çok yoruldum
C) Depremden korunmak için neler yapmalıyız

12) Aşağıdaki tümcelerden hangisi bir duygu belirtiyor?

- A) Damlaya damlaya göl olur
B) Sınavdan pekiyi aldım.
C) Atatürk'ü hepimiz çok seviyoruz

13) Aşağıdaki sözcüklerden hangisi hecelerine yanlış ayrılmıştır?

- A) bil-gi-say-ar B) ka-lem-lik C) buz-do-la-bı

14) Aşağıdaki cümlelerin hangisinde büyük harflerin yazımıyla ilgili bir yanlışlık vardır?

- A) Zehra pamuk'a süt götürüyor.
B) Aslı'nın çantasını götürmeliyim
C) İzmir'den bana ne getirdin?

15) Aşağıdaki sözcük öbeklerinden hangisi bir yönüyle diğerlerinden farklıdır?

- A) siyah- kara B) kent-şehir C) güzel- çirkin

16) Aşağıdaki tümcelerden hangisinin sonuna ünlem işareti (!) konulmalıdır?

- A) Resim yapmayı seviyorum
B) Nasılsın kardeşim
C) İmdat, yangın var

17-) Hangi cümlenin sonundaki noktalama işareti yanlış kullanılmıştır?

- A) Basketbol bir spor ve eğlencedir.
B) Havalar daha çok soğuyacak.
C) Kaktüsleri fazla sulamamalıyız?

18) “Av saatlerce sürdü. Ormanda en çok fil, zürafa ve zebra gördüler.”

Yukarıdaki anlatımda kaç cümle vardır?

- A-) 1 B-) 2 C-) 3

19) Hangi seçenekteki kelimelerle anlamlı bir cümle yapılamaz?

- A) makinenin-hemen-düğmesi
B) şimdi-kazağı-sökülen-diktim
C) yaparım-sabah-her-kahvaltı

20) Hangi cümlenin sonundaki noktalama işareti yanlış kullanılmıştır?

- A) Eyvah! Suları açık bıraktım!
B) Gece haberlerini dinledin mi!
C) Kartopu oynamaya çıkalım mı?

21) Aşağıdakilerden hangisi cümledir?

- A) Bakkaldan gazeteyi ve ekmeği!
B) Resim yapmayı çok!
C) Sence güzel oldu mu?

22) “Sıcak” kelimesinin zıt anlamlısı hangi cümlede kullanılmıştır?

- A) Bugün hava çok ılık.
B) Yağmur etrafı iyice ıslatmış.
C) Soğuk ellerimi dondurdu.

23) Aşağıdaki cümlelerde altı çizili kelimenin hangisi eş seslidir?

- A) Sitenin havuzunda yüzdük.
B) Bisikletime sen de binebilirsin.
C) Bir adam bize doğru koşuyor.

24) Aşağıdakilerden hangisi bir kelimedir?

- A) çi B) al C) ka

25) “Genç” kelimesinin zıt anlamlısı hangi cümlede kullanılmıştır?

- A) Eskimiş sandalyeleri attık.
B) Bana en güzel hediyeyi yaşlı adam verdi.
C) Solmuş çiçekleri sulamak faydasızdır.

26) “Gökyüzünde binlerce yıldız bulunur.” Cümlesindeki kelimelerden hangisi eş seslidir?

- A) gökyüzü B) bin C) bulunur

27) Aşağıdaki kelimelerden hangisi eş seslidir?

- A) dere B) dağ C) ay

28) Hangi seçenekteki kelime diğerlerinden anlam bakımından farklıdır?

- A) meyve B) elma C) muz

29) Aşağıdaki sözcükler sözlükteki gibi sıralandığında hangisi en sonda yer alır?

- A) sabah B) sabır C) saban

30) Aşağıdakilerden hangisi bir tümcedir?

- A) Bugün aldığım kalem B) Geldin mi?
C) Bahçedeki kuşlar

31) Aşağıdaki sözcüklerden kaç tanesinin birden fazla anlamı vardır?

“Ben-geç-sal-yağ-halı-kutu-bin-kır”

- A) 3 B) 4 C) 5

32) “Küçük kedi sepetin..... girmeye.....”

Sözcük dizisindeki boş yerlere sırasıyla hangi sözcükler getirilirse anlamlı bir tümce oluşur?

- A) üstüne-çalıştı B) içinde-başladı
C) içine-çalışıyordu

33) “Küçük bir çocuk, bisiklete binmeye çalışıyordu.” tümcesindeki “küçük” sözcüğünün yerine hangi sözcük getirilirse tümcenin anlamı değişmez?

- A) şişman B) zayıf C) ufak

34) “Bugün bize üç misafir geldi.”

Tümcesindeki “misafir” sözcüğünün yerine hangi sözcük getirilirse tümcenin anlamı değişmez?

- A) akraba B) konuk C) arkadaş

35) Aşağıdaki sözcükler eş anlamlılarıyla birlikte verilmiştir. Eş anlamlısı verilmeyen sözcük hangisidir?

“önder- vatan-tören-lider- yurt”

- A) tören B) önder C) vatan

36) “Bu kutunun içi boş sanyordum.”

Tümcesindeki “boş” sözcüğünün yerine hangi sözcük kullanılırsa tümcenin anlamı tam zıttına döner?

- A) kapalı B) dolu C) delik

37) “O çok iyi bir insandır.” Tümcesindeki “iyi” sözcüğünün yerine hangi sözcük kullanılırsa tümcenin anlamı tam zıttına döner?

- A) yalnız B) tuhaf C) kötü

38) Aşağıdaki sözcükler zıt anlamlılarıyla birlikte verilmiştir. Zıt anlamlısı verilmeyen sözcük hangisidir?

“ak-sesli-yumuşak-neşeli-kara-sert-sessiz”

- A) yumuşak B) ak C) neşeli D) sert

39) Aşağıdaki tümcelerden hangisinin sonuna nokta konulmalıdır?

- A) Kütüphaneye gitti mi
B) Vah zavallı kuşçağız
C) Akşamları erken yatarım

40) “Okuldan geldim. Yemek yedim. Bahçeye çıktım.”

Yukarıdaki anlatımda kaç tümce vardır?

- A) 1 B) 2 C) 3 D) 4