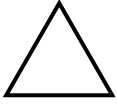



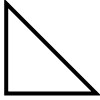



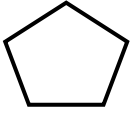
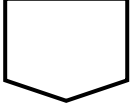



4- Aşağıdaki geometrik şekillerin adlarını, hangi açılardan kaçar tane içerdiklerini tabloya yazınız.

GEOMETRİK ŞEKİLLER	KÖŞE SAYISI	DAR AÇI SAYISI	DİK AÇI SAYISI	GENİŞ AÇI SAYISI	TOPLAM AÇI SAYISI
					
					
					
					
					
					
					
					
					
					
					

İSMİN YERİNE KULLANILAN KELİMELER

Aşağıdaki cümlelerdeki ismin yerine kullanılan kelimeleri bulup sağdaki sütuna yazınız.

	CÜMLE	İSMİN YERİNE KULLANILAN KELİMELER
1	Yarın akşam size geleceğiz.	
2	Ben sabah erkenden yürüyüşe çıkacağım.	
3	O, hep yemyeşil kırlara gitmek isterdi.	
4	Sen ne zaman gidiyorsun?	
5	Biz tatilimizi köyde geçireceğiz.	
6	Sen fotoğraflarımızı gördün mü?	
7	Benden sana kötülük gelmez.	
8	Sizi bilmem ama ben buraları çok seviyorum.	
9	Sen olursan ben de gelirim.	
10	Kendi gitti adı kaldı.	
11	O bize gelmeyeceğini bildirdi.	
12	Ben seninle tiyatroya gideceğim.	
13	Öğretmen seni sordu.	
14	Bunu neden onlar göremedi hayret ediyorum	
15	Buraya nereden geldiniz?	
16	Şunlar da sizin olsun.	
17	Bura bana pek yabancı gelmedi.	
18	Burası da fena değil.	
19	Herkes parka gitti.	
20	Kimin yanında bozuk para var?	
21	Burada kimi bekliyorsun?	
22	Onların nereye gittiğini bilmiyorum.	
23	Buraları çok sevdim ayrılmak istemiyorum.	
24	Seninle konuşmaya çok ihtiyacım var.	
25	Buraya her Pazar gelirim.	
26	Bunları kim kaldırmış.	
27	Oradan hemen ayrılmalısın.	
28	Sizler iyi arkadaşsınız.	
29	Hepinizi çok ama çok seviyorum.	
30	Onu birden karşımda görünce çok heyecanlandım.	

ADIN YERİNE KULLANILAN SÖZCÜKLER TEST

1. “ yemeğini yedin mi?” tümcesinde boş bırakılan yere hangisi getirilmelidir?
A) ben B) sen C) o
2. “ Onu, sen, ben, hepimiz iyi tanırız.” tümcesinde adın yerini tutan kaç sözcük vardır?
A) 3 B) 4 C) 5
3. “O kalem Begüm’ün, seninki nerede?” tümcesinde adın yerine kullanılmış olan sözcük hangisidir?
A) O B) kalem C) seninki
4. “Bunu bana annem aldı, sana da alalım.” tümcesinde adın yerine kullanılmış sözcükler hangisinde doğru verilmiştir?
A) bunu- bana- sana B) bana-aldı-sana
C) bunu – bana- annem
5. “Aynada kendine bakıyordu.” tümcesinde bir adın yerine kullanılmış olan sözcük hangisidir?
A) aynada B) kendine C) bakıyordu
- “Benim kedim daha şirin.” tümcesinde boş bırakılan yere hangi sözcük getirilirse anlamlı bir tümce olmaz?
A) seninkinden B) ondan C) ben
6. “Yarın tiyatroya gideceğiz.” tümcesinde tiyatroya gidecek olanlar hangisidir?
A) biz B) siz C) onlar
7. Aşağıdaki tümcelerden hangisinde soru anlamı ismin yerini tutan bir kelimeyle sağlanmıştır?
A) Kaç lira verdin? B) Kim geldi?
C) Hangi çocuk düştü?
8. “Dün da okula gitmemiş.” tümcesinde boş bırakılan yere hangisi getirilmelidir?
A) o B) sen C) biz
9. “ Herkes buraya gelsin.” tümcesinde adın yerini tutan sözcük hangisidir?
A) herkes B) buraya C) gelsin
10. “Onlar dün müzeye gittiler.” tümcesindeki hangi sözcük, kişi adı yerine kullanılmıştır?
A. onlar B. Müzeye C. dün
11. “O benim en iyi elbisemdir.” tümcesindeki hangi sözcük veya sözcükler, kişi adı yerine kullanılmıştır?
A. benim-yeni B. Benim C. o-benim
12. “Onlar üç saat boyunca otobüs beklediler.” tümcesinde hangi sözcük birkaç kişinin adı yerine kullanılmıştır?
A. otobüs B. Onlar C. üç saat
13. “Hepsi birden güleştüler.” tümcesindeki “hepsi” sözcüğü, aşağıdakilerden hangisi olamaz?
A. öğrenciler B. Oğuz C. öğretmenler
14. Aşağıdaki tümcelerin hangisinde ismin yerine kullanılan sözcük vardır?
A. Ayşe kitaplarını alacak mısın?
B. Bu kitapları o getirdi.
C. Artık sınıfta durmayacak.
15. “Bütün hayvanları severim ve onları korurum.” Yukarıdaki tümcede geçen “onları” sözcüğü hangi varlığın yerine kullanılmıştır?
A. insanlar B. Hayvanlar C. çocuklar
16. “Çabucak birkaç tanesini al ve gel.” Yukarıdaki cümlede hangi kelime varlığın yerine kullanılmıştır?
A. Çabucak. B. Birkaç C. Tanesini
17. I. O çok iri.
II. Annem onu çok sever.
III. O dosyaları kaldırdı.
IV. O, kimlerle filme gitti.
Yukarıdaki tümcelerin hangilerinde “o” sözcüğü ismin yerine kullanılmıştır?
A. I ve II B. I, II ve III C. I, II ve IV
18. Aşağıdaki tümcelerin hangisinde adın yerine kullanılan bir sözcük vardır?
A. Ahmet, kalemi evde unutmuş.
B. Yarın, sen de okula erken gel.
C. Çocukken bile çalışkandı.
11. “Çarpınca onu değil, diğerini kırdım.” tümcesinde hangi sözcükler varlıkların adı olarak kullanılmıştır?
A. çarpınca-onu B. Onu-değil C. onu-diğerini
19. “İnsanlar çok değişiktir. Onlara akıl sır ermez.” Tümcesinde adın yerine geçen kelime aşağıdakilerden hangisidir?
A) İnsanlar B) değişiktir C) Onlara
20. Aşağıdaki kelimelerden hangisi ad olmadığı halde bir adın yerini alabilir?
A. Ayşe B. konut C. şunlar
21. “Ben, Ayşe ve Turgut, akşama size geleceğiz.” cümlesinde adın yerini tutan kaç kelime vardır?
A. 2 B. 3 C. 1
22. “..... tatile ne zaman gidiyorlar?” cümlesinde noktalı yere hangi zamir getirilirse uygun olur?
A. Siz B. Biz C. O D. Onlar

KUVVET VE HAREKET DEĞERLENDİRME TESTİ

1. Aşağıdaki varlıklardan hangisinin kendisine ait bir kuvveti vardır?

A-Karınca B-Top C-Masa

2. Hareket çeşitleri ile ilgili olarak aşağıda verilen eşleştirmelerden hangisi yanlıştır?

A-Ay'ın Dünya'mızın etrafında hareket etmesi – Dönme Hareketi
B-Kuşların uçmaya başladığı andaki hareketi – Hızlanma hareketi
C-Havaya atılan bir taşın yere düşerken yaptığı hareket – Yavaşlama hareketi

3. Aşağıdaki varlıklardan hangisi cansız varlıklara örnektir?

A-Ağaç B-Kelebek C-Televizyon

4. Bir bisikleti oluşturan aşağıdaki parçalardan hangisi dönerek çalışır?

A-Pedal B-Oturak (Sele) C-Fren

5. Aşağıdaki hareket türlerinden hangisi diğerlerinden farklıdır?

A-Teneffüs zili çalınca sınıftan bahçeye koşan öğrencinin hareketi
B-Lunaparkta bindiği çarpışan arabaya çarpan başka bir arabanın yaptığı hareket
C-Çok özlediği bir arkadaşını görünce ona doğru hareket eden birinin yaptığı hareket

6. Aşağıdaki varlıklardan hangisi kendiliğinden hareket eder?

A-Balon B-Balık C-Uçak

7. Aşağıdakilerden hangisi yavaşlama hareketine örnek olabilir?

A-Dondurma yiyen çocuğun hareketi B-Avını yakalamak için saldıran aslanın hareketi
C-Uzun mesafede koşu yarışmasında yorgun düşen sporcunun hareketi

8. I – İnmeye çalışan uçak II – Atlıkarıncanın hareketi III – Cirit atan sporcunun hareketi
Yukarıdaki hareket çeşitlerinin sırası aşağıdaki seçeneklerin hangisinde doğru olarak verilmiştir?

A)Yavaşlayan – Dönen – Hızlanan B)Sallanan – Yavaşlayan – Hızlanan
C)Hızlanan – Sallanan – Yavaşlayan

9. Aşağıdaki cansız varlıklarla ilgili olarak verilen bilgilerden hangisi doğrudur?

A-Başka bir varlığa ihtiyaç duymadan kendi başlarına hareket edebilirler.
B-Hareket edebilmek için başka bir varlıkların yardımına ihtiyaç duyarlar.
C-Bazı cansız varlıklar kendi başlarına hareket edebilirken, bazıları yardıma ihtiyaç duyar.

10. Aşağıdaki taşıtlardan hangisinin hızı diğerlerine göre daha yavaştır?

A-Tren B-Uçak C-Sandal

11. Aşağıdakilerin hangisinde yön değiştirme hareketinden söz edilmiştir?

A-Boran, topu potaya sokarak basket attı. B-Berat, yerde duran taşı alarak uzağa fırlattı.
C-Burç, düz yolda bisikletine binip sahile doğru gitti.

12. Aşağıda bazı varlıklar ve hareket özellikleri eşleştirilmiştir.

Hangi eşleştirme yanlıştır?

A-Salınca ->Sallanma hareketi B-Atlıkarınca ->Dönme hareketi
C-Yel değirmeni ->Sallanma hareketi

13. Aşağıdaki kuvvet eşleştirmelerden hangisi doğrudur?

A-Şahin'in ipi çekmesi – İtme Kuvveti B-Metin'in duvarı delmesi – Çekme kuvveti
C-Murat'ın sıraya çivi çakması – İtme Kuvveti

14. Aşağıdaki oyuncaklardan hangisi dönme hareketi yapar?

A-Rüzgâr Gülü B-Oyuncak At C-Oyuncak Ayı

15. Aşağıdaki kişilerden hangisi kuvveti çekme şeklinde uygulamıştır?

A-Ayşe, pencereyi kapattı. B-Ezgi, çekmeceyi açtı. C-Berat duvara çivi çaktı.

16-Aşağıdakilerden hangisi varlıkların yapmış oldukları hareket çeşidiyle ilgili yanlış bir bilgidir?

A-Yokuş yukarı tırmanmaya başlayan biri, yavaşlama hareketi yapar.

B-Parktaki kaydıraftan kayan biri sallanma hareketi yapar.

C-Anayoldan sağındaki veya solundaki yola geçen biri yön değiştirme hareketi yapar.

17-Oyun oynamak için parka giden Yaren'in hangi davranışı tehlikeli bir duruma neden olabilir?

A-Salıncakta sallanan arkadaşının önünde durması

B-Tahterevalliye binip oynaması

C-Kaydıraftan kaymak için merdivenleri çıkması

18-Aşağıdakilerden hangisi hareketli cisimlerin neden olabileceği tehlikelerdendir?

A-Açık duran bir kapıyı kapatmak

B-Tornavida ile vida sökmek

C-Çalışan bir matkabın ucuna dokunmak

19-Aşağıdaki doğal afetlerden hangisi hareketli cisimlerin tehlike yarattığına örnek olabilir?

A-Bir ormanda yangın çıkması

B-Sel sularının yoldaki araçları sürüklemesi

C-Çığın dağdan aşağıya doğru hareket etmesi

20-Eyüp Bey, duvardaki çiviye söküyor. Eyüp Bey bu işi yaparken kuvveti hangi şekilde uygular?

A-İtme

B-Çekme

C-Döndürme

21-) Çekmeceyi açarak içinden kalem aldıktan sonra çekmeceyi kapatan bir kişi, sırasıyla hangi kuvveti uygulamıştır?

A) Çekme – İtme

B) İtme – Çekme

C) Çekme – Yön değiştirme

22-) Aşağıdaki eşleştirmelerden hangisi doğrudur?

A) Yokuş aşağı yuvarlanan top ... (Hızlanma hareketi)

B) İskelede yanaşan gemi (Hızlanma hareketi)

C) Koşuya başlayan koşucu.(Yavaşlama hareketi)

23-) Ufuk masa üstündeki parçalanmış halde bulunan kâğıtlara üfleyerek, onları havalandırıyor. Buna göre, bu durum aşağıdakilerden hangisiyle açıklanabilir?

A) Tüm cisimler kendi kendine hareket eder.

B) Kuvvet cisimlerin şeklini değiştirir.

C) Hava cisimlere itme kuvveti uygular.

24-) Aşağıdakilerden hangisi yanlıştır?

A) Cisimlere kuvvet uygulandığında cisimlerin şekli değişebilir.

B) Hareketsiz bir cisim, kuvvet uygulanarak hareketlendirilebilir.

C) Bütün cisimler, üzerine etkileyen kuvvet kaldırıldığında ilk haline döner.

25-) Fikret elindeki topu aşağıdakilerden hangisine atarsa top, yön değiştirme hareketi yapmaz?

A) Odanın duvarına

B) Ağacın gövdesine

C) Su dolu havuza

26-) Aşağıdakilerden hangisi tehlike oluşturmaz?

A) Koşan bir çocuğun, arkadaşına çarpması

B) Çok soğuk havalarda yerlerin buz tutması

C) Hızlı giden bir otomobilin yavaşlaması

27-) Akrep ve yelkovanın yaptığı hareket ile ilgili olarak hangisi söylenebilir?

A) Sallanma hareketi yaparlar.

B) Yön değiştirme hareketi yaparlar.

C) Dönme hareketi yaparlar.

28-) Hangi seçenekteki ifade yanlıştır?

A) Saatin yelkovanı, hızlanma hareketi yapar.

B) Çalışan dönme dolap, dönme hareketi yapar.

C) Frene basılan otomobil, yavaşlama hareketi yapar.

29-) Aşağıda bazı hareket çeşitleri verilmiştir.

I – Hamak

II – Salıncak

III – Saatin sarkacı

Yukarıdakilerden hangileri sallanma hareketi yapar?

A) Yalnız I

B) Yalnız II

C) I – II ve III