

TÜRKÇE TESTİ

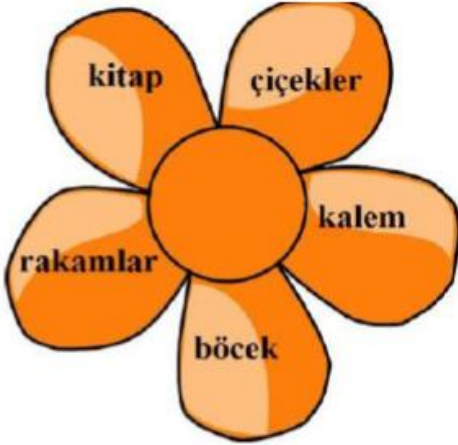
1)



Yukarıdaki sözcüklerden kaç tanesi iki hecelidir?

- A) 2 B) 3 C) 4

2)



Yukarıdaki kelimelerden kaç tanesi çoğuldur?

- A) 2 B) 3 C) 4

3)



Yukarıda verilen geometrik şekillerin ismi alfabetik sıraya konursa en sonda hangisi yer alır?

- A)  B)  C) 

4)

Ayşe () Cemil ve Duygu()nun gözleri mavi mi ()

Bu cümlede ayraçların içersine sırasıyla hangi noktalama işaretleri gelmelidir?

- A) (.) (') (.)
B) (!) (,) (?)
C) (.) (') (?)

(5, 6 ve 7. Soruları metne göre cevaplayınız.)

Balık tutmayı çok seviyorum. Vaktim oldukça arkadaşlarla denize balık tutmaya gidiyoruz. Ben en çok palamut tutuyorum. Arkadaşlarım ise lüfer tutuyor. Bazen de hepimiz eli boş dönüyoruz. Balık tutmak biraz sabır ister. İyi bir olta ve doğru yem kullanmak çok önemlidir. Bunların hepsi bir arada olduğunda siz de rahatlıkla balık tutabilirsiniz.

5) Yazar neyi çok sevmektedir?

- A) Resim yapmayı
B) Balık tutmayı
C) Spor yapmayı

6)



Metne göre balık tutmak için aşağıdakilerden hangisi gerekli değildir?

- A) İyi bir olta
B) Doğru yem tercihi
C) İyi bir kıyafet

7)



Yazarın en çok tuttuğu balık hangisidir?

- A) Palamut
B) Lüfer
C) Hamsi

TÜRKÇE TESTİ

8)

Kelime	Doğru	Yanlış
Spor		
Yamur		
Öretmen		
Tren		

Kelimelerin yazımı ile ilgili kısımlar işaretlendiğinde tablo nasıl görünür?

x		x			x
	x		x	x	
	x		x		x
x			x	x	

A)

B)

C)



9)

Aşağıdakilerden hangisi yukarıdaki resme bakarak yazılabilecek bir cümle değildir?

- A) Doktor beni muayene etti.
B) Doktorun üzerinde beyaz bir önlük vardır.
C) Doktora gitmekten korkarım.

10)

Satır sonuna sığmayan sözcük hangisinde yanlış bölünmüştür?

A)

sözlük-
teki

B)

oku-
ldaki

C)

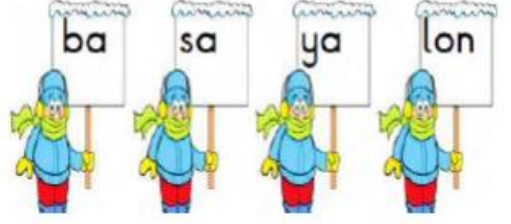
cebin-
deki

Aşağıdaki cümlelerin hangisinde özel

isim kullanılmamıştır?

- A) Hafta sonu çok işimiz var.
B) Dün Ayşe'yi gördüm.
C) Şu gelen İshak mı?

11)



12)

Yukarıdaki hecelerle aşağıdaki hangi kelime oluşturulamaz?

- A) balon B) salon C) yalan

3. çok

1. yaptık

2. kahvalt

4. güzel

13)

Yukarıdaki kelimelerden anamlı bir cümle oluşturursak sıralama nasıl olur?

- A) 3 - 4 - 1 - 2
B) 2 - 1 - 4 - 3
C) 3 - 4 - 2 - 1

Sonbahar

mevsiminde ağaçların
yaprakları döküldü.



14)

Yukarıdaki cümlede altı çizili kelimenin eş anlamlısı aşağıdakilerden hangisidir?

- A) Güz B) Yaz C) Kış

15)

Yüksek kelimesinin zıt anlamlısı aşağıdakilerden hangisidir?


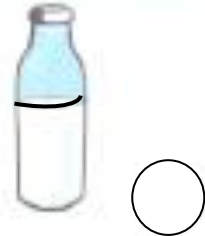
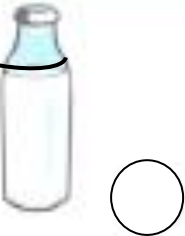


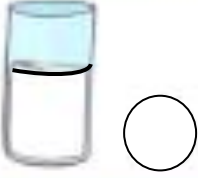
- A) alçak B) derin C) çukur

SIVI ÖLÇÜLERİ



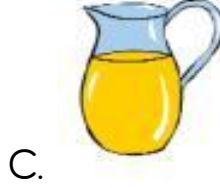
en fazla sıvı

Sıvı miktarı en fazla olanı işaretleyiniz.



MATEMATİK SORULARI

1. Aşağıdaki kaplardan hangisinde **daha fazla su vardır?**



2. Aşağıdaki kaplardan hangisinde **daha az sıvı vardır?**



3. Dolu bir küvetteki suyu aşağıdakilerden hangisiyle **daha kolay boşaltırız?**

A) kovayla

B) bardakla

C) sürahiyle


4. Aşağıdaki besinlerden hangisi **bardakla** ölçülür?

A) Armut

B) Elma

C) Süt

5. Hangisi **daha çabuk dolar?**



6. Hangi bardak **daha fazla çay alır?**



8. Aşağıdaki kaplara aynı bardakla ikişer bardak su dolduruluyor. Su seviyesi hangi kaptan **en azdır?**



10. Aşağıdakilerden hangisi **fincanla ölçülemez?**



su



armut



Süt