
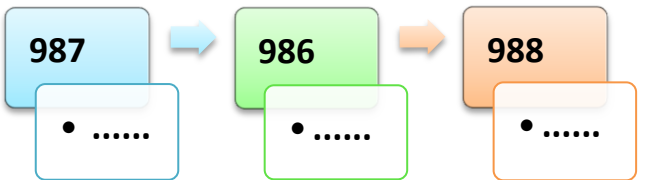

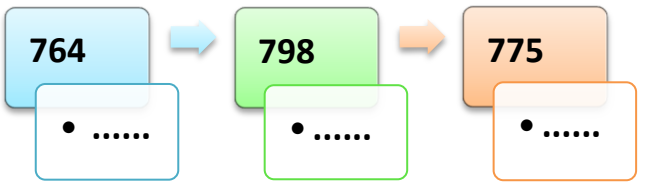

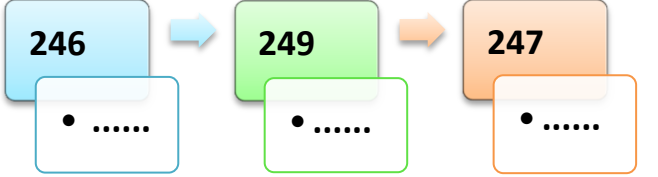
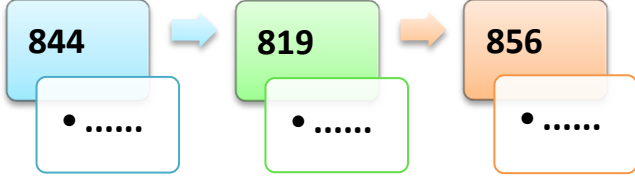
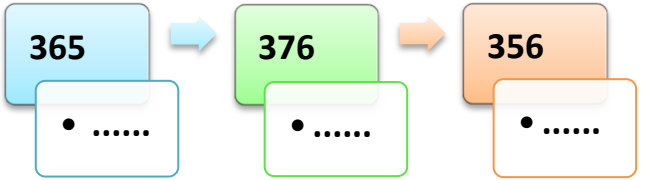
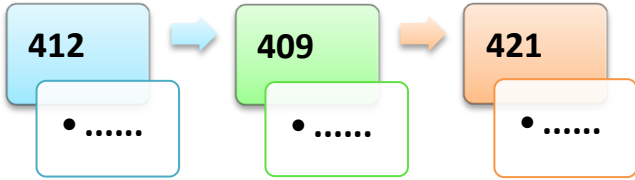
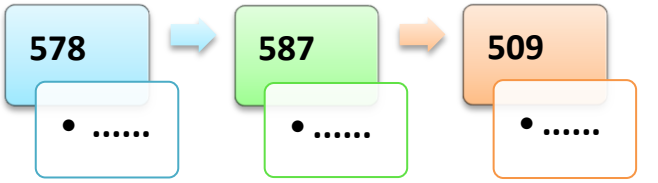

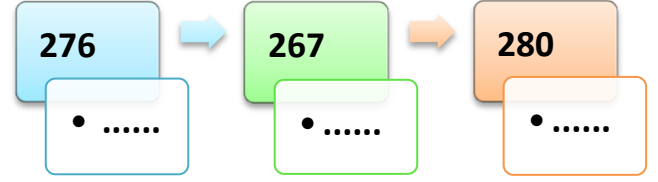
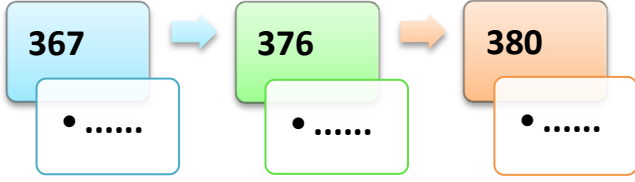
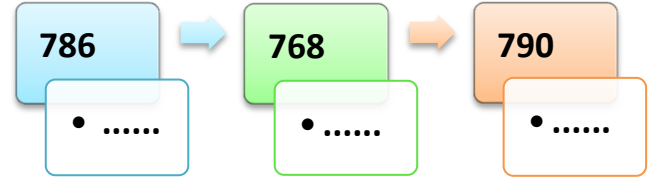
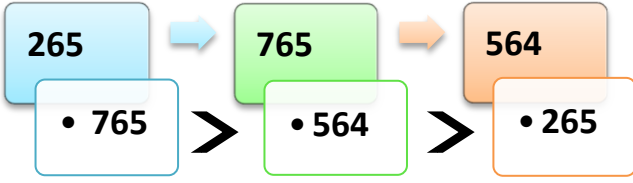


AŞAĞIDA VERİLEN SAYILARI ÖRNEKTEKİ GİBİ BÜYÜKTEN KÜÇÜĞE SIRALAYIN.



## DOĞAL SAYILARI SIRALAMA DEĞERLENDİRME

478 277 619 313 235

1

2

3

4

5

1) Verilen doğal sayılar küçükten büyüğe doğru sıralandığında kaç numaralı sayı en sonda yer alır?

A) 3

B) 2

C) 1

2) Kutudaki doğal sayılar belli bir sıraya göre dizilmiştir. Kuralı bozan sayı hangisidir?

416 < 504 < 628 < 126

A) 126

B) 504

C) 416

3) Seçenekteki doğal sayılar belli bir kurala göre dizilmiştir. Kuralı bozan sayı hangisidir?

A) 816 < 806 < 798 < 789

B) 165 < 175 < 715 < 751

C) 236 > 235 > 234 > 233

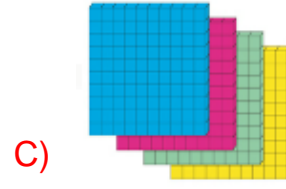

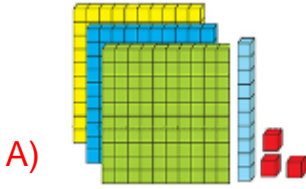
4) Aşağıdaki doğal sayıları büyükten küçüğe doğru sıraladığımızda hangi seçenekte baştan ikinci sayı "621" olur?

A) 318 - 621 - 427 - 164

B) 496 - 621 - 109 - 847

C) 918 - 291 - 621 - 769

5) Görseldeki onluk taban blokları ile oluşturulan sayıların en büyüğü hangisidir?



6) Hangi seçenekte sayılar yanlış sıralanmıştır?

A) 424 < 432 < 451 < 462 < 503

B) 302 > 298 > 241 > 222 > 196

C) 876 > 884 > 760 > 527 > 518

532 834 564 926 371

A) 834

B) 532

C) 564

7) Yandaki doğal sayıları büyükten küçüğe doğru sıraladığımızda baştan 3. Sayı kaç olur?

7) 750, 924, 513, 124 ve 346 sayılarının büyükten küçüğe doğru sıralanışı aşağıdakilerden hangisidir?

A) 750, 924, 513, 346, 124

B) 924, 513, 750, 346, 124

C) 924, 750, 513, 346, 124

8)  $408 < \dots < 637$  sıralamasındaki noktalı yere aşağıdakilerden hangisi yazılamaz?

A) 480

B) 509

C) 637

9) 272, 316, 416, 811, 309 sayıları büyükten küçüğe doğru sıralandığında baştan ikinci sayı hangisi olur?

A) 811

B) 416

C) 309

10)  $306 \dots 287$  Yukarıdaki sayıların arasına aşağıdaki sembollerden hangisi yazılmalıdır?

A) <

B) >

C) =

11)  $520 < 52\Delta < 523$  şeklinde verilen sıralamaya göre " $\Delta$ " sembolü ile verilen rakam, aşağıdakilerden hangisi olamaz?

A) 0

B) 1

C) 2

## DUYU ORGANLARIMIZ DEĞERLENDİRME

A-Aşağıdaki cümlelerde boş bırakılan yerleri verilen sözcüklerden uygun olanı ile tamamlayınız.

Derimiz	Gözlerimiz	Kulaklarımız	Beş	Burnumuz	Dilimiz
---------	------------	--------------	-----	----------	---------

1. Denizin mavi renkte olduğunu ..... ile görürüz.
2. Çevremizdeki sesleri ..... sayesinde duyarız.
3. İçtiğimiz meyve suyunun tadını ..... ile anlarız.
4. İç organlarımızı, vücudumuzu saran ..... korur.
5. Vücudumuzda ..... tane duyu organımız vardır.

B – Aşağıda verilen cümlelerin başına doğru ise “D”, yanlış ise “Y” harfi yazınız.

1. ( ..... ) Çevremizdeki varlıkların sesini gözlerimiz kapalı olsa da duyarız.
2. ( ..... ) Burnumuzla sadece güzel kokuları alırız.
3. ( ..... ) Masanın yüzeyinin pürüzlülüğünü elimizle dokunarak anlayabiliriz.
4. ( ..... ) Duyu organlarımız aynı anda çalışabilir.
5. ( ..... ) Gözümüzün sağlığı bozulduğunda iyi işitemeyiz.
6. ( ..... ) Tat alma duyumuzun sağlıklı olması için dişlerimiz fırçalamalıyız.
7. ( ..... ) Sık sık banyo yapmak derimiz için zararlıdır.
8. ( ..... ) Aşırı gürültülü ortamlarda bulunmak kulak sağlığımız için zararlıdır.
9. ( ..... ) Burun, nefes ve koku almamızı sağlayan bir organdır.
10. ( ..... ) Ne olduğunu bilmediğimiz maddeleri koklamak tehlikeli olabilir.
11. ( ..... ) İşitmemizi sağlayan duyu organımız kulaklarımızdır.
12. ( ..... ) Aşırı sıcak ya da aşırı soğuk besinleri tüketmek dilimizi korur.

**Açıklamalar ile organları eşleştiriniz.**

- |   |          |
|---|----------|
| ( ... ) Yiyeceklerin tadını almamızı sağlar.                    | a- Burun |
| ( ... ) Varlıkların ve nesnelerin kokusunu algılamamızı sağlar. | b- Göz   |
| ( ... ) Tüm vücudu kaplar.                                      | c- Kulak |
| ( ... ) Varlıkları görmemizi sağlar.                            | d- Deri  |
| ( ... ) İşitme duyu organımızdır.                               | e- Dil   |

D)Cümlelerde yararlanılan duyu organlarını “X” ile işaretleyin.

CÜMLELER	DUYU ORGANLARIMIZ				
	Göz	Burun	Dil	Kulak	Deri
Mis gibi börek kokusu aldım.					
İçerden müzik sesi geliyor.					
Yemek çok lezzetli olmuş.					
Anneme sınıksık sarıldım.					
Bahçede kedi gördüm.					

Aşağıdaki soruların doğru cevaplarını işaretleyiniz.

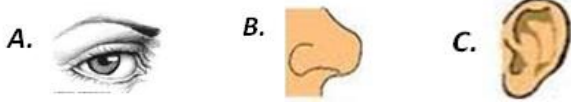
1. Aşağıdakilerden hangisi duyu organlarımızdan biri değildir?



2. Yediğimiz bir yemeğin tuzlu olup olmadığını hangi duyu organımızla anlarız?

A. Deri B. Göz C. Dil

3. Başımızda bulunur. İki tanedir.Çevremizdeki sesleri duymamızı sağlar.  
Yukarıda özellikleri verilen duyu organımız aşağıdakilerden **hangisidir?**



4. Aşağıdakilerden hangisi **yanlıştır?**

- A. Çorba içtiğimizde çorbanın tuzsuz olduğunu midemiz sayesinde anlarız.  
B. Çevremizdeki çiçeklerin renklerini gözlerimizle ayırt ederiz.  
C. Derste öğretmenimizin anlattıklarını kulaklarımız sayesinde duyarız.

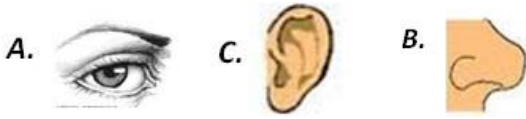
5. Duyu organlarımızla ilgili aşağıda verilenlerden hangisi **yanlıştır?**

- A. Beş tane duyu organımız vardır.  
B. Duyu organlarımız hayatımızı kolaylaştırır.  
C. Duyu organlarımızdan biri çalışırken diğerleri çalışmaz.

6. Deri ile ilgili aşağıda verilen bilgilerden hangisi **yanlıştır?**

- A. Vücudumuzu sarar ve iç organlarımızı dış etkilerden korur.  
B. Dokunma duyu organımızdır.  
C. Cisimlerin tadını derimizle anlarız.

7. Televizyonda film izleyen Ayçıl hangi duyu organını **kullanmaz?**



8. Aşağıdakilerden hangisi derinin görevlerinden biri **değildir?**

- A. Dokunma hissini sağlama.  
B. Terleme ile zararlı maddeleri vücuttan uzaklaştırma.  
C. Besinlerin acı ve tatlı oluşlarını anlama.

9) Kulak sağlığımızı korumak için aşağıdakilerden hangisini yapmak **yanlış olur?**

- A) Sivri uçlu cisimlerle kulaklarımızı temizlememiz  
B) Kulaklarımızı soğuktan korumamız  
C) Kulaklarımızı şiddetli darbelerden korumamız



- Anne çayın rengi ve tadı harika. Mis gibi tomurcuk da kokuyor. Elindeki kurabiyelerden bir tane alayım.

- Afiyet olsun. Beğendiğine sevindim.

10) Yukarıdaki konuşmada Merve annesine yaptıklarını beğendiğini ifade ederken hangi duyu organlarını **kullanmıştır?**

- A) Dil, göz, kulak. B) Göz, dil, burun. C) Deri, göz, dil.

11) Göz sağlığımız için hangisini **yapmamalıyız?**

- A- Televizyonu uzun süre ve yakından izlemeliyiz  
B- Başkalarına ait havlu ve gözlükleri kullanmamalıyız.  
C- Gözlerimizi aşırı ışıktan korumalıyız.

12) Can göz doktoruna gittiğinde şekilleri iyi göremedi. Bu nedenle doktor ona gözlük kullanması gerektiğini söyledi.

Buna göre Can'ın göz sağlığını kaybetmesinin **nedeni hangisi olabilir?**

- A. Kitap okurken 30 cm'lik uzaklığa dikkat etmiştir.  
B. Televizyon ve bilgisayar ekranına uzun süre yakından bakmıştır.  
C. A vitamini içeren havuç gibi besinleri bol miktarda yemiştir.

## SOMUT ( MADDE) İSİMLER

Duyu organlarımızla ( görme, işitme, koklama, tat alma, dokunma ) hissedebildiğimiz, varlıklara somut ( madde ) ismi denir. Diğer bir deyişle elle tutup gözle görebildiğimiz varlık adlarına somut adlar denir.

Örnek: Toprak, kalem, ağaç, kapı, ...

[Anne](#)si, bebeğini kucağına almış seviyordu.

Çocuk, masadaki vazoyu kırmıştı.

## SOYUT ( MÂNÂ) İSİMLER

Varlıklarını duyu organlarımızla hissedemediğimiz fakat zihnimizde canlandırabildiğimiz kavramların adlarına soyut ( mânâ ) adları denir.

Ve ya : Elle tutup gözle göremediğimiz varlığını akıl yoluyla bilebildiğimiz adlara denir.

Örnek: Sevgi, ahlak, kötü, ...

Ferhat, Şirin'i dağları delecek kadar seviyordu.

Bu sözlerinle arkadaşını çok kırdın.

Aşağıdaki tabloda yer alan somut ve soyut isimleri örnekteki gibi işaretleyiniz.

Adlar	Somut	Soyut	Adlar	Somut	Soyut
kalem	X		dost		X
düşman			rüzgâr		
masa			acımak		
kitap			şimşek		
zengin			bulut		
çiçek			şeytan		
fakir			su		
sevap			üzüntü		
top			ev		
günah			sevgi		
tebeşir			radyo		
telefon			korku		
utanmak			cetvel		
zeka			cesaret		
masa			yas		
akıl			pencere		
ayakkabı			rüya		
neşe			defter		
göz			kahraman		
tembel			kulak		
dil			iyilik		

## İSİMLER

Tablolarda verilen isimleri dikkatli okuyalım, örnekteki gibi uygun bölümleri işaretleyelim.

İSİMLER	Özel İsim	Tür İsmi	Somut İsim	Soyut isim
kitap		X	X	
düşünceler				
aile				
Bahar İlkokulu				
ayakkabı				
Uludağ				
çaylar				
Türkiye				
meclis				
Türk				
gitar				
Aylin				
vicdan				
silgiler				
Kızılırmak				
melek				
Van Gölü				
tablo				
Gül Apartmanı				
grup				
korku				
İslamiyet				
farklar				
takım				

İSİMLER	BASİT İSİM	BİRLEŞİK İSİM	TÜREMİŞ İSİM
gecekondu			
çiçekler			
sevgili			
Karadeniz			
kuşum			
simitçi			
fidanlık			
kavanoz			
zevksiz			
Anadolu			
gözü			
vatandaş			