

BİR TANEM

Doğduğum günden beri
Yaşıyoruz aynı evde.
Bazen kavga etsek bile,
Yetişirsin zor günümde,

Ağabeyimsin bir tanemsin.
Hem dostum, hem kardeşimsin.
Ben sana hiç küser miyim?
Annemi üzer miyim?

Biz hep mutlu olacağız,
Annem, babam ve seninle
Yaşadıkça hep el ele
Uzaklara gider miyim?

1. Şair ağabeyine ne diyerek sesleniyor?

2. Ağabeyi ile nerede yaşıyorlar?

3. Kavga bile etseler, ağabeyi nasıl davranıyor?

4. Şiire göre şairin annesi niçin üzülürmüştü?

5. Şair annesi, babası ve ağabeyi ile ne zaman mutlu olacağını düşünüyor?

6. Şair bu şiirde kime olan sevgisini anlatmıştır?

7- Aşağıdaki sözcüklerin eş anlamlılarını (anlamdaşlarını) tablodan bulup karşalarına yazınız.

yarar – tümce – yel – güz – okul – al – kelime – ad – yıl – ak

<u>Kelime</u>	<u>Eş Anlamlısı</u>	<u>Kelime</u>	<u>Eş Anlamlısı</u>
Sonbahar	cümle
mektep	isim
sene	beyaz
rüzgar	kırmızı
fayda	sözcük

8- Aşağıdaki sözcüklerin zıt (karşıt) anlamlarını tablodan bularak karşalarına yazınız.

Genç – sıcak – çok – sert – kapalı – kısa – tatlı – büyük – geri – beyaz

<u>Kelime</u>	<u>Zıt (karşıt) Anlamlısı</u>	<u>Kelime</u>	<u>Zıt (karşıt)Anlamlısı</u>
ileri	soğuk
yumuşak	siyah
az	yaşlı
uzun	acı
küçük	açık

9-Aşağıdaki cümlelerin sonuna konulan noktalama işaretlerinin doğru mu yanlış mı olduğunu boş bırakılan () boşluklara yazınız.

- () Yağmur çok konuşuyor? () Hüseyin ödevini yaptı mı?
() Mahmut derslerine çalışmalısın. () Gizem güzel resim yapar mı?
() Alp çok yaramazlık yapıyor? () Elif okumayı fazla sevmiyor.
() Eyvah Süleyman düştü! () Şükrünün yazısı çok güzel?

10. Tabloda verilen adları tekil ve çoğul ad oluşlarına göre işaretleyiniz.

	güller	parmak	anahtar	kapılar	merdiven	tavşan
Tekil ad						
Çoğul ad						

11. Aşağıdaki olayı oluş sırasına göre sıralayınız.

- () Sonra dinlenmiş sıcak su, demlikteki çayın üstüne yavaşça dökülür.
() Önce, çaydanlığın alt kısmına yarısına kadar su doldurulup ocağa konur.
() En sonunda demlenen çay servis yapılarak ikram edilir. Afiyet olsun!
() Daha sonra çaydanlığa tekrar su doldurulup kaynatılır.

12. Aşağıdaki tümcelerde parantezlerin olduğu yerlere uygun noktalama işaretlerini koyunuz.

- * Daha önce İstanbul()a gelmiş miydin ()
* Bahçede yedi tavuk() üç ördek() iki horoz vardı ()
* Dikkat et() düşeceksin ()
* Ödevini yaptı mı bilmiyorum ()

Aşağıdaki soruların doğru şıklarını işaretleyiniz.

13. Aşağıdaki kelimelerden hangisi en başta yazılır?

- a) Zeynep b) Yunus c) Yaren

14) Aşağıdaki cümlelerin hangisinde zıt anlamlı 2 kelime bir arada verilmiştir?

- a) Elif ile Melisa aşağı yukarı aynı boydalar. b) Mehmet sınıfımıza yeni geldi.
c) Hatice sınıfımızın eski öğrencilerindedir.

15) Aşağıdaki altı çizili * taş * kelimelerden hangisinde diğerlerinden farklı anlamda kullanılmıştır?

- a) Ocaktaki süt çok kaynayınca yere taşmış.
b) Çocuk, elindeki taşları arabalara fırlatmış.
c) Dedemin safra kesesinde on tane taş varmış.

2.Sınıf Matematik

Geometri

1

1 Aşağıdaki şekilleri isimleri ile eşleştiriniz.

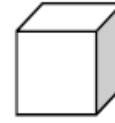
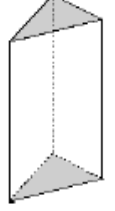
Küp

Silindir

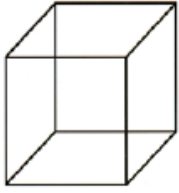
Küre

Üçgen prizma

Koni




2 Aşağıdaki **küpün**; köşesini işaretleyin. Bir yüzünü boyayın.



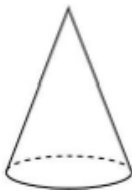
Çevremizde küpe benzeyen neler var?

3 Aşağıdaki **kare prizmanın**; köşesini işaretleyin. Kare olan bir yüzünü boyayın.

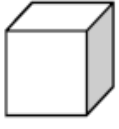


Çevremizde kare prizmaya benzeyen neler var?

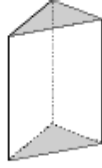
4 Aşağıdaki şekillerin hangilerinin köşesi ve kenarı **yoktur**?



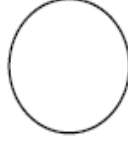
5 Aşağıdaki şekillerden hangisinin köşesi yoktur?



A)



B)



C)

6 Aşağıdaki şekillerden hangisi küreye benzer?



A)

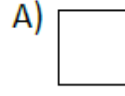


B)

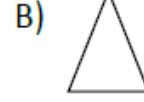


C)

7 Küp şeklini kullanarak aşağıdaki bölgesel yüzeylerden hangisini oluşturabiliriz?



A)

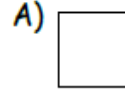


B)

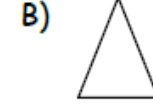


C)


8 Kare prizma şeklini kullanarak aşağıdaki düzlemsel bölgelerden hangisini oluşturamayız?



A)



B)



C)

Aşağıdaki ifadelerden doğru olanları işaretleyiniz



Benim köşem vardır.

Benim köşem yoktur.

Ben silindire benziyorum.

Benim adım küredir.



Benim yüzüm vardır.

Benim yüzüm yoktur.

Benim köşem vardır.

Benim köşem yoktur.



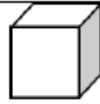
Benim köşem vardır.

Benim köşem yoktur.

Benim 6 yüzüm vardır.

Benim 8 köşem vardır.

Hangisine benziyorum? X atarak işaretleyin.



Salça kutusu				
Çamaşır makinesi				
Soba borusu				
Futbol topu				
Bilye (misket)				
Etkileşimli tahta				
Zar				