

Aşağıdaki şiiri okuyalım ve soruları cevaplayalım.

23 NİSAN EMANETİ

Yurdu düşmanlar sardı; O gün herkese öğretti,
Türk'ün tek bir ümidi vardı. Egemenlik milletindi.
Mavi gözlü, büyük kahraman, Bu büyük meclisi de,
23 Nisan'da bir meclis açtı. Biz çocuklara emanet etti.

Söz veriyoruz sana Ata'm,
Türk kalbi ise bu atan.
Emanettir bana bu vatan,
Sen rahat uyu yüce kahraman.

SORULAR

1.Yurdu ne sarmıştı?

2.Türk'ün tek umudu kimdi?

3.Meclis ne zaman açılmıştı?

4.Meclisi kimlere emanet etti?

5.Bize emanet edilen nedir?

6.Bize bu emanetleri bırakan kimdir?

Hoş Geldin 23 Nisan

Günlerdir yolunu bekledik durduk.
Sen geleceksin diye çiçek açtı,
Bahçelerdeki bütün ağaçlar.
Leylekler yuvalarına döndü
Toprak ısındı, uyandı karıncalar.
Çoluk çocuk yollara döküldü.

Bugün sevinç içindeyiz hepimiz,
Bayraklarla süsleniyor balkonlar.
Caddelere taklar kuruluyor,
Bizim marşı çalıyor bandolar.
Nasıl sevinmeyelim geldiğine?
Okulda bayram, evde bayram,
Sokakta bayram...

Aşağıdaki soruları yukarıda verilen şiire göre yazınız.

S1 . Günlerdir kimin yolu bekleniyor?

.....
.....

S2. 23 Nisan için leylekler ve karıncalar neler yapmışlar?

.....
.....

S3.Kimler sevinç içindedir?

.....
.....

S4. Bayram nerelerde sevinç içinde kutlanmaktadır?

.....
.....

S5.Balkonlar ne ile süslenmektedir?

.....
.....

S6.Bahçelerdeki ağaçlara ne olmuş?

.....
.....

GEOMETRİK ŞEKİLLER

1.)



Aşağıdaki geometrik şekillerin adlarını altlarına yazınız.



.....

.....

.....

.....

2.)



Aşağıda verilen geometrik şekillerin adlarını eşleştiriniz.



1 DİKDÖRTGEN

2 ÜÇGEN

3 ÇEMBER

4 KARE

3.)



Aşağıda verilen geometrik şekillerle özelliklerini eşleştiriniz.



1 Köşesi ve kenarı yoktur.



2 Eşit uzunlukta dört kenarı ve dört köşesi vardır.



3 Birbirine eşit 2 uzun kenarı ve birbirine eşit 2 kısa kenarı vardır. 4 köşesi vardır.



4 3 kenarı ve 3 köşesi olan şekildir.

4.)



Aşağıda verilen geometrik şekillerin kenar sayısı ve köşe sayısını yazınız.



Kenar sayısı:

Köşe sayısı:



Kenar sayısı:

Köşe sayısı:



Kenar sayısı:

Köşe sayısı:



Kenar sayısı:


Köşe sayısı:

Aşağıdaki geometrik şekillerin adını, köşe ve kenar sayısını yazınız.

Şeklin Adı

Kenar Sayısı



Köşe Sayısı



.....

.....

.....



.....

.....

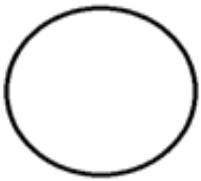
.....



.....

.....

.....




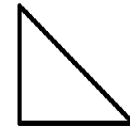
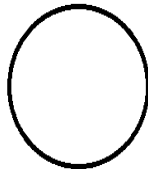
.....

.....


.....

Yan tarafta özellikleri verilen geometrik şekli bulup boyayınız.

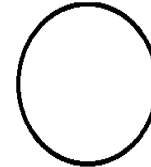

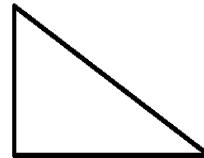
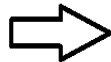
4 köşem,4 kenarım var.
Bütün kenarlarım eşittir.



Köşem ve kenarım
yoktur.



Üç köşem ve üç
kenarım var.



4 köşem ve 4
kenarım var.Sadece
karşılıklı kenarlarım
eşittir.

