




## AÇILARI ÖĞRENDİK Mİ?


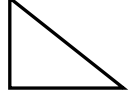
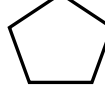
1. Açıklığım bir doğru oluşturur. Ben kimim?

- A. Dik açı B. Dar açı C. Doğru açı

2. Aşağıdaki geometrik şekillerden hangisinin kenarlarına çizilebilecek doğru çeşitlerinin hepside, (**dik açı**)dır ?

- A.  B.  C. 

3. Aşağıdaki geometrik şekillerden hangisinin tüm açıları, **geniş açı** dır?

- A.  B.  C. 

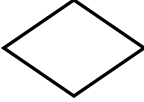
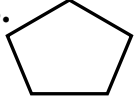
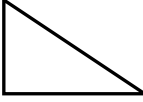
4. **Karenin** kaç açısı vardır?

- A. 2 B. 3 C. 4

5. Aşağıdaki harflerden hangisinde **dik açı** vardır?

- A. Z B. T C. N

6. Hangisinin **açı sayısı fazladır**?

- A.  B.  C. 

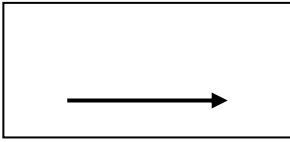
7.






Yukarıdaki şekilde kaç tane **dik açı** vardır?

- A.13 B.14 C.15

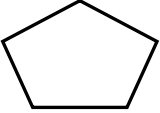
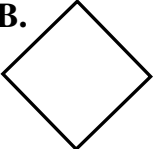

8.



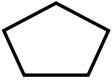

Yukarıdaki şeklin içindeki ışının yanına aşağıdaki ışıklardan hangisini olduğu gibi getirip çizersen **dar açı** elde etmiş oluruz?

- A.  B.  C. 


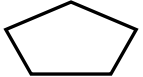
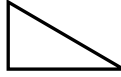
9. Aşağıdaki şekillerden hangisinin **dik açısı yoktur**?

- A.  B.  C. 

10. Aşağıdaki şekillerden hangisinin, **2dik açı, 1geniş açı, 1 dar açı** vardır?

- A.  B.  C. 

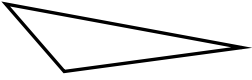
11. Aşağıdaki şekillerden hangisinin, **1dik açı, 2 dar açı** vardır?

- A.  B.  C. 

12. **Dik açıdan küçük olan açı** hangisidir?

- A) geniş açı B) dik açı C) dar açı

13.



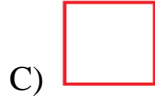
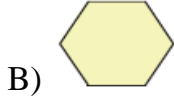
Şekildeki açların sayıları hangi şıkta doğru olarak verilmiştir?

A. 1 dar , 2 geniş açı

B. 3 geniş açı

C. 1 geniş , 2 dar açı

14 .Aşağıdaki geometrik şekillerden hangisinde **tüm açılar dar açı** dır?



15. . . . . **A.** . . . . .

. . . . .

. . . . . **C.** . **D.**

**B.** . . . . .

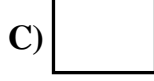
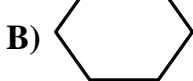
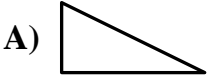
ACD harflerinin birleştirilmesiyle hangi açı elde edilir ?

A) dar açı

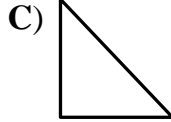
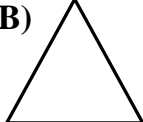

B) geniş açı

C) dik açı

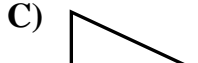

16.Aşağıdaki düzlemsel şekillerden hangisinin **tüm açıları geniş açı** dır?



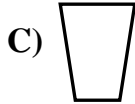
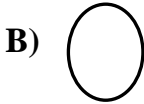
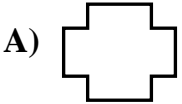
17. Aşağıdaki şekillerden hangisinin **tüm açıları dik açı**dır?



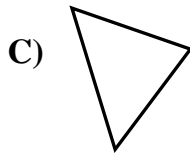
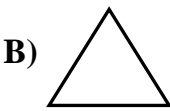
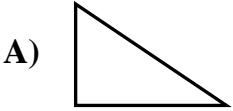
18. Aşağıdaki şekillerden hangisinin **bir tane dik açısı vardır?**



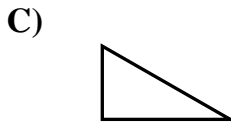
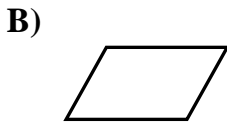
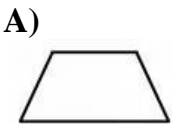
19. Aşağıdaki şekillerden hangisinin **açısı yoktur?**



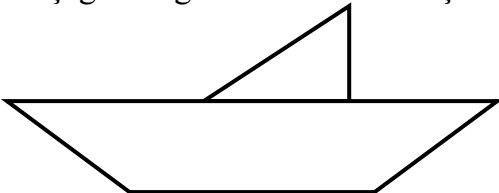
20. Aşağıdaki şekillerin hangisinde **dar açların** sayısı en azdır?



21. Aşağıdaki düzlemsel şekillerden hangisinde **dik açı vardır?**



22. Aşağıdaki gemi modelinde kaç tane **dar açı** vardır?



A) 2

B) 5

C) 4

## SÖZLÜK SIRASINA KOYALIM

Aşağıdaki sözcükleri sözlük sırasına göre yeniden yazınız. Tablodaki boşluğa yazınız.

balık-çerçeve	..... - .....
vapur-kalem	..... - .....
gül-üzüm	..... - .....
zeytin-bilgi	..... - .....
jilet-halı	..... - .....
mendil-oyun	..... - .....
pastane-silgi	..... - .....
yakalık-şeker	..... - .....
demlik-telefon	..... - .....
önlük-atkı	..... - .....

Aşağıdaki sözcükleri sözlük sırasına göre sıraya koyarak yandaki boşluğa yazınız.

elbise-ütü-kazak	..... - .....
pazar-kedi-orman	..... - .....
hoparlör-teyze-yem	..... - .....
dolap-fırın-makas	..... - .....
civciv-para-ekmek	..... - .....
nane-zil-yazı	..... - .....
şimşek-kutu-yağ	..... - .....
bina- jeton-kitap	..... - .....
takım-fener-penye	..... - .....
öykü- usta-akıl	..... - .....

Aşağıdaki sözcükleri sözlük sırasına göre yeniden yazınız.

karga-kıyı	..... - .....
serçe- saman	..... - .....
top- terlik	..... - .....
zam- zor	..... - .....
yukarı-yular	..... - .....
bakan-baston	..... - .....
cisim- civciv	..... - .....
arma -arka	..... - .....
gelenek-göz	..... - .....
itiraz-ihmal	..... - .....

Aşağıdaki sözcükleri sözlük sırasına göre yeniden yazınız.

bahçe- badem-bakla-tarla	..... - ..... - ..... - .....
önlük- fare- öteki-duvar	..... - ..... - ..... - .....
ayak-askı-cüzdan-abla	..... - ..... - ..... - .....
Türkçe- vida-türlü-tamir	..... - ..... - ..... - .....
musluk-nine-toprak-gemi	..... - ..... - ..... - .....
hikaye-hamal-hasta-hayat	..... - ..... - ..... - .....
yatak-yastık-çanta-çimen	..... - ..... - ..... - .....
valiz-ışık-lamba-okul	..... - ..... - ..... - .....
boru-boya-bebek-baba	..... - ..... - ..... - .....
silgi-sinir-saman-sele	..... - ..... - ..... - .....