

## TÜRKÇE TEST

1. Aşağıdaki kelimelerden hangisinin yazımı yanlıştır?

- A) ağaçda B) tatilde C) denizde

2. Aşağıdaki noktalama işaretlerinden hangisi doğru kullanılmıştır?

- A) Dikkatli olmalısın... B) Seni çok özledim?  
C) Harika olmuş anneciğim.

3. "Sıranın üzerinde kitap defter kalem silgi ve cetvel vardı" cümlesinde kaç tane virgül kullanılmalıdır?

- A) 2 B) 3 C) 4

4. "Onlar kardeşimin kalemleri değil." cümlesinde varlık adı yerine kullanılan kelime hangisidir?

- A) kardeşimin B) kalemleri C) onlar

5. "Yaş" kelimesi aşağıdaki cümlelerin hangisinde farklı anlamda kullanılmıştır?

- A) Arabalar yaş zeminde kayar  
B) Adam yaşlanmış, göreceğini görmüştü.  
C) Bu işin yaşı başı olmaz.

6. "Anneler çocuklarını ..... sever." cümlesindeki noktalı yere aşağıdaki kelimelerden hangisi konulursa cümlenin anlamı bozulur?

- A) sahipsizce B) çok C) daima

7. Aşağıdaki cümlelerin hangisinde "bilgin" sözcüğünün zıt anlamı kullanılmıştır?

- A) Alimler çok bilgili insanlardır  
B) Cahillerle dalga geçmemeliyiz  
C) Sorumsuz insanlardan çok zarar görürüz

8. Aşağıdaki kelimelerden hangisi eşesli değildir?

- A) kaz B) tut C) yüz

9. Aşağıdaki sözcüklerden hangisinin cümle ortasında bile büyük harfle başlaması gerekir?

- A) Çalışkan öğrenci B) Samimi C) İbrahim

10. "Onu, okul bittikten sonra bir daha hiç görmedim." Cümlesinde kaç tane sessiz harf vardır?

- a) 25 b) 20 c) 23

11. Aşağıdaki cümlelerin hangisinde "mi" soru ekinin yazımında yanlışlık yapılmıştır?

- A. Yarın teyzemlerle pikniğe gidecek miyiz?  
B. Zili sen mi uzun uzun çaldın?  
C. Öğretmenin anlattıklarını dinledinmi?

12. " milletvekili" kelimesi kaç heceli bir kelimedir?

- a) 5 b) 6 c) 4

13. Aşağıdakilerden hangisi kişi adı yerine kullanılır?

- A) bu B) şu C) biz

14. "Yaş" kelimesi aşağıdaki cümlelerin hangisinde farklı anlamda kullanılmıştır?

- A. Arabalar yaş zeminde kayar.  
B. Bu işin yaşı başı olmaz.  
C. Adam yaşamış, göreceğini görmüştü.

15. Aşağıdaki cümlelerin hangisinde özel isimlerin hepsi doğru yazılmamıştır?

- a) Bak gene Davut ve Mustafa geliyor.  
b) Bugün Hacılar Mahallesi'nde dolaştım durdum.  
c) Ahmet dün akşam uçağıyla Fransaya gitti.

16. Aşağıdaki cümlelerin hangisinde yazım yanlışlığı yapılmamıştır?

- a) Yağmur çok yağınca dereler daştı.  
b) Pınar pisiklete binmeyi çok sever.  
c) Samsun' dan gelen bayrağı selamladık.

17. Aşağıdaki cümlelerden hangisinin sonuna nokta konmalıdır?

- a) Büyük bir iş başardın  
b) Nedenini sen biliyor musun  
c) Eyvah ödevimi yapmayı unuttum ben

18. "Çocuklar bütün güçleriyle ipi çektiler." Cümlesinde hareket ( eylem ) belirten kelime hangisidir?

- a) çektiler b) bütün c) ipi

19. Aşağıdakilerden kelimelerden hangisinin hecelerine ayrılışı doğrudur?

- A) ı-s-pan -ak B) dom-a-tes C) pı-ra-sa

20. Aşağıdakilerden hangisi alfabemizin üçüncü harfidir?

- A) A B) B C) C

21. Aşağıdaki tümcelerin hangisinde "al" sözcüğü renk anlamında kullanılmıştır?

- A) Anne eve domates al B) Bir bisküvi de sen al.  
C) Yanakları al olmuş.

22. "Onun bisikletinden .....güzel olsun." Cümlesinde boş bırakılan yere hangi sözcük yazılmalıdır?

- A) Ama B) Daha C) Veya

29. "Gelmek" sözcüğünün karşıtı aşağıdakilerden hangisidir?

- A)Gitmek B)Tutmak C)Vermek

30.Aşağıdaki sözcüklerden hangisinin yazımı yanlıştır?

- A)gasete B)kibrit C) kitap

31.Hangi cümlede "hatıra" sözcüğünün eş anlamlısı vardır?

- A) Anneme hediye aldım.  
B) Dedem eski bir anısını anlattı.  
C) Halam çok hızlı araba kullanır.

32. Aşağıdakilerden hangisi eş sesli sözcüktür?

- A)ekmek B)yatak C)halı

33. Dinlediğimiz konularda geçen anlamını bilmediğimiz sözcükleri hangi kaynaktan araştırmalıyız?

- A)Türkçe sözlük B)Yazım (imla ) kılavuzu  
C)Ansiklopedi

34. "Ali'nin annesi yeni koltuk ( )halı ve yatak almış." Cümlesinde noktalı yere aşağıdaki noktalama işaretlerinden hangisi gelmelidir?

- A)Virgül B)Nokta C)Ünlem

35. "Sıranın üzerinde kitap defter kalem silgi ve cetvel vardı" cümlesinde kaç tane virgül kullanılmalıdır?

- A. 2 B. 3 C. 4

1.Müdür bey konuştu.

2.İstiklâl Marşı'nı okuduk.

3. Şiirler okuduk.

4. Saygı duruşunda bulunduk.

36. Bir ulusal bayramda yapılanlar yukarıda verilmiştir. Bunların doğru sıralaması nasıl olmalıdır?

- A)4 - 2 - 1 - 3 B)1 - 2 - 3 - 4 C)2 - 3 - 4 - 1

37. "Toplantıya geç kalmıştı. Çünkü ..... " cümlesini aşağıdakilerden hangisiyle tamamlayamayız?

- A) geç kalkmıştı. B) arabası arıza yapmıştı.  
C) evi çok yakındı.

38. "Kula'dan geldim." Diyen birine hangi soru sorulmuş olabilir?

- A) Nereden geldin? B) Neden geldin?  
C) Nasıl geldin?

39. Sütünü iç.....

Yorganını üzerine çek.....

Dişlerini fırçala.....

Yukarıdakilerden hangisi, yatmadan önce yapılan son iştir?

- A) Sütünü iç. B) Yorganını üzerine çek.  
C) Dişlerini fırçala.

40. "Dağlarda eriyen karlar baharla birlikte eriyip ovaya dökülür." cümlesinde aşağıdaki sorulardan hangisinin cevabı yoktur?

- A. Nerede? B. Niçin? C. Ne zaman?

41. "Sizin öğretmeniniz okula geldi mi?" cümlesinde hangi sözcük gereksiz kullanılmıştır?

- A. sizin B. öğretmeniniz C. Geldi

42. "Gelmek" sözcüğü hangi cümlede daha önce yapılan bir işi anlatmaktadır?

- A. Cem eve geliyor. B. Yarın okula gelecek.  
C. Akşam olunca köye geldi.

44. "Kuş" ile "yuva" kelimeleri arasında bir anlam ilişkisi vardır. "İnsan" ile aşağıdakilerden hangisi arasında buna benzer bir ilişki olabilir?

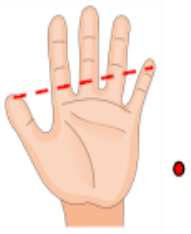
- A. ev B. okul C. çeşme

## Konu: Standart Olmayan Uzunluk Ölçüleri Etkinliği 2

Aşağıda verilen standart olmayan ölçü bitimlerinin adlarıyla eşleştiriniz.



Kulaç



Parmak



Karış



Adım



Ayak

Aşağıdaki görselleri, uzunluğunu ölçebileceğimiz standart olmayan ölçme araçlarıyla eşleştiriniz.



Kulaç



Parmak



Karış



Adım




Ayak

## STANDART OLMAYAN UZUNLUK ÖLÇÜ BİRİMLERİ

İki kolumuzu yana doğru açtığımızda, iki kolumuz arasındaki mesafeye kulaç deriz.

### KULAÇ



Oturma odasının boyunu önce anne veya babanız sonra siz ve varsa kardeşiniz sıra ile kulacınızla ölçünüz. Sonuçları aşağıya yazınız.  
Annem veya babam ölçtü ..... kulaç geldi.  
Ben ölçtüm .....kulaç geldi.  
Kardeşim ölçtü..... kulaç geldi.

Başparmak ile topuğumuz arasındaki mesafeye **ayak** denir.

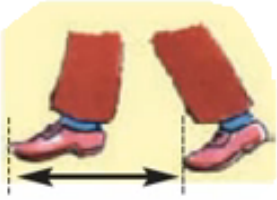
### AYAK



Mutfağınızın boyunu önce anne veya babanız sonra siz ve varsa kardeşiniz sıra ile ayağınızla ölçünüz. Sonuçları aşağıya yazınız.  
Annem veya babam ölçtü ..... ayak geldi.  
Ben ölçtüm ..... ayak geldi.  
Kardeşim ölçtü ..... ayak geldi.

Bir adım attığımızda öndeki ve arkadaki ayağımız arasındaki mesafeye **adım** denir.

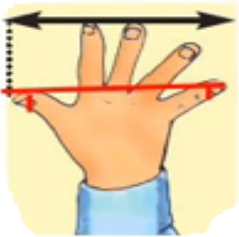
### ADIM



Koridorunuzun boyunu önce anne veya babanız sonra siz ve varsa kardeşiniz sıra ile adımlarınızla ölçünüz. Sonuçları aşağıya yazınız.  
Annem veya babam ölçtü ..... Adım geldi.  
Ben ölçtüm ..... adım geldi.  
Kardeşim ölçtü ..... adım geldi.

Elimizin başparmağı ile küçük parmağı arasındaki mesafesine **karış** denir


### KARIŞ



Buzdolabınızın boyunu önce anne veya babanız sonra siz ve varsa kardeşiniz sıra ile karışınızla ölçünüz. Sonuçları aşağıya yazınız.  
Annem veya babam ölçtü ..... karış geldi.  
Ben ölçtüm .....karış geldi.  
Kardeşim ölçtü ..... karış geldi.

El parmağının eni kadar olan uzunluk ölçüsüne **parmak** deriz.

### PARMAK



Kaleminizin boyunu önce anne veya babanız sonra siz ve varsa kardeşiniz sıra ile parmakla ölçünüz. Sonuçları aşağıya yazınız.  
Annem veya babam ölçtü... Parmak geldi.  
Ben ölçtüm .....parmak geldi.  
Kardeşim ölçtü ..... parmak geldi.

## Ölçüm sonuçları ile ilgili verilen soruları cevaplayalım.

1- Ölçüm sonuçları herkeste aynı mı çıktı?

2- Sonuçların farklı olmasının sebebi sizce nedir?

3- Neden büyüklerin ölçümlerindeki sayılar az?

4- Kulaç, ayak, adım, karış, parmak gibi ölçü birimlerine ne ad verilir?

5- Bu ölçüm araçlarını günlük hayatımızda her türlü ölçüm işlerinde rahatlıkla kullanabilir miyiz? Kullanırsak ne gibi sorunlarla karşılaşırız?

6- Sizce kim ölçerse ölçsün sonucun hep aynı çıkacağı ölçüm araçları var mıdır?

### A. Aşağıdaki tümcelerdeki boşlukları tablodaki uygun sözcüklerle tamamlayınız.

kulaç - parmak - kişiye - adım - parmak, karış, adım, ayak, kulaç - parmak

- ❖ Standart olmayan ölçü birimleri ..... , ..... , ..... ve ..... dır.
- ❖ Evimizin salonunun boyunu ..... ile ölçeriz.
- ❖ Annemin örgü ipinin uzunluğunu standart olmayan ölçme birimi ..... ile ölçeriz.
- ❖ Kırmızı kalemin boyunu ..... ile ölçeriz.
- ❖ Çok küçük uzunlukları standart olmayan ölçme birimi olan ..... ile ölçeriz.
- ❖ Standart olmayan ölçme araçları ile ölçülen uzunluklar ..... göre değişir

### B. Anladık mı?

- ❖ **Aşağıdaki ölçülerden hangisi en büyüktür?**  
A.kulaç B.ayak C.karış
- ❖ **Aşağıdaki ölçülerden hangisi en küçüktür?**  
A.Bir kulaç B. Üç ayak C.on parmak
- ❖ **Ellerimizi iki yanarak açarak yaptığımız ölçmeye ne denir?**  
A.ayak B. Karış C.kulaç
- ❖ **Silgimizin boyunu ne ile ölçeriz?**  
A.parmak B.adım C.karış
- ❖ **Sınıfımızın duvarını hangi ölçü ile daha çabuk ölçeriz?**  
A.kulaç B.ayak C. Karış
- ❖ **Defterimizin boyunu aşağıdaki ölçülerden hangisi ile ölçemeyiz?**  
A.karış B.adım C.parmak