

ATASÖZLERİ

Atasözü : Uzun deneme ve gözlemlere dayanarak söylenmiş , halka ait öğüt verici sözlere denir . Kim tarafından söylendiği belli değildir .

Aşağıda karışık halde verilmiş atasözlerini doğru sıralayarak yazalım .

dönersen

zararın

kardır

neresinden

dil

yılanı

çıkartır

tatlı

deliğinden

baktırır

kapıdan

mart

yaktırır

kürek

kazma

komşunun

muhtaçtır

külüne

komşu

kalkan

öfkeyle

oturur

zararla

peynir

yürümez

lafla

gemisi

ATASÖZLERİ

Aşağıdaki atasözlerinde baş bırakılan yerlere uygun kelimeleri yazınız.

1- Aslan yerden belli olur.

sesi

gelir

2- Sakla samanı zamanı.

yattığı

yorganına

3- Ayağını göre uzat.

4-Bir elin nesi var iki elin var.

kazarlar

düşman

5- Su uyur uyumaz.

6- Mum dibine vermez.

ışık

kuvvet

7- Kazma kuyunu kuyunu.

8- Birlikten doğar.

açar

şeytan

9- Acele işe karışır.

10- Açma sırrını dostuna o da dostuna.

can

değirmen

11- Taşıma suyu ile dönmez.

12- Mal bulunur, bulunmaz.

başına

hareket

13- Nerde , orda bereket.

14- Kelin ilacı olsa sürer.

parası

15- Kiminin , kiminin duası.

16- Komşu komşunun muhtaçtır.

külüne

17- yanında yaş da yanar.

kurunun

kara

18- Danışan dağı aşmış, yolu şaşmış.

19- Davulun sesi hoş gelir.

uzaktan

danışmayanın

20- Dost günde belli olur.

21- Çürük tahta tutmaz.

pişenin

umut

22- Emek olmadan olmaz.

23- Çıkmadık candan kesilmez.

yemek

çenesini

24- Yazın başı , kışın aşı pişer.

25- Zengin malı, züğürdün yorar.

çivi

TABLoları OKUYALIM VE YORUMLAYALIM, DÜZENLEYELİM

Aşağıda bir mağazada satılan ürünlerin nesne grafiği verilmiştir. Buna göre çetele ve sıklık tablosu oluşturunuz.

Tablo: Mağazadaki Ürünler

Ürünler	Ürün Sayısı
Gömlek	
Kazak	
Pantolon	
Çorap	

Not: Her nesne 3 ürünü göstermektedir.

Tablo:

Ürünler	Ürün Sayısı
Gömlek	
Kazak	
Pantolon	
Çorap	


Tablo:

Ürünler	Ürün Sayısı
Gömlek	
Kazak	
Pantolon	
Çorap	

Aşağıda 3/A sınıftaki öğrencilerin göz renklerinin şekil grafiği verilmiştir. Buna göre çetele ve sıklık tablosu oluşturunuz.

Grafik: Öğrencilerin göz renklerinin grafiği

Öğrenci sayısı



Not: Her şekil 4 öğrenciyi göstermektedir.

Tablo:





Göz rengi	Öğrenci Sayısı
Mavi	
Ela	
Siyah	
Kahverengi	

Tablo:

Göz rengi	Öğrenci Sayısı
Mavi	
Ela	
Siyah	
Kahverengi	

Aşağıda bir çiftlikte bulunan hayvanların nesne grafiği verilmiştir. Buna göre çetele tablosu oluşturunuz.

Tablo: Çiftlikteki Hayvanlar

Hayvanlar	Hayvan Sayısı
Koyun	
İnek	
Keçi	
Tavuk	

Not: Her nesne 5 hayvanı göstermektedir.

Tablo:

Hayvanlar	Hayvan Sayısı
Koyun	
İnek	
Keçi	
Tavuk	

- Çiftlikte en fazla hangi hayvan vardır?
.....
- Koyun ve keçilerin toplamı, tavuklardan kaç fazladır?
.....
- Çiftlikte inek ve keçilerin toplamı koyunlardan kaç fazladır?
.....
- Çiftlikte toplam kaç hayvan vardır
.....

Aşağıda bir kırtasiyede bir günde satılan kalemlerin renklerine göre şekil grafiği verilmiştir. Buna göre sıklık tablosu oluşturunuz.

Grafik: Bir günde satılan kalemler grafiği



Not: Her şekil 7 kalemi göstermektedir.

Tablo:

Kalemler	Kalem Sayısı
Yeşil	
Beyaz	
Mavi	
Siyah	
Kırmızı	

- Kaç tane mavi kalem satılmıştır?
.....
- Yeşil ve mavi kalemlerin toplamı hangi kalem sayısına eşittir?
.....
- Kırmızı ve siyah kalemlerin toplamı mavi kalemlerden kaç fazladır?
.....
- Kırtasiyede en fazla hangi kalem satılmıştır?
.....