

TÜRKÇE TEST

1) “O bize ilk defa” tümcesi hangisi ile tamamlanabilir?

- A) geldi B) gezdi C) gitti

2) “Mehmet okulun bahçesine geldi.” cümlesinde işi yapan kimdir?

- A)Ali B)geldi C)okulun

3)“Gerçek büyük adamların bir özelliği de analarına karşı bir sevgi ile bağlı olmalarıdır.”

Cümlesinde kaç kelime vardır?

- A)11 B)12 C)13

4)“Atalarımız bu vatan uğruna canlarını verdiler.” Cümlesinde kaç tane hece vardır?

- A)18 B)17 C)16

5)Aşağıdaki kelimelerden hangisi dört harfli tek heceli bir kelime değildir?

- A)Türk B)Kuzu C) Yurt

6) Hangi sözcük çiftlerinde hangisi karşıt anlamlı değil?

- A)büyük-iri B)ince-kalın C)siyah-beyaz

7) Aşağıdaki cümlelerin hangisinde yazım yanlışı yapılmamıştır ?

- A)Fareleri gören tekir ,kendinden geçti.
B)Bu çocuk çince konuşabilir mi ?
C)Ankara’da Kırgız bir komşumuz vardı.

8) “Bahçedeki ağaca kuşlar kondu.” cümlesinde çoğul olan kelime hangisidir?

- A)Bahçede B)kuşlar C)kondu

9) Tek ve belli bir varlığa verilen isme ne denir?

- A) Tür isim B)bileşik isim C)özel isim

10) “Of, hava çok sıcak()” Cümlesinin sonuna hangi noktalama işareti gelmelidir?

- A)ünlem işareti B) soru işareti C) nokta

11)Aşağıdaki sözcük çiftlerinden hangisi zıt anlamlıdır?

- A)beyaz-ak B)elma-armut C)büyük-küçük

12) “Fakir” sözcüğünün zıt anlamlısı hangisidir?

- A)zengin B)güçlü C)yoksul

13)Aşağıdaki sözcükler sözlük sırasına konulduğunda baştan ikinci sözcük hangisi olur?

- A)tarak B)tabak C)tanış

14) Aşağıdaki cümlelerden hangisi yaşanan bir duyguyu belirtmektedir ?

- A)Hafta sonu ödevlerimi yetiştiremedim.
B)Ablama çok kızmıştım.
C)Tatilde bisiklete binmeyi öğreneceğim.

15) “Uzun – Kısa” sözcükleri arasındaki ilişki, aşağıdaki sözcük çiftlerinden hangisinde vardır?

- A)ufak-küçük B)yaşlı-ihtiyar C)soğuk-sıcak

16) “Açlıktan başım dönüyordu.” cümlesinde aşağıdaki sorulardan hangisinin yanıtı yoktur ?

- A)ne B)neden C)ne zaman

17)

- I. İstiklal Marşı ’mızı ve Andımız ’ı okuduk.
II.Zil çalınca hepimiz bahçede sıraya girdik.
III.Tüm öğrenciler kendi sınıflarına girdi.

Yukarıdaki cümleleri oluş sıralamasına göre dizersek sıralama nasıl olur ?

- A)I – II – III B)II – I – III C)III – II – I

18) Hangi seçenekteki özel ad yanlış yazılmıştır?

- A) Muratlar B) elif’in C) Elazığ’da

19) “Dedem Ali’ye erken yat dedi.” Cümlesindeki hangi sözcük eş seslidir?

- A) dedem B) erken C) yat

20) “*Seni gördüğüme ben çok sevindim.*”
cümlesindeki hangi kelimeyi çıkarırsak
cümlelerin anlamında değişiklik olmaz?
a) seni b) çok c) ben

21) Aşağıdaki sözcüklerden hangisi yanlış
yazılmıştır?
A) yalnız B) gazzete C) saat

22) “*Sen artık çocuk değilsin.*” Bu cümlede
tümcede adın yerine hangi sözcük
kullanılmıştır?
A)artık B) sen C) değilsin

23) “*Dışarıda yağmur yağmasına rağmen
.....*”
Yukarıdaki cümle hangisi ile
tamamlanabilir?

- A)Şemsiyesini yanına almadı.
B)Okuluna gitmek istemedi.
C)Oyun oynamıyorduk.

24) Hangi cümlede çoğul isim
kullanılmamıştır?

- A) Bayramda hastaları ziyaret ederiz.
B) Yemekten sonra dişlerimizi fırçalamalıyız.
C) Sınıfımızı temiz tutmalıyız.

25) “*Soner, Yusuf ve Uğur yarın bize gelecekler.*”
Aşağıdaki kelimelerden hangisi bu
cümledeki altı çizili adların yerine
kullanıldığında cümlelerin anlamı değişmez ve
bozulmaz?

- A) o B) onlar C) sen

26) Aşağıdakilerden hangisi eş sesli değildir?
A)çiçek B)el C)kır

27) Aşağıdaki kelimelerin hangisi sözlükte
diğerlerinden sonra gelir?
A)eğitici B)eğitim C)eğitimci

28) “*Cuma günü otobüsle tatile çıkacağız.*”
Yukarıdaki tümcede hangi sorunun cevabı
yoktur?
A)Ne zaman? B) Ne ile? C) Neden?

29) “*Karnesi çok başarılıydı.*”
Yukarıda sonucu verilmiş olayın sebebi nedir?
A) Bütün gün oyun oynadığı için,
B) Ödevlerini zamanında yaptığı için,
C) Ödevlerini yetiştiremediği için.

30) “*KARA*” kelimesi aşağıdakilerden
hangisinde farklı anlamda kullanılmıştır?
A) Karaların üzerinde yaşıyoruz.
B)Yaz mevsiminde kara giysi giyilmez.
C)Kara tahtanın yerini akıllı tahtalar alıyor.

31) ” *yapmayı – sabahları – severim – siz –
çok – yürüyüş*”
Yukarıdaki kelimelerle bir cümle kurulursa
hangi kelime kullanılamaz?
A)Siz B) çok C) Yürüyüş

32) “*Hafta sonu kuzenimi görmeye
gideceğim.*” cümlesinde aşağıdaki sorulardan
hangisinin yanıtı yoktur?
A) Neden hafta sonu kuzenini görmeye
gideceksin?
B) Ne zaman kuzenini görmeye gideceksin?
C) Hafta sonu kimi görmeye gideceksin?

33) Aşağıdaki cümlelerin hangisinde “*neden*”
ve “*ne*” sorularından her ikisinin de yanıtı
vardır?
A) Yarın okula gidemeyeceğim.
B) Kalemim olmadığından yazı yazamadım.
C) Zıplamayan bir top aldım.

34) “*Ne, kim, niçin, neden, ne zaman, nerede,
nasıl*” gibi sözcükleri boş bırakılan yerlere
uygun soru kelimelerini yazınız.
Kocaman sepetteki incirleri yemiş?

Akşam yemeği için hazırladın?

Burak sınıfa gelmiş?

Atatürk düşmanı yurdumuzdan

..... kovmuş?

Bugün derse geç kaldın?

Siz oturuyorsunuz?

STANDART OLMAYAN UZUNLUK ÖLÇÜLERİ

Konu: Standart Olmayan Uzunluk Ölçüleri Etkinliği

Aşağıdaki görsellerde verilen standart olmayan ölçme birimlerini adlarını noktalı yerlere yazınız.



.....





.....

.....


.....

.....

Tabloda belirtilen uzunlukların standart olmayan ölçme birimlerinden hangileri ile ölçülebilir.
Kutulara "X" işareti koyalım.

Uzunluklar	Karış 	Ayak 	Adım 	Parmak 	Kulaç 
Kitabımızın boyu					
Kilimin uzunluğu					
Silginin uzunluğu					
Odanın uzunluğu					
Tahtanın uzunluğu					
Buzdolabının eni					
Diş fırçasının boyu					
Arabanın boyu					
Sıranın eni					
Kaşığın boyu					

Aşağıdaki nesnelerin ölçümünü hangi standart olmayan ölçme aracıyla eşleştirebiliriz.



Aşağıdaki cümlelerin başına doğru ise "D", yanlış ise "Y" yazınız.

- () Standart olmayan ölçü birimlerinden en kısıtı parmağıdır.
- () Sınıfımızın boyunu kulağı ile daha rahat ölçeriz.
- () Okulumuzun bahçesinin enini ayak ile ölçeriz.
- () Yemek kaşığının boyunu kulağı ile ölçeriz.
- () Odamdaki kilimin boyunu ayak ile ölçebiliriz.
- () Kumandanın boyunu parmak ile ölçeriz.
- () Otomobilin boyunu parmak ile ölçebiliriz.
- () Evimizdeki koridorun boyunu ayak ile ölçebiliriz.
- () Sınıfımızdaki duvarı kulağı ile ölçebiliriz
- () Defterimizin boyunu kulağı ile ölçebiliriz.

2.SINIF – MATEMATİK – STANDART OLMAYAN UZUNLUK ÖLÇÜLERİ ETKİNLİĞİ



Parmak



karış



kulaç



ayak



adım

Aşağıda verilenlerin uzunluklarını ne ile ölçülebileceğini altlarına yazın.

Kumaş :

Kaldırımın genişliği :

Kitabın kalınlığı :

Satır başı :

Bahçenin uzunluğu :

Tahtanın uzunluğu:

Sıranın boyu :

Masanın yüksekliği:

Duvarın uzunluğu :

Kapının yüksekliği :

Aşağıdaki cümlelerde boş yerlere uygun kelimeleri getirin.

- 1.) Elimizin baş parmağı ile serçe parmağı arasındaki mesafeye.....denir.
- 2.) Ayak baş parmağımız ile topuğumuz arasındaki mesafeye.....denir.
- 3.) Ayaklarımızı öne doğru açtığımızda öndeki ve arkadaki ayağımız arasındaki mesafeyedenir
- 4.) İki kolumuzu açtığımızda kollarımız aramızdaki mesafeyedenir.
- 5.) El parmağının eni kadar olan mesafeye.....denir.

Aşağıda verilenleri birbiri ile örnekteki gibi eşleştirin.

AYAK

ADIM

KULAÇ

KARIŞ

PARMAK



* Evinizde standart olmayan ölçme araçları ile ölçümler yapınız. Ölçümleri, yanında bir aile bireyi ile birlikte yapmalısınız. Bulduğunuz sonucu aşağıdaki tabloya yazar mısınız?

Ölçülen Nesnelere	Seçtiğiniz Birim	Ölçme Sonucu	Aile Bireyinin Ölçme sonucu
Türkçe defterinin eni	parmak parmak parmak
Matematik kitabının boyu			
Salonun uzunluğu			
Çalışma masasının uzunluğu			
Odanın kapısının genişliği			
Buzdolabının eni			
Evinizin giriş kapısının genişliği			

1) Aşağıdakilerden hangisi uzunluk ölçüsü birimi değildir?



2) Bir elin baş parmağı ile küçük parmağı arasındaki uzaklığa ne ad verilir?

A. parmak

B. kulaç

C. karış

3) Resimdeki kişiler hangi uzunluk ölçüsü birimini kullanmaktadır?

A. adım

B. karış

C. metre



Aşağıdaki doğal uzunluk ölçülerinden hangisi kulaç göstermektedir.?



5) Aşağıdaki görsellerden hangisi ayak ölçüsünü göstermektedir?



6) Aşağıdakilerden hangisi bir doğal uzunluk ölçüsü olan parmağı ifade etmektedir?



7) Yandaki görsel, hangi doğal uzunluk ölçüsünü anlatmaktadır?

A Ayak

B Kulaç

C Adım

