

SİNEMA

Cenk()çok çalışkan bir öğrenciydi () Yavuz ise ders çalışmayı hiç sevmezdi() Bu iki arkadaş Cumartesi günü sinemaya gitti() Hayvanların hayatı konulu bir film izlediler () Sinema Cenk()in evlerinin yanındaydı() Yavuz cumartesi gecesi Cenk () in evinde kaldı () Çünkü Pazar günü aynı filmi bir kez daha izleyeceklerdi()
Üstteki parçayı okuyalım () içine uygun noktalama işaretini koyalım,sorularını cevaplandıralım.

Sorular

1 -Cenk nasıl bir öğrenciymiş?

.....
.....

2-Cenk ve Yavuz ne zaman sinemaya gitmişler?

.....
.....

3-Sinema neredeymiş?

.....
.....

4-İki arkadaşın izledikleri filmin konusu nedir?

.....
.....

5- Aşağıdaki cümlelerden hangisinin sonuna yanlış noktalama işareti konmuştur?

A)Büyüklerimize karşı saygılı olmalıyız. B)Akşamları geç mi yatıyorsun!

C)Tüh, yine cüzdanımı düşürmüşüm!

6-“Et süt ve yumurta çok besleyicidir.. Cümlesinde hangi kelimedden sonra virgül (,) konmalıdır?

A) Et B) Süt C) Ve

7- “İstanbul'a hiç gittin mi.. cümlesinden sonra, hangi noktalama işareti konmalıdır?

A) (.) B) (,) C) (?)

8- Aşağıdaki cümlelerde, altı çizili kelimelerin hangisinden sonra kesme işareti konmaz?

A)Atatürk Selanik'te doğdu. B)Cumhuriyet 1 923'te ilan edildi.

C)Sel duvar'ı yıktı.

ÖZEL İSİMLER



Özel isimlere gelen ekler kesme işareti ile ayrılır. Aşağıdaki kelimelerin doğru yazılışlarını karşlarına yazalım.

- Ankaradan →
- Ayşeye →
- İstanbul →
- Büşrayı →
- Selime →
- Halitin →
- Atatürke →
- Vanın →
- Ahmetten →
- Bursadan →
- Yusufu →
- Karadenizin →



Aşağıda verilen özel isimleri özelliklerine göre ayırıp,yazalım.

Samsun

Ayşe

Minnoş

İstanbul

Pamuk

Mehmet

Adana

Yusuf

Maviş

İnsan İsimleri

Hayvan İsimleri

Şehir İsimleri

.....

.....

.....

.....

.....

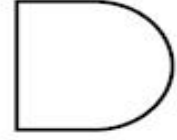
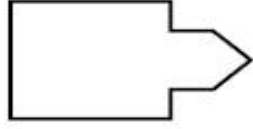
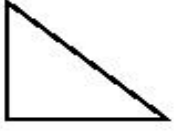
.....

.....


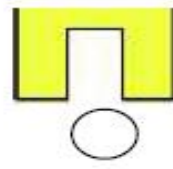
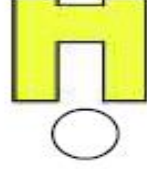
.....

.....



Aşağıdaki şekillerin yarısını boyayınız.



Baştaki nesnenin yarısı hangisidir? İşaretleyiniz.



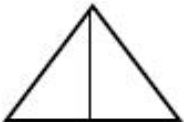
Aşağıdakilerden hangisi bütündür?



Aşağıdakilerden hangisi yarımı gösterir?



Şekillerden hangisi iki eşit parçaya ayrılmıştır?



A)




B)



C)


Yarisini Boya

8 elmanın yarısını boyayınız.




8 elmanın yarısı

6 elmanın yarısını boyayınız.




6 elmanın yarısı.....

10 elmanın yarısını bulunuz.



10 elmanın yarısı

12 elmanın yarısını boyayınız.




10 elmanın yarısı

Bütünü Bul

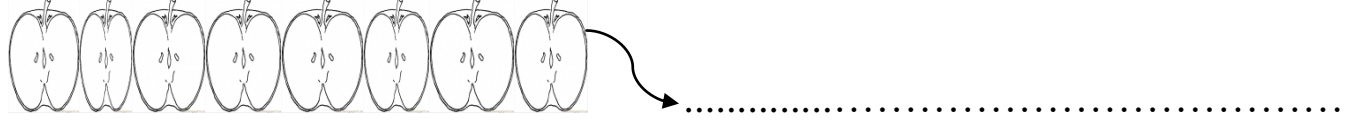
4 yarım elmada kaç bütün vardır?



6 yarım elma kaç bütün elma eder çizerek gösteriniz



8 yarım elma kaç bütün eder çizerek gösteriniz



10 yarım elma kaç bütün eder çizerek gösteriniz



14 yarım elma kaç bütün eder çizerek gösteriniz

