

## 29 EKİM

Cumhuriyet Bayramı  
Geldi bize ne mutlu!  
Bayraklarla donattık,  
Güzel okulumuzu.

Sokaklarda, evlerde,  
Al bayrak dalgalanır.  
Onun o al rengini,  
Bütün bir dünya tanır.

Yirmi dokuz ekimi  
Karşıyoruz neşeyle,  
Çünkü bu günde erdik  
Büyük Cumhuriyete.

Yürüyün arkadaşlar,  
Hep ileri koşalım.  
Bugün bayramımız var.  
Gelin bayramlaşalım

Ali PÜSKÜLLÜOĞLU

### SORULAR

1-Okullar **niçin** bayraklarla donatılmıştır?

2-Sokaklarda ve evlerde **ne** dalgalanır ?

3-29 Ekimi **nasıl** karşılarız?

4- 29 Ekim'i **neden** neşeyle karşılarız?

5- Cumhuriyet Bayramı'nı **ne zaman** kutlarız?

6- 29 Ekim adlı şiiri **kim** yazmıştır?

7-Şiir, kaç dördlükten oluşmuştur?.....

8- Şiir, kaç dizeden oluşmuştur?.....

9-Şiir yazar kişiye ne denir?.....

10-“29 Ekim” şiirinin şairi kimdir?.....

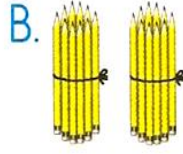
## ZIT ANLAMLI KELİMELE

Aşağıda verilen zıt anlamlı kelimeleri karşılarındaki boş ok işaretine yazınız.

ACEMİ			BOL
AÇIK			ÜVEY
GECE			TOPLAMA
SAVAŞ			DOST
ARTI			KIŞ
GÜLMEK			EVCİL
GÜZEL			YARAR
SORU			ALT
HIZLI			CEZA
CÖMERT			SİYAH

## DOĞAL SAYILAR TEST

1. Aşağıdakilerden hangisinde 2 deste kalem vardır ?




2. Bir deste fındık ile iki düzine fındığın toplamı kaç fındıktır?

A. 22

B. 24

C. 34

3. Nesne sayısı 2 onluk, 2 birlikten oluşan seçenek hangisidir?




4. Yandaki elmaların onluk oluşturması için kaç tane elma eklenmelidir?

A. 6

B. 4

C. 2



5. Birler basamağı 5, onlar basamağı 6 olan doğal sayı kaçtır?

A. 11

B. 56

C. 65

6. 26, 57 ve 49 sayılarındaki rakamlardan hangisinin basamak değeri en büyüktür?

A. 5

B. 7

C. 9

7. 66, 64, 62, 60, ? örüntüsünde "?" yerine hangi sayı gelmelidir?

A. 59

B. 58

C. 56

8. 75, 70, ?, 60, 55 örüntüsünde "?" yerine gelecek sayı aşağıdakilerden hangisidir?

A. 68

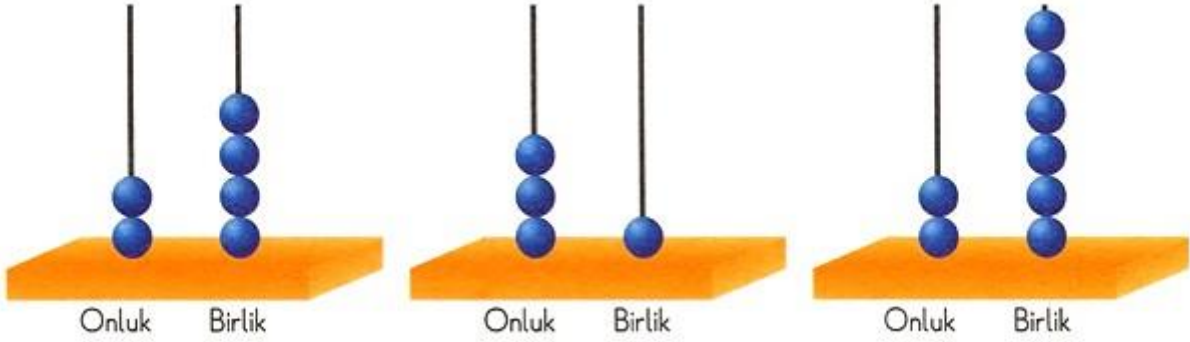
B. 66

C. 65

9. Ufuk, yüzlük tablo yardımıyla 6'dan başlayıp 30'a kadar ikişer ve üçer ritmik sayıyor. Ufuk, kaç tane sayıyı her iki saymada da söyler?  
A. 4                      B. 5                      C. 6

10. 4'ten başlayıp 40'a kadar ikişer ve dörder ritmik sayma yapıyoruz. Aşağıdaki sayılardan hangisi her iki saymada da söylenir?  
A. 15                      B. 18                      C. 24

11.



Yukarıdaki abaküslerde boncuklarla oluşturulan sayılardan en küçük olanı hangisidir?

- A. 24                      B. 26                      C. 31

12. Aşağıdaki sayılardan hangisi 69 sayısından büyüktür?  
A. 57                      B. 68                      C. 96

13. 15, 18, 21, 24, 27 örüntüsündeki kural aşağıdakilerden hangisidir?  
A. İleriye doğru ikişer ritmik sayma  
B. İleriye doğru üçer ritmik sayma  
C. Geriye doğru üçer ritmik sayma

14. 12, 16, 20, 24, 28, 30 örüntüsünde kuralı bozan sayı hangisidir?  
A. 24                      B. 28                      C. 30