

ATASÖZLERİ TEST

- "İnsan geliriyle orantılı bir şekilde harcama yapmalı, çok borç yapmamalı." anlamına gelen atasözü aşağıdakilerden hangisidir?
A) Ayağını yorganına göre uzat. B) Sakla samanı gelir zamanı. C) Ava giden avlanır.
- Aşağıdaki atasözlerinden hangisinin anlamı farklıdır?
A) Ev alma komşu al. B) İş insanın aynasıdır. C) Komşu komşunun külüne muhtaçtır.
- Aşağıdaki atasözlerinden hangisi sağlıkla ilgili değildir?
A) Can boğazdan gelir. B) Güneş girmeyen eve doktor girer. C) Kefenin cebi yoktur.
- "Kurunun yanında yaş da yanar." atasözünü açıklayan aşağıdakilerden hangisidir?
A) Gerçek suçlular bulununcaya kadar, suçsuz kişiler de zarar görebilir.
B) Kişi yoksullaşınca dostları onu terk eder.
C) Canı kurtarmak için malı feda etmek gerekebilir.
- Aşağıdakilerden hangisi dayanışmayı ve iş birliğini öğütleyen atasözüdür?
A) Eskisi olmayanın yenisi olmaz.
B) Can canın yoldaşdır.
C) Bir elin nesi var, iki elin sesi var.
- Aşağıdakilerden hangisi "İşleyen demir pas tutmaz." atasözüne en yakın anlamlıdır?
A) Çok parlak demir kararmaz.
B) Emek vermeden üretim elde edilemez.
C) Çalışan insan sağlıklı olur ve iyi iş yapar.
- Aşağıdaki atasözlerinden hangisi farklıdır?
A) Öfkeyle kalkan zararlar oturur.
B) Sakla samanı gelir zamanı.
C) Keskin sirke küpüne zarar.
- Aşağıdaki atasözlerinden hangisi farklı anlamdadır?
A) Körle yatan şaşkı kalkar.
B) Üzüm üzümüne baka baka kararır.
C) Gülü seven dikenine katlanır.
- Aşağıdakilerden hangisi atasözü değildir?
A) Ateş düştüğü yeri yakar.
B) Tembele iş buyur, sana akıl öğretsin.
C) Korkudan tir tir titriyordu.
- "Dibi görünmeyen sudan geçme." atasözü ile aşağıdakilerden hangisinin önemi vurgulanıyor?
A) tedbirli olmanın
B) zeki olmanın
C) cesaretli olmanın
- "İşleyen demir ışıldar." Atasözüyle, aşağıdakilerden hangisinin önemi belirtilmektedir?
A)Çalışmak B)Parlaklık C)İşçilik

12. Aşağıdaki atasözlerinden üçü bir yönden benzeşmektedir, farklı olan hangisidir?

A-Bu günün işini, yarına bırakma.

B-Bakarsan bağ, bakmazsan dağ olur.

C-Anamın ekmeğine kuru, ayranına duru demem.

13. Aşağıdaki atasözlerinden hangisi, konusu bakımından diğerlerinden farklıdır

A-Keskin sirke küpüne zarar

B-Üzüm üzüme baka baka kararır.

C-Körle yatan şaşı kalkar.

14. Aşağıdaki atasözlerinden hangisinin konusu farklıdır?

A-Çiğnemedenden yutulmaz.

B-Emeksiz yemek olmaz.

C-Yazın başı pişenin, kışın aşı pişer.

15. “Demir tavında dövülür.” Atasözünü en iyi şekilde aşağıdakilerden hangisi açıklar?

A-Her iş zamanında yapılmalıdır.

B-Usta demirciler, demiri tavında döver

C-Demir tavladıktan sonra dövülmeli

16. Aşağıdaki atasözlerinin hangisinde çalışmanın önemi anlatılmaktadır?

A-Yazın başı pişenin, kışın aşı pişer.

B-Sakla samanı gelir zamanı

C-Zararın neresinden dönülürse kardır.

17. Aşağıdakilerden hangisi atasözü değildir?

A-Ne verirsen elinle, o gider seninle.

B-Heyecandan dili damağına yapıştı.

C-Bir elin nesi var, iki elin sesi var.

18. Aşağıdakilerden hangisi “Güneş girmeyen eve doktor girer.” Atasözüne en yakın anlamdadır?

A-Güneşsiz evde hastalık eksik olmaz.

B-Güneş mikropları öldürür.

C-Doktor, güneşli yerlere girmez.

19. “Her çok, azdan olur” atasözünün anlamı aşağıdakilerden hangisine uygundur?

A-Sakla samanı, gelir zamanı

B-Damlaya damlaya göl olur.

C-Komşu komşunun külüne muhtaçtır.

20. “Yoğurdum ekşidir diyen olmaz.” Atasözü, aşağıdakilerden hangisi ile benzer anlamdadır?

A-Yalancının mumu yatsıya kadar yanar.

B-Kuzguna yavrusu anka görünür.

C-Komşunun tavuğu komşuya kaz görünür.

21. Aşağıdaki atasözlerinden hangisinin konusu farklıdır?

A-Dostun attığı taş baş yarmaz.





B-Dost kara günde belli olur.

C-Dost dostun ayıbını yüzüne karşı söyler.

GRAFİKLERLE İLGİLİ PROBLEMLER

Aşağıda 3/A sınıfındaki öğrencilerin en çok sevdiği çiçeklerin nesne grafiği oluşturulmuştur. Buna göre problemleri çözünüz.

Nesne Grafiği: En Çok Sevilen Çiçekler

Çiçekler	Çiçek Sayısı
Lale	
Gül	
Papatya	
Karanfil	

(Her görsel, 4 çiçeği göstermektedir)

3) Eşit sayısaki çiçeklerin toplamı lalelerden kaç fazladır?

5) Gül ve lale sevenlerin toplam sayısı papatya ve karanfil sevenlerin toplamından kaç fazladır?

7) 3/A sınıfında toplam kaç öğrenci vardır?

1) Lale ve gül sevenlerin toplamı kaçtır?

2) Gül sevenler papatya sevenlerden kaç fazladır?

4) Papatya sevenlerin sayısı karanfil sevenlerden kaç kişi azdır?

6) Lale ve papatya yiyenlerin sayısı gül ve karanfil sevenlerden kaç eksiktir?

8) Lale, karanfil ve papatya sevenlerin sayısı gül sevenlerin sayısından kaç fazladır?

Aşağıda bir manavda günlük satılan sebzelerin şekil grafiği oluşturulmuştur. Buna göre problemleri işlem yaparak çözünüz.

Grafik: Manavda Satılan Sebzeler

Sebzeler	Sebze Sayısı (kg)
Biber	■ ■ ■ ■ ■
Domates	■ ■ ■ ■ ■ ■ ■
Patlıcan	■ ■ ■
Soğan	■ ■ ■ ■ ■ ■ ■ ■
Patates	■ ■ ■ ■ ■ ■ ■ ■ ■ ■
Salatalık	■ ■ ■ ■ ■

(Her şekil, 3 kg sebze göstermektedir)

3) Manavda satılan patates ve soğan arasında kaç kg fark vardır?

5) Biber ve patlıcanın toplam kg'ı patatesten kaç kg fazladır?

7) Bu manavda bir günde toplam kaç kıyafet satılmıştır?

1) En çok ve en az satılan sebzeler arasındaki fark kaç kg'dır?

2) Eşit kilogramda satılan sebzelerin toplamı kaç kg'dır?

4) Kaç kg daha biber satılırsa soğan satışıyla eşitlenmiş olur?

6) Domates ve patlıcanın toplamı soğan ve patatesin toplamında kaç kg eksiktir?

8) Patates ve soğanın toplamı diğer sebzelerin toplamından kaç kg eksiktir?