

## MATEMATİK DERSİ GRAFİK OLUŞTURMA VE OKUMA

**ETKİNLİK:** Aylin Pazartesi 17, Salı 19 , Çarşamba 24 , Perşembe 21 ve Cuma günü 25 sayfa kitap okumuştur.

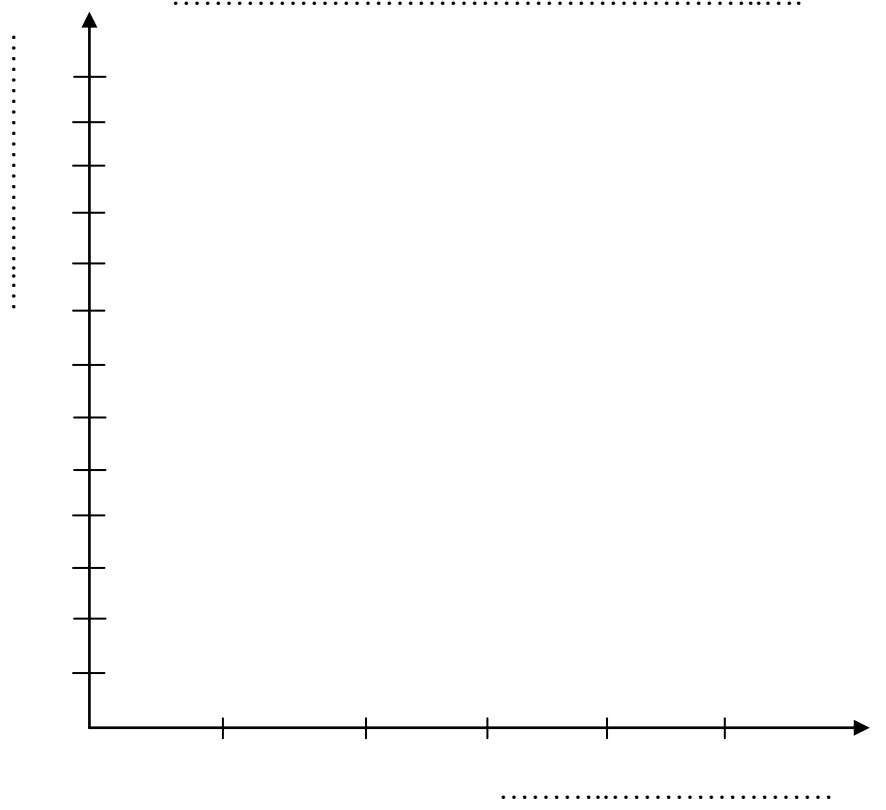
Aylin'in hafta içi okuduğu sayfa sayısına bakarak ;

### SÜTUN GRAFİĞİ

- Çetele tablosu
- Sıklık tablosu
- Sütun grafiği oluşturalım.

ÇETELE TABLOSU	

SIKLIK TABLOSU	



**ETKİNLİK :** Şükrüpaşa İlkokulu 4-A sınıfında 30 ,4-B sınıfında 25 , 4-C sınıfında 35 ve 4-D sınıfında 40 öğrenci bulunmaktadır.

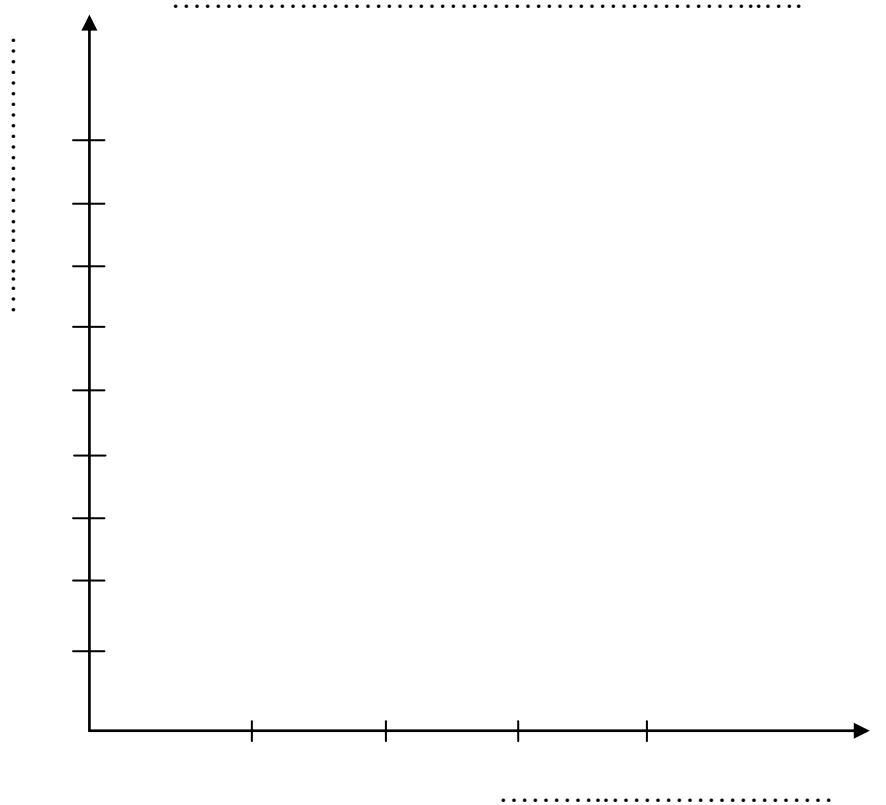
Bu bilgileri kullanarak sınıfların öğrenci sayıları ile ilgili ;

### SÜTUN GRAFİĞİ


- Çetele tablosu
- Sıklık tablosu
- Sütun grafiği oluşturalım.

ÇETELE TABLOSU	

SIKLIK TABLOSU	



## Hayvan Sayısı



**Yukarıdaki sütun grafiğinde bir çiftlikte bulunan hayvan sayıları belirtilmiştir.**

Aşağıdaki soruları grafiğe göre cevaplayınız.

1-Sayısı en az olan hayvan hangisidir?

A-inek B-koyun C-tavuk d-hindi

2-Sayısı en fazla olan hayvan hangisidir?

A-koyun B-keçi C-tavuk D-hindi

3-Çiftlikteki toplam hayvan sayısı kaçtır?

A-50 B-100 C-150 D-200

4-Çiftlikte bir inekten günde 8 litre süt alınıyor buna göre bütün ineklerden iki günde kaç litre süt alınır?

A-86 B-134 C-148 D-160

5-Çiftlikteki hangi hayvanların sayısı eşittir?

A-koyun – keçi B-inek – tavuk  
C-hindi – tavuk D-inek – keçi

6-Çiftlikteki tavuklar her gün bir kez yumurtlarsa bir haftada kaç yumurta olur?

A-120 B-360 C-420 D-480


7-Çiftliğin sahibi hindileri tanesi 25 TL den satmıştır. Çiftçi bu satıştan kaç TL kazanmıştır?

A- 40 TL B- 500 TL  
C-1000 TL D-2000 TL

8-Çiftlikteki bir ineğin fiyatı 4 keçinin fiyatına eşittir. Bir ineğin fiyatı 2.000 TL ise çiftlikteki bütün keçilerin fiyatı kaç TL dir?

A-4.000 TL B-6.000 TL  
C-8.000 TL D-10.000 TL

## Okuma Grafiği



**Grafikte Ahmet Faruk'un bir hafta boyunca okuduğu kitapların sayfa sayısı belirtilmiştir.**

Aşağıdaki soruları grafiğe göre cevaplayınız.

1-Hangi gün en fazla sayfa okuma yapmıştır?

A-Salı B-Çarşamba  
C-Perşembe D-Pazar

2-Hangi gün en az sayfa okumuştur?

A-Pazartesi B-Çarşamba  
C-Cumartesi D-Pazar

3-Hafta içi günleri toplam kaç sayfa okumuştur?

A-120 B-200 C-300 D-420

4-Hafta sonu okuduğu sayfa sayısı hafta içi okuduğu sayfa sayısından ne kadar eksiktir?

A-80 B-100 C-160 D-200

5-Her gün en fazla okuduğu gün kadar kitap okusaydı hafta boyunca toplam kaç sayfa okurdu?

A-630 B-890 C-1200 D-1450

6-Bir hafta boyunca toplam kaç sayfa kitap okumuştur?

A-200 B-280 C-400 D-670

7-Hangi gün pazar gününden 4 kat daha fazla sayfa okumuştur?

A-Salı B-Çarşamba  
C-Perşembe D-Cumartesi

8-En fazla okuduğu gün ile en az okuduğu gün arasında kaç sayfa fark vardır?

A-50 B-65 C-70 D-90

#### 4.SINIF SOSAYAL BİLGİLER BİLİM, TEKNOLOJİ VE TOPLUM ÜNİTE DEĞERLENDİRMESİ

1. Aşağıdakilerden hangisi Atatürk'ün bilime verdiği önemi gösteren bir sözüdür?

- A. Ne mutlu Türküm diyene! B. Bütün ümidim gençliktedir.  
C. Yurtta sulh, cihanda sulh. D. Hayatta en hakiki mürşit ilimdir.

2. Aşağıdakilerden hangisi okulda kullanılan teknolojik aletlerden değildir?

- A. B. C. D.



3. "Projeksiyon, mikroskop, stetoskop, fırın, televizyon" verilen teknolojik ürünlerden kaç tanesi sağlık alanında kullanılır?

- A. 2 B. 3 C. 4 D. 5

4. Aşağıdaki araçlardan hangisi iletişim alanında kullanılan teknolojik araçlardandır?

- A. Faks B. Gemi C. Takvim D. tepegöz

5. "İhtiyaçların giderilmesi ve hayatın kolaylaştırılması için ilk kez bir şeyin üretilmesine.....denir." Cümlesinde noktalı yere hangi kelime gelmelidir?

- A. İcat B. Mucit C. Teknoloji D. İhraç

6.



Yukarıdaki iki resim incelendiğinde aşağıdaki hangi sonuca ulaşamayız?

- A. İcat edilen araçlar zaman içinde değişime uğrar.  
B. Trenler zamanla daha modern hale gelmiştir.  
C. Trenler teknolojiye hiçbir şekilde etkilenmemiştir.  
D. Trenler ulaşım alanında kullanılan araçlardır.

7. Annen sana kek yapmak için hangi teknolojik aleti kullanabilir?

- A. Buzdolabı B. Mikser C. Yumurta D. Teyp

8. "Modern otomobilin ilk örneğini icat eden mühendistir." Yanda verilen açıklamaya göre sözü edilen bilim adamı kimdir?

- A. Carl Friedrich Benz B. NicolasConte C. Johann Gutenberg D. Leonardo da Vinci

9. Aşağıdaki teknolojik araçlardan hangisi bir yönü ile diğerlerinden farklıdır?

- A. Metro B. Otomobil C. Otobüs D. Kamyon

10. Aşağıdakilerden hangisi insan yaşamını kolaylaştıran ve diğer buluşlara öncülük eden en eski buluşlardan biridir?

- A. Telgraf B. Telsiz C. Tren D. Tekerlek

11. Teknolojinin ortaya çıkması, aşağıdakilerden hangisinin sonucu olabilir?

- A. İnsanların ihtiyaçları ve merak duygusu B. Yer altı kaynaklarının çok olması  
C. İnsanların doğal ortamda yaşamaktan sıkılması D. Başkalarına karşı farklı olma isteği.

**12. Teknoloji ile ilgili verilenlerden hangisi yanlıştır?**

- A. Teknolojinin gelişmesinde bilimsel çalışmalar etkilidir. B. Teknolojinin zararları çok fazladır.  
C. Teknolojiyi kullanan insanların yaşamı kolaylaşır. D. Teknoloji yaşamın her alanında etkili olmuştur.

**13. “.....icadı ile inanlar arasındaki iletişim çok kolaylaşmıştır.” Cümlesinde noktalı yere gelmesi gereken teknolojik ürün hangisi olabilir?**

- A. Radyo B. Telefon C. Telsiz D. Telgraf

**14. I. Telgraf II. Telefon III. Faks IV. İnternet**

**Yukarıdaki iletişim araçlarının bulunuşlarını eskiden günümüze doğru sıralayacak olursak hangi doğru sıralama olur?**

- A. IV, III, II, I B. I, II, III, IV C. II, I, III, IV D. I, III, II, IV

**15. Aşağıdakilerden hangisi tasarım yapmak isteyen bir kişinin özellikleri arasında yer almaz?**

- A. İçe kapanık B. Maceracı C. Meraklı D. Araştırmacı

**16. Aşağıdakilerden hangisi internetin özelliklerinden değildir?**

- A. En çok iletişim ve eğitim alanında kullanılır. B. Sadece ülke içindeki iletişimi sağlar.  
C. Yazı müzik ve görüntü gibi dosyaların aktarımı yapılabilir. D. Aşırı kullanımı insanlara zarar verebilir.

**17. Aşağıdakilerden eski ve yeni durumları verilen ürünlerden hangisinde yanlışlık yapılmıştır?**

- A. Tren- metro B. Mum- ampul C. Kayık- gemi D. Kağıt- uçak

**18. Aşağıdaki teknolojik ürünler ve kullanıldıkları alanlar eşleştirilmiştir. Hangi eşleştirme yanlış olmuştur?**

- A. Traktör- ulaşım B. Ultrason- eğitim C. İletişim- televizyon D. Ateş ölçer- sağlık

**19. Aşağıdaki ürünlerin hangisinin geri dönüşümü yoktur?**

- A. portakal B. kağıt C. plastik D. cam

**20. Çevreye geliş güzel atıldığında zehirli madde yayan ürün hangisidir?**

- A. kumaş parçası B. Odun C. Pil D. Kömür

**21. Aşağıdaki ifadelerden hangisi yanlıştır?**

- A. Teknolojik ürünleri doğru kullanmazsak zarar verebilir.  
B. Cam, kağıt, metal gibi ürünleri geri dönüşüm kutusuna atmalıyız  
C. Teknolojik ürünler zamandan tasarruf sağlar.  
D. Pilin zararını önlemek için toprağa gömülmesi gerekir.

**22. I. Hava kirliliğine neden olur.**

**II. İşlerimizi kolaylaştırır.**

**III. Fazla kullanımı vücuda zarar verebilir.**

**Yukarıdakilerden hangileri teknolojinin zararları arasında yer almaz?**

- A. I ve III B. II ve III C. Yalnız I D. Yalnız II

**23. Bilgisayar kullanımı ile ilgili verilenlerden hangisi yanlıştır?**

- A. Bilgisayar öncelikle derslere yardımcı olmak için kullanılmalıdır.  
B. Bilgisayar başında çok uzun kalmamalıdır.  
C. Bilgisayar masa başında ve uygun pozisyonda oturularak kullanılmalıdır.  
D. Bilgisayarda oyun oynamak hayal gücümüzü geliştirir.

**24. Aşağıdaki bilim adamlarından hangisi iletişim alanında yaptığı icat ile tanınmaktadır?**

- A. Pasteur B. Wright Kardeşler C. Graham Bell D. Thomas Edison