

TÜRKÇE DERSİ SORULARI

1. Hangisi soru cümlesidir?

- A) Nasılsın () B) Hoş geldiniz () C) Hoşça kal ()

2. Hangisi tek heceli bir sözcük değildir?

- A) kalp B) şiir C) tren

3. Hangi cümlede kesme (') işareti yanlış kullanılmıştır?

- A) Okul'un tatil olmasına az kaldı. B) Bafra'dan gitmeye karar verdi.
C) Yarın Erol'un doğum günüyümüş.

4. "..... notlarım düştü.." cümlesini hangisi tamamlar?

- A) Çok çalıştığım için B) Çalışmayı sevdiğim için C) Çalışmadığım için

5. Cümlelerin hangisinde olayın sebebi bellidir?

- A) Her gün okula gidiyorum. B) Hasta olduğum için gelemedim. C) Yeni kitap alacağım.

6. Hangi sözcüğün yazılışı doğrudur?

- A) fasille B) misir C) kayısı

7. Hangi cümle 10 heceden oluşmaktadır?

- A) Sicim gibi yağmur yağıyor. B) Kuru boya ile resim yapmış. C) Yemeğini bitirdin mi?

8. Seçeneklerin hangisinde birden çok varlıktan söz ediliyor?

- A) kirazlar B) erik C) kivi

9. Hangisi dört heceli bir sözcüktür?

- A) kalp B) beyin C) karaciğer

10. "yüksek – alçak", kelimelerindeki ilişki hangi seçenekte vardır?

- A) gemi – vapur B) kirlili – pis C) az – çok

11. Hangi cümlede "Kim?", sorusunun cevabı yoktur?

- A) Annem muzlu pasta yapmış. B) Evde ekmek kalmamış. C) Tayfun, okulu bitirdi.

MATEMATİK DERSİ SORULARI

12. 1 onluk ve 0 birlikten oluşan doğal sayı hangisidir?

- A) 10 B) 1 C) 0

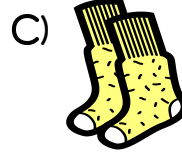
13. Aşağıdaki sayılardan hangileri büyükten küçüğe doğru sıralanmıştır?

- A) 14 – 12 – 19 B) 20 – 19 – 18 C) 5 – 7 – 3


14.  Karıncalara kaç tane daha ekleyelim ki sayıları 17 olsun?

- A) 10 B) 8 C) 6

15. Hangisinin eşi **yanlış** verilmiştir?



16. Hangi varlığın köşesi **yoktur**?



17. Otobüste 9 kadın, 5 erkek, 3 çocuk vardır. Otobüste kaç yolcu vardır?

A) 13 yolcu

B) 16 yolcu

C) 17 yolcu

18. "A + A + A = 9", ise "A" sayısı kaçtır?

A) 3

B) 4

C) 5

19. İki sayının toplamı 16'dır. Sayılardan biri 7 olduğuna göre diğer sayı kaçtır?

A) 8

B) 9

C) 10

20. Aşağıdaki çıkarma işlemlerinden hangisi **yanlıştır**?

A) $15 - 8 = 7$

B) $11 - 6 = 6$


C) $18 - 18 = 0$

21. Yandaki resimlere göre hangisi **doğrudur**?

A) İnek, filden hafiftir.

B) Fil, inekten hafiftir.

C) İnek, filden ağırdır.



22. "18.....15", sayıları arasına hangi sayılar yazılmalıdır?

A) 16, 14

B) 17, 16

C) 17, 14

HAYAT BİLGİSİ DERSİ SORULARI

23. Hangi canlı hem suda hem de karada yaşar?

A) kurbağa

B) köpek

C) zürafa

24. Hangi yiyeceği bebekler **yiyeemez**?



25. Hangisi **beslenmek için** kullandığımız araç ve gereçlerdendir?

A) fırça, sulu boya

B) çatal, bıçak

C) kalem, kâğıt

26. Hangisi kişisel bakımımız için yapılması gerekenlerden **değildir**?

A) dişlerimizi fırçalamak

B) banyo yapmak C) kitap okumak



27. Hangisi hastalıklardan korunma yollarından biridir?

A) müzik dinlemek

B) aşı olmak


C) film seyretmek

28. Hangisi sınıf eşyalarından **değildir**?



UZUNLUK ÖLÇME

1. Aşağıdaki taşıtları en uzundan kısaya doğru sıralayalım.






2. Aşağıdaki ağaçtan daha kısa bir ağaç çiziniz.




3. Aşağıdaki merdivene benzer daha uzun bir merdiven çiziniz.



4. En kısa hayvanı işaretleyiniz.



5. En uzun hayvanı işaretleyiniz.




6. Uzunlukları aynı olan çiçekleri işaretleyiniz.



7. Aşağıdaki kalemden daha uzun bir kalem çiziniz.



8. Aşağıdaki kuşları kısıdan uzuna doğru sayı vererek sıralayınız.



9. En baştaki kalemi boy sırasındaki yerine göre uygun kutuyu işaretleyin.



10. Resmi inceleyiniz. Boşlukları tamamlayınız.



Enes



İrem




Murat


a) En uzun çocuk:.....

b) En kısa çocuk:.....


11. Şekillere göre aşağıdaki boşlukları dolduralım.



1. kutu



2. kutu



3. kutu

En uzun:.....

Kısa:.....

En kısa:.....