

TÜRKÇE DERSİ SORULARI

1. "E, K, E, L" sesleriyle aşağıdaki sözcüklerden hangisi yazılabilir?
A) LEKE B) BEL C) KALE
2. Aşağıdaki sözcüklerden hangisinin birinci hecesinde "k" sesi vardır?
A) balık B) takvim C) teker
3. Aşağıdaki cümlelerden hangisinin sonuna doğru noktalama işareti konulmuştur?
A) Kim geldi? B) Nereye gidiyorsun. C) Yaşasın?
4. "Barış okula gelmedi, çünkü....." cümlesini hangisi tamamlar?
A) parka B) kızmış C) hastalanmış
5. Hangi cümlede yanlış yazılmış sözcük vardır?
A) Eve gidelim mi? B) Aplamı gördün mü? C) Bugün pazara gideceğiz.
6. "Cem, seni evde mi bekliyor?" cümlesinde hangi sözcük üç hecelidir?
A) Cem B) evde C) bekliyor
7. Aşağıdaki cümlelerin hangisinde pişmanlık ifadesi vardır?
A) Bugün çok mutluyum. B) Keşke ben de gitseydim. C) Bu evin boyası çok güzel.
8. Seçeneklerin hangisinde birden çok varlıktan söz ediliyor?
A) ördekler B) tavuk C) horoz
9. Aşağıdakilerden hangisi canlı bir varlığın ismidir?
A) peynir B) ekmek C) kanarya
10. Hangi cümledeki özel isim yanlış yazılmıştır?
A) Minnoş'a bir tas süt verdim. B) Çomar'ı veterinerine götürdük. C) Kardeşimin adı Orhan'dır.

11. Hangi sözcük ikilisi zıt anlamlıdır?
A) ıslak – yaş B) alçak – çukur C) neşeli – üzgün

MATEMATİK DERSİ SORULARI

12. On dokuzdan bir önce gelen sayının rakamla yazılışı hangisidir?
A) 18 B) 20 C) 17
13. Yirmiden başlayıp kırka kadar birer ritmik saydım. Aşağıdaki sayılardan hangisini söylemedim?
A) yirmi dört B) on sekiz C) otuz altı
14. Aşağıdaki eşitliklerden hangisi doğrudur?
A) $14 = 1 \text{ onluk}, 6 \text{ birlik}$ B) $11 = 1 \text{ onluk}, 1 \text{ birlik}$ C) $12 = 2 \text{ onluk}, 1 \text{ birlik}$
15. Aşağıdaki ifadelerden hangisi doğrudur?
A) 16, 19'dan küçüktür. B) 18, 17'den küçüktür. C) 20, 19'dan bir eksiktir.

16. Aşağıdaki elmalardan hangisi bütündür?



17. Musa'nın 6 kalemı vardı. Musa, 3 kalem daha aldı. Musa'nın kalemlerinin sayısı için hangisini söyleyebiliriz?

A) Kalemlerinin sayısı azalmıştır. B) Kalemlerinin sayısı artmıştır. C) Kalemlerinin sayısı değişmemiştir.

18. " $\triangle + \bigcirc = 10$," ifadesine göre aşağıdakilerden hangisi doğru olur?

A) $\triangle = 2$, $\bigcirc = 7$ B) $\triangle = 3$, $\bigcirc = 8$ C) $\triangle = 4$, $\bigcirc = 6$

19. Saatteki uzun çubuğa ne ad verilir?

A) akrep B) yelkovan C) alarm

20. Kalemimizin boyunu hangisiyle ölçmek daha kolaydır?

A) kulaç B) ayak C) parmak

21. Aşağıdaki işlemlerin hangisinde \square yerine (+) işareti konulmalıdır?

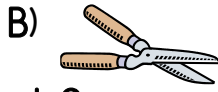
A) $9 \square 6 = 15$ B) $15 \square 6 = 9$ C) $15 \square 9 = 6$

HAYAT BİLGİSİ DERSİ SORULARI

23. Okulun açılış töreninde hangisini söyleriz?

A) İstiklal Marşı B) Okul türküsü C) Şarkı

24. Hangisi ders aracıdır?



25. En uygun oyun alanı neresidir?

A) sokaklar B) kaldırımlar C) park

26. Hangisi fiziksel bir özelliktir?

A) yaramaz olmak B) çalışkan olmak C) uzun boylu olmak

27. Yemeğe başlarken ne deriz?

A) günaydın B) afiyet olsun C) iyi akşamlar

28. Cumhuriyetin kurulmasına kim önderlik etti?

A) Atatürk B) Padişah C) Müdür

29. Kendimizi tanıtırken hangisini söylemeyiz?

A) Adımızı ve soyadımızı B) Yaşımızı C) Çantamızın rengini

30. Bebekler tek başlarına hangisini yapabilirler?

A) uyuma B) banyo yapma C) odasını toplama

31. Dünyamızı hangi kaynak ısıtır?

A) yıldızlar B) Ay C) Güneş

32. Atatürk'ün annesinin adı nedir?






A) Zübeyde Hanım B) Makbule Hanım C) Ülkü Hanım

UZUNLUK KISALIK


1) Kalemleri, uzundan kısaya doğru sıra sayıları ile sıralayınız.





2) Zürafaları, uzundan kısaya doğru sıra sayıları ile sıralayınız.



3) En uzun olanları işaretleyiniz.



4) En kısa olanları işaretleyiniz.



5) Sol başta verilen varlığın, boy sırasına göre gelmesi gereken yerdeki kutucuğun içine "x" işareti koyunuz.

