

## PAPATYA

Bayan papatya güneşin yaydığı ısıyı yapraklarında hissedince gözlerini açtı. Güneş, onu erkenden uyandırıyor. Bu durum papatyanın hoşuna gidiyordu. Kırlarda yaşıyor olmanın en güzel tarafı buydu. Güneşli ve güzel bir güne uyanmak. Yapraklarını açarak gerindi. Yavrularına baktı. Hepsi mışıl mışıl uyuyordu. Yaprakları henüz açılmamıştı.

Onlar erken kalkmayı sevmiyorlardı. Hafta sonu olduğu için anne papatya uyumalarına izin verdi. Güneş biraz daha ortalığı ısıtınca onları sulayarak besleyecekti.

## SORULAR

Parçada bulunan zıt anlamlı kelimeleri bularak yazın.

.....  
Bayan papatya güneşi görünce ne hissetti?

.....  
Anne papatya çocuklarını nasıl besleyecekti?

.....  
Anne papatya çocuklarını ne zaman besleyecekti?

.....  
Bayan papatya ve çocukları nerede yaşıyorlardı?

.....  
Erken kalkmayı sevmeyenler kimlerdi?

.....  
Bayan papatya neden uyandı?

.....  
Erken kalkmak bayan papatyayı kızdırdı mı?

## BÖLME İŞLEMLERİ

A) Aşağıdaki elmaları 2'şerli gruplandıralım. Soruları cevaplandıralım.



1. Yukarıda toplam kaç elma var? .....
2. Elmaları kaçar gruplandırdınız? .....
3. Toplam kaç grup oluştu?.....



1. Yukarıda toplam kaç elma var? .....
2. Elmaları kaçar gruplandırdınız? .....
3. Toplam kaç grup oluştu? .....



1. Yukarıda toplam kaç elma var? .....
2. Elmaları kaçar gruplandırdınız? .....
3. Toplam kaç grup oluştu? .....

B) Aşağıdaki topları 3'erli gruplandıralım. Soruları cevaplandıralım.



1. Yukarıda kaç top var? .....
2. Topları kaçar gruplandırdınız?.....
3. Toplam kaç grup oluştu?.....



1. Yukarıda kaç top var? .....
2. Topları kaçar gruplandırdınız? .....
3. Toplam kaç grup oluştu? .....



1. Yukarıda kaç top var? .....
2. Topları kaçar gruplandırdınız? .....
3. Toplam kaç grup oluştu? .....

C)Aşağıdaki çilekleri 4'er gruplandıralım. Soruları cevaplandıralım.



1. Yukarıda toplam kaç çilek var? .....
2. Çilekleri kaçar gruplandırdınız? .....
3. Toplam kaç grup oluştu? .....



1. Yukarıda toplam kaç çilek var? .....
2. Çilekleri kaçar gruplandırdınız? .....
3. Toplam kaç grup oluştu? .....



1. Yukarıda toplam kaç çilek var? .....
2. Çilekleri kaçar gruplandırdınız? .....
3. Toplam kaç grup oluştu? .....

D) Aşağıdaki elmaları 5'erli gruplandıralım. Soruları cevaplandıralım.



1. Yukarıda kaç elma var? .....
2. Elmaları kaçar gruplandırdınız? .....
3. Toplam kaç grup oluştu? .....



1. Yukarıda kaç elma var? .....
2. Elmaları kaçar gruplandırdınız? .....
3. Toplam kaç grup oluştu? .....



1. Yukarıda kaç elma var? .....
2. Elmaları kaçar gruplandırdınız? .....
3. Toplam kaç grup oluştu? .....

## BÖLME İŞLEMİ

Aşağıdaki nesnelere istenilen şekilde örneğe uygun olarak gruplayınız.

**ÖRNEK:**

2'şer grup oluşturalım.




Toplam Nesne Sayısı	Grublardaki Nesne Sayısı	Oluşan Grup Sayısı
8	2	4

3'er grup oluşturalım.




Toplam Nesne Sayısı	Grublardaki Nesne Sayısı	Oluşan Grup Sayısı
....	....	....

4'er grup oluşturalım.




Toplam Nesne Sayısı	Grublardaki Nesne Sayısı	Oluşan Grup Sayısı
....	....	....

5'er grup oluşturalım.



Toplam Nesne Sayısı	Grublardaki Nesne Sayısı	Oluşan Grup Sayısı
....	....	....

6'ar grup oluşturalım.




Toplam Nesne Sayısı	Grublardaki Nesne Sayısı	Oluşan Grup Sayısı
....	....	....

7'er grup oluřturalım.



Toplam Nesne Sayısı	Gruplardaki Nesne Sayısı	Oluřan Grup Sayısı
...	...	...

8'er grup oluřturalım.



Toplam Nesne Sayısı	Gruplardaki Nesne Sayısı	Oluřan Grup Sayısı
...	...	...

9'ar grup oluřturalım.



Toplam Nesne Sayısı	Gruplardaki Nesne Sayısı	Oluřan Grup Sayısı
...	...	...

10'ar grup oluřturalım.



Toplam Nesne Sayısı	Gruplardaki Nesne Sayısı	Oluřan Grup Sayısı
...	...	...

1'er grup oluřturalım.



Toplam Nesne Sayısı	Gruplardaki Nesne Sayısı	Oluřan Grup Sayısı
...	...	...