

DÜZLEM VE DÜZLEMSEL ŞEKİL DEĞERLENDİRME SORULARI

1. Hangisi düzlem modeline örnektir?


- A. tablo
B. basketbol topu
C. arabanın tekerleği

2. Verilen düzlemsel şekillerden hangisinin kenar sayısı daha azdır?

- A.  B.  C. 



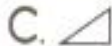
3. Hangisi düzlemsel şekil değildir?

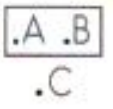
- A.  B.  C. 

4.  Kitap üzerinde kaç tane düzlemsel şekil vardır?

- A. 6 B. 5 C. 4

5. Aşağıdaki düzlemsel şekillerden hangisi farklıdır?

- A.  B.  C. 

6.  Hangi nokta düzlemin dış bölgesindedir?




- A. C noktası
B. B noktası
C. A noktası

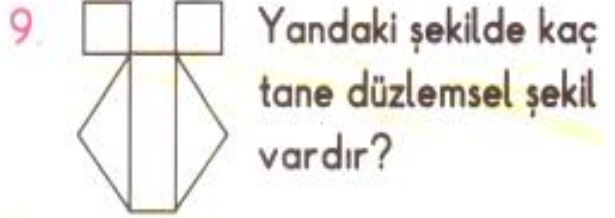
7. Aşağıdaki cisimlerden hangisinin yüzeyi diğerlerinden farklıdır?

- A.  B.  C. 



Halı üzerinde en fazla olan düzlemsel şekil hangisidir?

- A.  B.  C. 





- A. 5 B. 6 C. 7



- A.  B.  C. 



Yukarıdaki şeklin oluşturulmasında hangi düzlemsel şekil daha az kullanılmıştır?

- A.  B.  C. 

FEN BİLİMLERİ GEZEGENİMİZİ TANIYALIM ETKİNLİĞİ

1) Aşağıdaki ifadelerden doğru olanların başındaki kutucuğu kırmızıya, yanlış olanların başındaki kutucuğu maviye boyayınız.

- Dünyamızın şekli küreye benzer.
- Geçmişte insanlar dünyanın şekli ile ilgili farklı görüşler ileri sürmüşler.
- Eskiden dünyanın düz olduğuna inanan insanlar varmış
- Aristo, Pisagor, Biruni ve Macellan dünyanın yuvarlak olduğunu düşünen bilim adamlarıdır.
- Eskiden insanlar dünyanın şeklini merak ediyorlarmış.
- Eskiden dünyanın düz bir tepsi biçiminde olduğu, bir öküzün boynuzları üzerinde durduğuna inanan insanlar varmış.
- Bir yerden başlayıp hep aynı yönde gidersek kayboluruz.
- Macellan hep aynı yönde giderek başladığı noktaya dönüp dünyanın yuvarlak olduğunu ispatlamıştır.
- Gelişen bilim ve teknoloji sayesinde, uzaydan çekilen fotoğraflarla Dünya'nın küre şeklinde olduğu ispatlanmıştır.
- Dünya yüzeyinde karalar ve sular yer alır.
- İnsanların, hayvanların ve bitkilerin üzerinde yaşadığı taş kaya ve toprak gibi maddelerden oluşan tabakaya kara tabakası denir.
- Okyanuslar, denizler ve göllere de su tabakası denir.
- Dünya yüzeyinin dörtte üçü karalarla dörtte biri sularla kaplıdır.
- Dünyayı çevreleyen gaz tabakasına hava tabakası denir.
- Dünyayı çevreleyen atmosfer tabakası vardır.
- Yağmur rüzgar gibi hava olaylarının gerçekleştiği tabaka kara tabakasıdır.
- Hava tabakasını göremeyiz ancak var olduğunu biliriz.
- Dünyada karadan fazla su tabakası vardır?
- Dünyanın şekli günümüzde tam olarak biliniyor ve küre şeklindedir.
- Kara tabakası taş, kaya, toprak gibi maddelerden oluşmuştur.
- Dünyanın gözlemlenebilir tabakaları vardır?

HARF - HECE BİLGİSİ ETKİNLİĞİ

	Hecelerine ayırma	Hece sayısı	Ünsüz (sessiz) harfler	Kalın ünlüler (sesliler)	İnce ünlüler (sesliler)
Gözyaşı	Göz-ya-şı	3	g-z-y-ş	a-ı	ö
Koyun					
Solucan					
Barbunya					
portakal					
Öksürük					
Üniversite					
Balerin					
Okyanus					
Kitaplık					
Öğrenci					
aile					
Şelale					
Tutarlılık					
Oyalı					
Sahil					
Oyuncakçı					
Gezegenler					
Sefalet					
Evimiz					
Gözlükçü					
Dolmabahçe					
Sorumluluk					
Kalem					
Oduncu					
Sonbahar					
Gazeteci					
Armağan					
Elektrik					
Tramvay					
Şekerlik					
Köylü					
Kocaman					
Atatürk					

HARF,HECE,KELİME,CÜMLE DEĞERLENDİRME TESTİ

1-Aşağıdaki kelimelerin hangisinde ünsüz harf sayısı daha *fazladır*?

- A. voleybol B. Halı C. Cevizli

2- Aşağıdakilerden hangisinde hece sayısı daha *fazladır*?

- A.gelecekler B. Konuşuyorum C. Çalışıyor

3-Aşağıdaki kelimelerden hangisinde hece ayrımı *yanlış yapılmıştır*?

- A. ge- li- yo-rum B. Oy – nu – yo –rum C. Sev- i –yo – rum

4. "*Sinem , Barış , Aslı ve Umur pazara gitti mi?*" cümlesinde kaç tane iki heceli *kelime vardır*?

- A. 3 B. 4 C. 5

5- Hangisi tek heceli kelime *değildir*?

- A. Türk B. Dört C. Oya

6- Aşağıdakilerden hangisi sözlükte *en sonra gelir*?

- A. hizmetli B. Öğretmen C. Müdür

7- "*Muhtaç olduğun kudret damarlarındaki asil kanda mevcuttur.*"özdeyişinde kaç tane hece vardır?

- A. 19 B. 20 C. 21

8- Aşağıdaki kelimelerden hangisi hecelerine *yanlış ayrılmıştır*?

- A. el- ma B. La- ha – na C port- a – kal

9-Aşağıdakilerden hangisi *hecedir*?

- A. km B. O C. Sn

10- Türkçe kelimelerin başında hangi harf *bulunmaz*?

- A. Ğ B. H C. Z

11- Hangi seçenekte *ünlü* harflerin *hepsi vardır*?

- A. e - i - ö - ü B. a - ı - o u C. a - e - ı - i - o - ö - u - ü

12- "*Akşam parkta seni gördüm.*" tümcesinde kaç tane iki heceli sözcük vardır?

- A) 2 B) 3 C) 4

13- Aşağıdaki kelimelerden hangisi sözlükte diğerlerinden *sonra yer alır*?

- A. kaz B. ördek C. tavuk

14- Alfabemizin *sekizinci* harfi *hangisidir*?

- A. E B. F C. G

15- "*Başöğretmen*" kelimesinin hecelerine ayrılışı doğru olarak hangi seçenekte *verilmiştir*?

- A. baş- öğ – ret – men B. ba – şöğ – ret – men C. baş – öğr – et – men

16- "*Sınıfımıza yeni bir yazı tahtası alındı*" tümcesi kaç heceden oluşmuştur?

- A) 15 B)16 C)17

17- "*traktörler*" sözcüğü hangi seçenekte hecelerine *doğru ayrılmıştır*?

- A) t-rak-tör-ler B)trak-tö-r-ler C)trak-tör-ler

18-Aşağıdaki tümcelerden hangisi **16** heceden **oluşturmuştur**?

- A) Kalem kutusunu çantasına koymayı unutmuş. B) Çıkarken aradığımda evde değildin.
C) Misafirlerimiz bugün geliyor.

19- "*Şaşkın çocuk düşüyordu.*" tümcesinde hangi sözcüğün hece sayısı diğerlerinden *fazladır*?

- A) şaşkın B) çocuk C) düşüyordu

20- Aşağıdaki kelime çiftlerinden hangisinin *hece sayısı eşit değildir*?

- a) telefon-ticaret b) portakal-bilgisayar c) fotoğraf-öğrenci