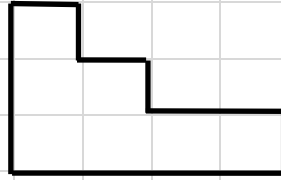

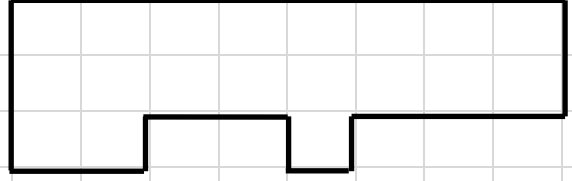
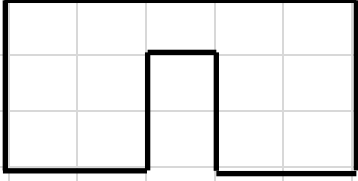
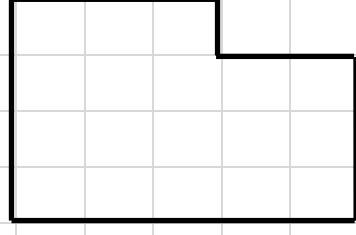
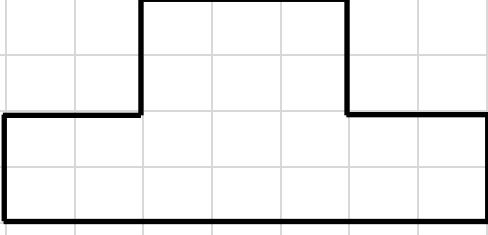


## ÇEVRE UZUNLUĞU EŞİT DÜZLEMSEL ŞEKİLLER

Aşağıdaki düzlemsel şekillerin çevre uzunluğuna eşit farklı düzlemsel şekilleri altlarındaki boşluklara çiziniz.



## KARENİN ÇEVRESİNİN HESAPLANMASI

**DİKKAT:** Karenin çevresinin uzunluğu hesaplanırken bir kenar uzunluğu 4 ile çarpılır. Ya da dört kenar uzunluğu toplanır.

1. Bir kenar uzunluğu 38 cm olan karenin çevresi kaç cm'dir?	4. Sebze bahçesinin bir kenar uzunluğu 650 m'dir. Bu bahçenin çevresi kaç METRE'dir?
2. Bir kenar uzunluğu 97 m olan karenin çevresi kaç m'dir?	5. Kare şeklindeki panonun bir kenarı 67 cm'dir. Bu panonun çevresi kaç <u>MİLİMETRE</u> 'dir?
3. Kare şeklindeki tarlanın bir kenar uzunluğu 348 m'dir. Tarlanın çevresi kaç m'dir?	6. Defterime çizdiğim karenin bir kenarı 20 cm'dir. Bu karenin çevresi kaç <u>mm</u> 'dir?

**DİKKAT:** Çevresinin uzunluğu verilmiş karenin bir kenarının uzunluğunu bulmak için çevre uzunluğu 4'e bölünür.

1. Çevresi 20 cm olan bir karenin bir kenar uzunluğu kaç cm'dir?	4. Çevresi 412 m olan kare şeklindeki arsanın bir kenar uzunluğu kaç m'dir?
2. Çevresi 280 cm olan kare şeklindeki bir masa örtüsünün bir kenarının uzunluğu kaç cm'dir?	5. Çevre uzunluğu 800 m'olan karenin bir kenar uzunluğu kaç <u>METRE</u> 'dir?
3. Kare şeklindeki bir havuzun çevresi 224 m'dir. Bu havuzun <u>bir kenar uzunluğu</u> kaç m'dir?	6. Çevre uzunluğu 260 mm olan karenin bir kenar uzunluğu kaç mm'dir?

**ÖRNEK:** Bir kenarının uzunluğu 32 m olan kare şeklindeki bir bahçenin etrafına 3 sıra dikenli tel çekilecektir. Kaç metre dikenli tel gereklidir? **ÇÖZÜM:** Önce bahçenin çevresi hesaplanır.  $4 \times 32 = 128$  m Sonra 3 sıra tel çekileceği için çevre uzunluğu 3 ile çarpılır.  $3 \times 128 = 384$  metre dikenli tel gereklidir.

**1.** Bir kenar uzunluğu 64 m olan arsanın çevresine 4 sıra tel çekilecektir. Buraya kaç metre tel gereklidir?

**3.** Bir kenar uzunluğu 200 m olan tarlanın çevresine 6 sıra dikenli tel çekilecektir. Kaç metre tel gereklidir?

**2.** Kare şeklindeki tarlamızın çevresine 5 sıra tel çekmek istiyoruz. Bir kenar uzunluğu 175 m olduğuna göre kaç metre tel lazımdır?

**4.** Bir kenar uzunluğu 80 m olan kare şeklindeki arsanın çevresine 7 sıra tel çekmek istiyoruz. Kaç metre tel gereklidir?

**ÖRNEK:** Bir kenarının uzunluğu 84 m olan kare şeklindeki bir tarlanın çevresine 6 m ara ile fidan dikilecektir. Kaç fidana ihtiyaç olur?

**ÇÖZÜM:** Önce tarlanın çevresi bulunur.  $4 \times 84 = 336$  metre Sonra fidanlar arası 6 metre olacağı için çevre uzunluğu 6'ya bölünür.  $336 : 6 = 56$  fidana ihtiyaç olur.

**1.** Bir kenar uzunluğu 65 m olan kare şeklindeki tarlanın etrafına 5 metre aralıklarla direk dikilecektir. Kaç direğe ihtiyaç vardır?

**3.** Kare biçimindeki bahçenin bir kenarı 70 m'dir. Bu bahçenin çevresine 5 m aralıklarla direk dikilecektir. Kaç tane direk dikilecektir?

**2.** Kare şeklindeki bahçenin bir kenar uzunluğu 214 m'dir. Bu bahçenin çevresine 8 metreye bir fidan dikilecektir. Kaç fidan almamız gereklidir?

**4.** Bir kenar uzunluğu 63 m olan kare şeklindeki arsanın etrafına 6 m aralıklarla çam fidanı dikilecektir. Kaç tane çam fidanı gereklidir?

## YAZIM YANLIŞLARI VE NOKTALAMA İŞARETLERİ

1 – Aşağıdaki cümlelerin hangisinde yazım yanlışı vardır?

- A) Benim annem dünyanın en tatlısıdır. B) Dünyanın güneş etrafında dolanması ile mevsimler oluşur.  
C) Bütün gece ay ışığında ders çalıştı. D) Kardeşimin bir gülüşünü dünyalara değişmem.

2 – Aşağıdaki cümlelerin hangisinde yazım yanlışı vardır?

- A) Çocuklar bahçede maç yapıyordu. B) Senin de saatin var , bak sana.  
C) Bizim evde sizin sitede. D) Onlar söylemese de ben biliyorum.

3 – Aşağıdaki cümlelerin hangisinde yazım yanlışı yoktur?

- A) Madem ki istiyorsun öyleyse gel. B) Senin ki kadar büyük olmadı.  
C) Evde ki hesap çarşıya uymadı. D) Anladım ki olay öyle değilmiş.

4 – \* herkez \* maydanos \* tıraş \* kıral \* eşortman \* kirpik

Yukarıda verilen kelimelerden kaç tanesinin yazımı doğrudur ?

- A) 2 B) 3 C) 4 D) 5

5 – Aşağıdaki cümlelerin hangisinde virgül yanlışı kullanılmıştır?

- A) Oğlum, seni çok özledim. B) Berke, Arda ve Taha sınava girmemiş.  
C) Küçük çocuk, yaşlı adamın elini öptü. D) Evet sen de, dışarıya çık.

6 – “ Sınıfta en samimi olduğum arkadaşlarım şunlardır ( ) Yiğit ( ) Sarp ( )”

Yukarıdaki cümlede parantez içlerine sırasıyla hangi noktalama işaretleri gelmelidir ?

- A) ( , ) ( . ) ( . ) B) ( ; ) ( , ) ( . ) C) ( , ) ( , ) ( . ) D) ( : ) ( , ) ( . )

7 – “Annesi dışarıda oynayan çocuğuna sakın yola çıkma diye bağırdı.”

Yukarıdaki cümlede hangi bölüm tırnak içine alınmalıdır?

- A) annesi dışarıda oynayan çocuğuna B) dışarıda oynayan çocuğuna  
C) sakın yola çıkma D) yola çıkma diye bağırdı

8 – Aşağıdakilerin hangisinde noktalama yanlışı yoktur?

- A) Yardım eder mi etmez mi bilmiyorum? B) Problemleri yavaş, yavaş çözüyor.  
C) Annem 3 m.’den fazla kumaş kullandı. D) Otobüs 15.00’te hareket etti.

9 – Öğretmen ( ) şaşkınlıkla toplanan öğrencilerine baktı :

— Neden toplandınız burada ( )

Öğrenciler ( )

— Sizi bekliyorduk ( ) dedi ( )

Yukarıdaki paragrafta parantez içlerine sırasıyla hangi noktalama işaretleri gelmelidir?

- A) ( : ) ( “ ) ( “ ) ( , ) ( . ) B) ( , ) ( ! ) ( : ) ( , ) ( . )  
C) ( , ) ( ? ) ( : ) ( , ) ( . ) D) ( ; ) ( ? ) ( : ) ( ; ) ( . )

10 – Çok mu canın acıyor ( ) dedi ( )

Yukarıdaki cümlede sırasıyla parantez içlerine hangi noktalama işaretleri yazılmalıdır?

- A) ( ? ) ( . ) B) ( ! ) ( . ) C) ( , ) ( . ) D) ( ! ) ( ... )

11 – Aşağıdaki cümlelerin hangisinde yazım hatası yapılmıştır?

- A) Yerinize otururmusunuz? B) Bu yazıyı daha önce okudunuz mu?  
C) Çocuklar okula mı gittiler? D) Öğretmenin sorduğu bilmeceyi bildiniz mi?

12- Aşağıdaki kelimelerin hangisinde özel isimlerin yazımı ile ilgili bir yanlışlık yapılmıştır?

- A) Salı günü sınav olacağız. B) Pikniğe çarşamba günü mü gideceğiz.  
C) Erdem’in çantasında ödevi yokmuş? D) Okullar Pazartesi tatılmış.

13- Aşağıdaki cümlelerin hangisinde kişi ile ilgili soru sorulmaktadır?

- A) Kitapları nereye koydun? B) Biraz önce gelen sen miydin?  
C) Meyveleri sepete dizdin mi? D) Hayvanların yemini verdin mi?

14- Bir kelimenin doğru yazılıp yazılmadığını hangi kaynaktan öğreniriz?

- A) Ansiklopediden B) Sözlük C) Ders kitaplarımız D) Yazım kılavuzu