
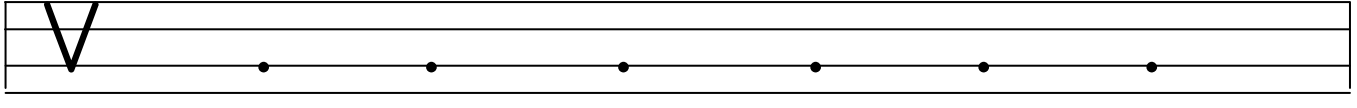
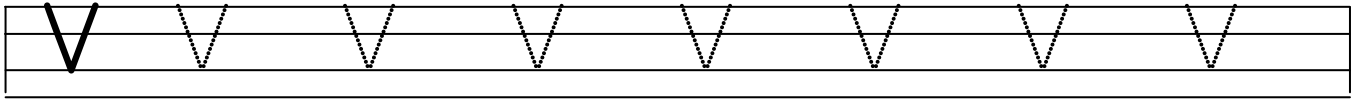
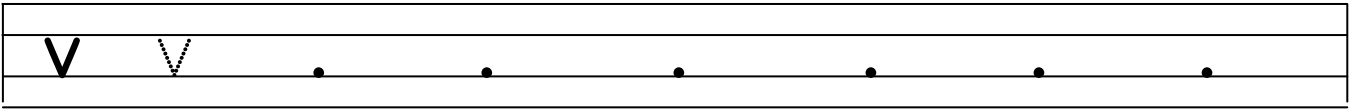
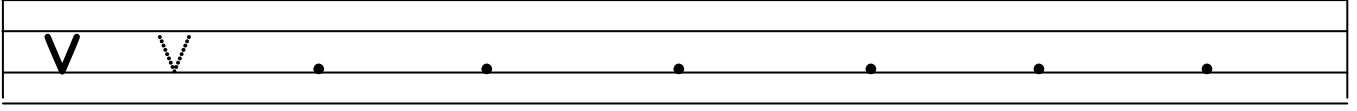
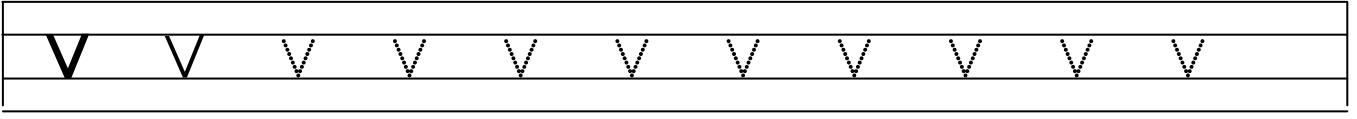


V**v**

V

v



Aşağıdaki tablodaki açık heceleri iyice okutup ezberletin. Altına yazdırın.


va	ve	vi	vi	vo	vö	vu	vü
.....

Aşağıdaki tablodaki kapalı heceleri iyice okutup ezberletin. Altına yazdırın.


av	ev	iv	iv	ov	öv	uv	üv
.....



.azo



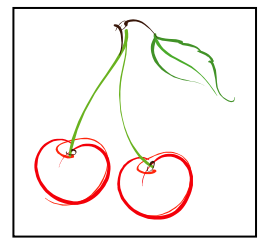
.işne



. aliz



ta . şan



ha . uç

Çok Okuyalım altı çizili olanları defterimize ezbere yazalım.

va ve vi vo vö vu vü av ev iv ov öv uv üv vana
vaka vatani vazo veli veya vida Avni avda evde evli
övgü mavi tava kivi dava deve geveze yuva lavabo
hava avcı veda vadi kova ayva çivi avize var vah ver
viz vur tav sav sev dev döv Veli Vildan Volkan
Vural Vedat Veysel Sevda Evrim Servet Sevim Sevgi
Sevil Savaş Nevin Merve Kevser Pervin Cavit
Levent Yavuz Cevdet evet ödev vakit virüs valiz
vatan vasiyet vakum televizyon sevimli takvim
ceviz tavla vitrin varlık yavaş devrildi devam bavul
vahşi vazgeçmek zavallı çavdar paçavra çevre çevir
cevap cetvel kavurma gevrek davul havlu tavan
kırırcık vergi vapur vagon güvercin vişne civciv havuç
küvet yavru tavşan manav cezve davet kavun havuz
görev devlet çuval vücut kavanoz tavuk duvar
meyve tuvalet kahve hayvan eldiven

HAYVANLAR

Çevremizde birçok hayvan var. Sevimli güvercinler, havuç seven tavşanlar, vahşi timsahlar ve tavuklar. Yavaş kaplumbağaları ve minik civcivleri unutmamak gerekir. Bütün hayvanlar bizlere yararlıdır. Hepsini seviyoruz.

ÇIKARMA İŞLEMİ


Önce ÇIKARDIĞIMIZ sayı kadar şeklin üzerini çiziyoruz. Sonra çizilmeden KALANLARI sayıp sonuca yazıyoruz. Hadi kolay gelsin...



$$5 - 2 = 3$$



$$11 - 3 = .$$



$$9 - 6 = .$$



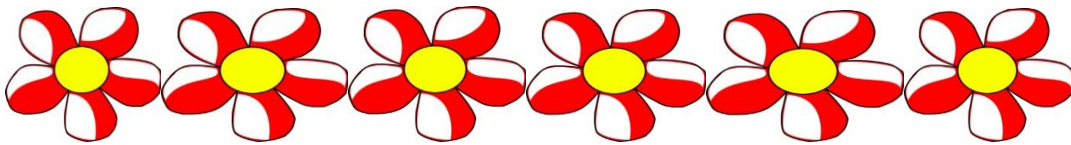
$$6 - 1 = .$$



$$7 - 4 = .$$



$$11 - 3 = .$$



$$6 - 4 = .$$



$$9 - 5 = .$$

ÇIKARMA İŞLEMİ

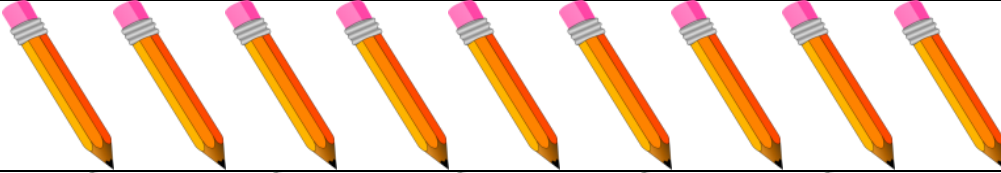
Önce ÇIKARDIĞIMIZ sayı kadar şeklin üzerini çiziyoruz. Sonra çizilmeden KALANLARI sayıp sonuca yazıyoruz. Hadi kolay gelsin...




$$18 - 6 = .$$




$$12 - 3 = .$$




$$9 - 9 = .$$



$$14 - 8 = .$$



$$5 - 0 = .$$



$$6 - 3 = .$$



$$6 - 5 = .$$



$$7 - 3 = .$$