

ADI SOYADI:	
NO:	




TARİH:	
BAŞARISI:	

MATEMATİK

(Üç Basamaklı Sayıları Okur-Yazar, Basamak Adlarını ve Değerlerini Gösterir)

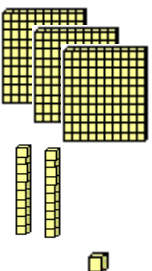
1) Aşağıdakilerden hangisi üç basamaklı bir sayıdır?

- a. 123 b. 2027 c. 3

2)  Bugün tam dört yüz üç tane havuç yedim :)

Tavşan kaç tane havuç yemiştir?

- a. 213 b. 403 c. 430

3)  Yandaki sayı bloklarıyla gösterilen sayının okunuşu hangisidir?
a. üç yirmi iki
b. üç yüz yirmi
c. üç yüz yirmi bir

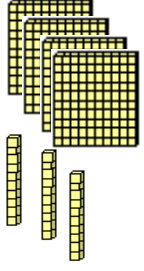
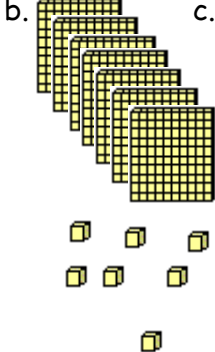

4) "907" sayısının yüzler basamağında hangi rakam vardır?

- a. 9 b. 0 c. 7

5) "857" sayısının onlar basamağının basamak değeri kaçtır?


- a. 80 b. 50 c. 70

6) "270" sayısının sayı bloklarıyla gösterimi aşağıdaki lardan hangisiyle gösterilmiştir?

a.  b.  c. 

7) "987" sayısının çözümlenmiş hali aşağıdakilerden hangisidir?

- a. 9 yüzlük + 7 onluk + 8 birlik
b. 8 yüzlük + 9 onluk + 7 birlik
c. 9 yüzlük + 8 onluk + 7 birlik

8)  Şirin köyümüzde, "üç basamaklı en küçük sayı" kadar şirin yaşamaktadır.

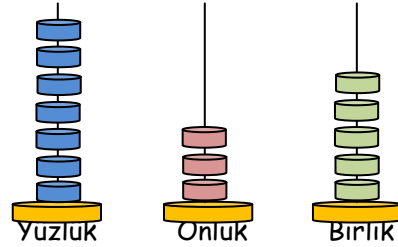
Buna göre Şirine'nin Şirin Köyü'nde kaç şirin vardır?

- a. 999 b. 100 c. 10

9) "5 yüzlük ve 1 birlikten" oluşan sayı kaçtır?

- a. 510 b. 105 c. 501


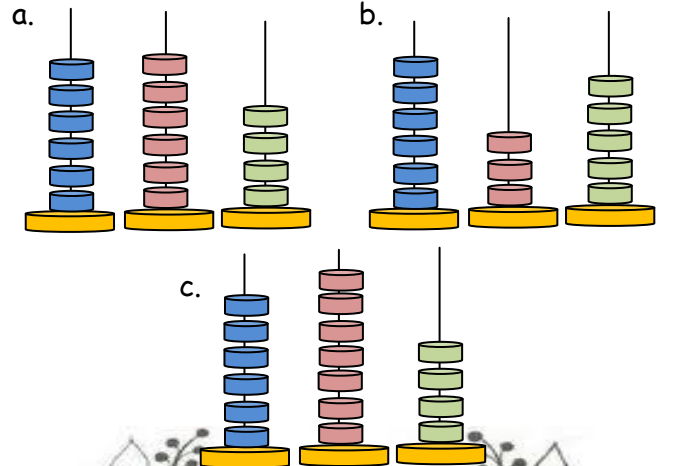
10)



Yukarıda abaküsle gösterilen sayı kaçtır?

- a. 753 b. 705 c. 735

11) 674 sayısının abaküsle gösterimi hangisidir?



12)




Ispanak yediğimde "en büyük üç basamaklı sayı" ağırlığındaki arabaları kaldırabilirim :)

Buna göre Temel Reis ıspanak yediğinde ne kadarlık arabaları kaldırabilir ?

- a. 100 kg b. 999 kg c. 900 kg

13) "Trabzonspor'un tarihinde önemli yer tutan Hami Mandıralı, Trabzonsporda oynadığı tüm yıllarda toplam üç yüz doksan beş maçta , iki yüz elli altı gol atmıştır."



Buna göre Hami Mandıralı'nın oynadığı maç ve attığı golu gösterir seçenek aşağıdakilerden hangisidir?

Maç Sayısı Gol Sayısı

- | | | |
|----|-----|-----|
| a. | 359 | 206 |
| b. | 953 | 256 |
| c. | 395 | 256 |

14)

Aşağıdaki sayılardan hangisinin onlar basamağında 4 vardır?



- a. 404 b. 400 c. 746

15)

Aşağıdaki sayılardan hangisinin yüzler basamağının basamak değeri 800 dür ?



- a. 183 b. 809 c. 987

16) "444" sayısının yüzler basamağındaki rakamın, sayı değeri aşağıdakilerden hangisidir ?

- a. 4 b. 40 c. 400

17) " 473 " sayısı ile ilgili aşağıda verilen bilgilerden hangisi ya da yangileri yanlıştır ?

1. Yüzler basamağının sayı değeri 4'tür.
2. Okunuşu "dört yüz yetmiş üçtür".
3. Onlar basamağının basamak değeri 70'dir.
4. 2 basamaklı bir sayıdır.

- a. 4 ve 2 b. 4 ve 1 c. Yalnız 4

18) " 608 " sayısı ile ilgili aşağıda verilen bilgilerden hangisi ya da yangileri yanlıştır ?

1. Yüzler basamağının basamak değeri 600'dür.
2. 6 yüzlük ve 8 onluktan oluşmaktır.
3. Onlar basamağında 6 vardır.
4. 3 basamaklı bir sayıdır.

- a. 1 ve 3 b. 1 ve 2 c. 2 ve 3

19) " 900 " sayısı ile ilgili aşağıda verilen bilgilerden hangisi ya da yangileri yanlıştır ?

1. Sadece 9 yüzlükten oluşur.
2. Dokuz yüz şeklinde okunur.
3. Onlar basamağının basamak değeri 0'dır.
4. 3 basamaklı bir sayıdır.

- a. Hiçbiri b. 1 ve 2 c. Hepsi

20)

Futbol hayatım boyunca 159 gol attım.



Yukardaki futbolcu şimdiye kadar kaç gol atmıştır?
a. yüz elli yedi b. yüz elli dokuz c. yüz elli

TEST BİTTİ

Cevaplarınızı
Kontrol Ediniz

