

TÜRKÇE TEST

1/Hangi kelime sözlükte en sonda yer alır?

- a)türkü b)türbe c)türlü

2/Aşağıdaki tümcelerın hangisinde sebep-sonuç ilişkisi vardır?

- a) Babamla alışverişe gittik.
b) Eve geç kalınca, annem kızdı.
c) Ödevlerimi kolayca bitirdim.

3/“Teyzem, kedisi Minnoş’u yanında getirdi.” cümlede özel ad olan sözcük hangisidir?

- A.Minnoş B. Teyzem C. Kedi

4/“Canlı” sözcüğü hangi cümlede diğerlerinden farklı anlamda kullanılmıştır?

- A) Bazı canlılar otlı beslenirler.
B) Orhan çok canlı bir çocuktur.
C) Çiçekler de canlı birer varlıktır.

5/Hangi seçenekteki sözcükler anlam ilişkisi bakımından diğerlerinden farklıdır?

- A) Kalın – ince B) siyah-kara C) Son - ilk

6/ 1.arayan 2.kalır 3.kusursuz 4.dostsuz 5.dost Yukarıdaki sözcüklerle kurallı ve anlamlı bir cümle oluşturulduğunda sıralama nasıl olmalıdır?

- A)4-2-3-1-5 B)1-2-3-4-5
C)3-5-1-4-2 D)3-4-1-5-2

7/“Nasıl” sözcüğü aşağıdaki cümlelerin hangisine imkânsızlık anlamı katmıştır ?

- A) Bir canlı havasız nasıl yaşar ?
B) Nasıl bir dünyada yaşamak istersin ?
C) O'nun nasıl çalıştığını gördünüz mü?

8/ “Hiç kimsenin kalbini kırmaz, ağzından kötü laf çıkmazdı.” cümlesinde hangi kelime yanlış yazılmıştır?

- A-ağzından B-kalbini C-kimsenin

9/ “Hey Ömer()Bu gün okula gelecek misin()” cümlesinde parantez içlerine sırasıyla hangi noktalama işaretleri gelmelidir?

- A) (,) (!) B) (!) (.) C) (!) (?) D) (,) (?)

10/ “Halbuki kabahatim yoktu.” cümlesinde geçen “kabahat” sözcüğünün eş anlamlısı aşağıdakilerden hangisidir?

- A- suç B- yüz C- ısrar D- merak

15/ “Arkadaşının saçına dokundu.” cümlesindeki altı çizili sözcüğün anlamı aşağıdakilerden hangisinde vardır?

- A) Arkadaşının sözleri bana çok dokundu.
B) Canım çok sıkılıyor, bana dokunmayın.
C) Tencereye dokunarak sıcak olduğunu anladım.

16/ Aşağıdaki cümlelerin hangisinde “yatmak” sözcüğü farklı anlamda kullanılmıştır?

- A-Saat on iki olmasına rağmen kimse yatmadı.
B-Anladığıma göre bizim gezi işi yattı.
C-Çocuklar yatınca balkona oturdum.

17/ “Bırakmak” sözcüğü hangi cümlede “ertelemek” anlamında kullanılmıştır?

- A) Kötü alışkanlıklarını bıraktı.
B) Artık benim peşimi bırak, dedi.
C) Araba alma işini haftaya bıraktı.

18/ “Dün pazardan peynir aldım.” cümlesinde aşağıdaki sorulardan hangisinin cevabı yoktur?

- A) Nereden? B) Niçin? C)Ne zaman?

19/ Hangi cümleın sonuna ünlem işareti konulmalıdır?

- A-Buraları hiç görmediniz
B-Vay anam, vay
C-Nasıl istiyorsan öyle olsun

20/ Aşağıdaki cümlelerden hangisinde abartı vardır?

- A-Piknikte bir fıkra anlattı, bütün sınıf çok güldü
B- Canım anneciğim, doğum günümde bana çok güzel bir sürpriz yaptı.
C- Doğum gününde dağ kadar bir pasta yaptırmış

Aşağıdaki cümlelerdeki sesli harflerin altlarını kırmızı kalemle çiz

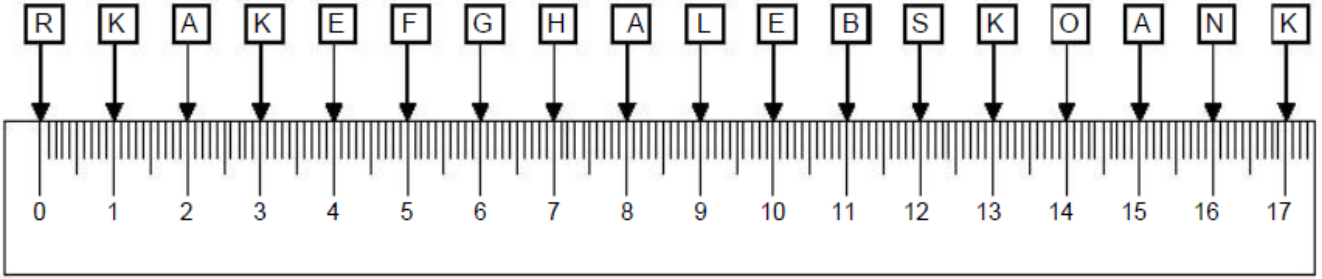
Atatürk bütün çocukları çok severdi.

Bu hafta bayramı coşkuyla kutlayacağız.

Başarılı olmamız için çok çalışmamız gerekir.

Ekmek fiyatlarına zam gelmiş.

1. Uzunluęu oku ve karřılıęına gelen harfi ařaęıdaki kutucuklara yaz.



12 cm	8 cm	11 cm	2 cm	7 cm

10 cm	0 cm	17 cm	4 cm	16 cm

1 cm	15 cm	9 cm	3 cm

Verilen uzunluklar kadar çizgiler çiziniz.

3 cm




5 cm

8 cm


4 cm

6 cm



- * Köpek ile peynir arasındaki mesafe santimetredir.
- * Köpek ile fare arasındaki mesafe santimetredir.
- * Köpek ile kedi arasındaki mesafe santimetredir.
- * Peynir ile fare arasındaki mesafe santimetredir.
- * Kedi ile fare arasındaki mesafe_ santimetredir.


Aşağıdaki noktali yerlere uygun sayıları yazınız.



Karıncanın uzunluğu santimetredir



Kılıcın uzunluğu santimetredir



Balığın uzunluğu santimetredir








Boya fırçasının uzunluğu santimetredir



Boya kaleminin uzunluğu santimetredir

UZUNLUKLARI ÖLÇME

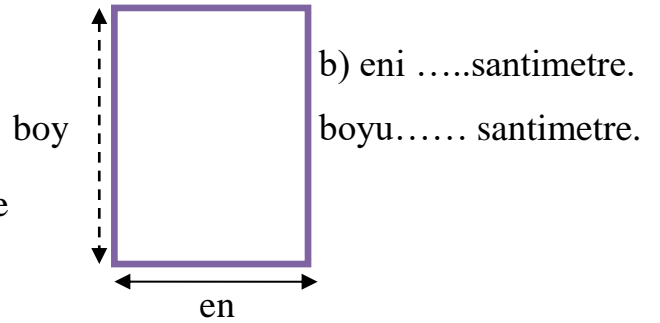
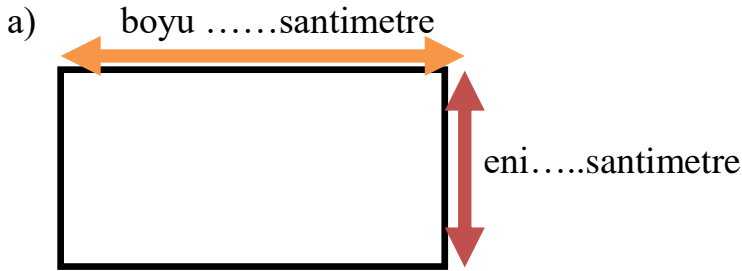
*Aşağıdaki çubukların uzunluğunu cetvelinizle ölçerek kaç santimetre olduğunu yazın.

- a) santimetre
- b) santimetre
- c) santimetre
- ç) santimetre
- d) santimetre

*Aşağıdaki çubukları verilen uzunluk kadar ölçüp boyayınız.

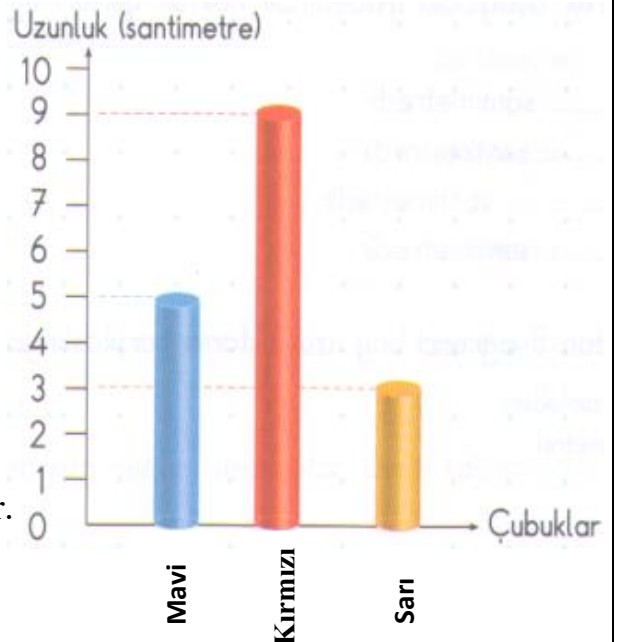
- a) 7 santimetre boya 
- b) 5 santimetre boya 
- c) 13 santimetre boya 
- ç) 10 santimetre boya 
- d) 9 santimetre boya 

* Aşağıdaki şekillerin enini ve boyunu ölçüp yazınız.

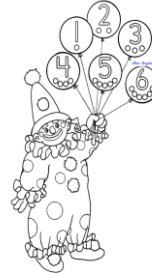



* Aşağıdaki grafiğe göre noktalı yerleri doldurunuz.

- a)Mavi çubuğun uzunluğu.....santimetredir.
- b)Kırmızı çubuğun uzunluğu.....santimetredir.
- c)Sarı çubuğun uzunluğu..... santimetredir.
- ç)Sarı çubuk kırmızı çubuktansantimetre kısadır.
- d)Kırmızı çubuk mavi çubuktan.....santimetre uzundur.
- e)Üç çubuğun uzunlukları toplamı Santimetredir.



UZUNLUK ÖLÇÜLERİ



!!! Ölçme yaparken resimlerin altlarındaki noktaları kullanın.

*Pinokyo eve giderse kaç cm gitmiş olur? santimetre

*Pinokyo çam ağacına giderse kaç cm gitmiş olur? santimetre

*Pinokyo keçiye giderse kaç cm gitmiş olur? santimetre

*Geyik keçiye giderse kaç cm gitmiş olur? santimetre

*Geyik çam ağacına giderse kaç cm gitmiş olur? santimetre

*Geyik kardan adama giderse kaç cm gitmiş olur? santimetre